

636

E

نام :
نام خانوادگی :
محل امضاء :

عصر جمعه
۹۲/۱۱/۱۸



جمهوری اسلامی ایران
وزارت علوم، تحقیقات و فناوری
سازمان سنجش آموزش کشور

اگر دانشگاه اصلاح شود مملکت اصلاح می‌شود.
امام خمینی (ره)

آزمون ورودی دوره‌های کارشناسی ارشد ناپیوسته داخل – سال ۱۳۹۳

آمار و کاربردها – کد ۱۲۰۷

مدت پاسخگویی: ۲۷۰ دقیقه

تعداد سؤال: ۱۳۵

عنوان مواد امتحانی، تعداد و شماره سؤالات

ردیف	مواد امتحانی	تعداد سؤال	از شماره	تا شماره
۱	زبان عمومی و تخصصی	۳۰	۱	۳۰
۲	دروس پایه (ریاضیات عمومی، مبانی علوم ریاضی، مبانی ماتریس‌ها و جبرخطی، مبانی آنالیز ریاضی، مبانی آنالیز عددی و مبانی احتمال)	۴۵	۳۱	۷۵
۳	دروس تخصصی (احتمال، آمار ریاضی، نمونه‌گیری و رگرسیون ۱)	۶۰	۷۶	۱۳۵

بهمن ماه سال ۱۳۹۲

استفاده از ماشین حساب مجاز نمی‌باشد.

این آزمون نمره منفی دارد.

حق چاپ و تکثیر سؤالات پس از برگزاری آزمون برای تمامی اشخاص حقیقی و حقوقی تنها با مجوز این سازمان مجاز می‌باشد و با متخلفین برابر مقررات رفتار می‌شود.

Part A: Vocabulary

Directions: Choose the word or the phrase (1), (2), (3), or (4) that best completes each sentence. Then mark your answer sheet.

- 1- Police officers should be commended for their _____ service to the community.
1) benevolent 2) harsh 3) hasty 4) peculiar
- 2- Despite her _____ arguments, the candidate attracted an enthusiastic following.
1) plausible 2) wholesome 3) specious 4) thorough
- 3- Toni has been _____ to achieve musical recognition for the past ten years.
1) prevailing 2) displaying 3) appreciating 4) striving
- 4- Thousands of families came here seeking _____ from the civil war.
1) remedy 2) refuge 3) remnant 4) rebellion
- 5- Many persons in the _____ were awakened by the blast, and some were thrown from their beds.
1) thrill 2) urbanity 3) vicinity 4) fatigue
- 6- I cannot believe that your parents would _____ such rude behavior.
1) endorse 2) hinder 3) postpone 4) seclude
- 7- Although I had already broken most of her dishes, Jacqueline was _____ enough to continue letting me use them.
1) thrifty 2) indigent 3) financial 4) magnanimous
- 8- Even when someone has been found innocent of a crime, the _____ often remains.
1) endeavor 2) stigma 3) urge 4) quest
- 9- I was badly scared when the explosion made the whole house _____.
1) vacillate 2) resurge 3) decline 4) quake
- 10- The poison produced by the frog's skin is so _____ that it can paralyze a bird or a monkey immediately.
1) pungent 2) swift 3) lethal 4) treacherous

Part B: Cloze Passage

Directions: Read the following passage and decide which choice (1), (2), (3), or (4) best fits each space. Then mark your answer sheet.

Air pollution has always accompanied civilizations. Pollution started from the prehistoric times when man created the first fires. According to (11) _____ in the journal *Science*, "soot (12) _____ on ceilings of prehistoric caves provides ample evidence of the high levels of pollution that was associated with (13) _____." The forging of metals appears to be a key turning point (14) _____ significant air pollution levels outside the home. Core samples of glaciers in Greenland indicate (15) _____ in pollution associated with Greek, Roman and Chinese metal production, but at that time the pollution was comparatively less and could be handled by nature.

- 11- 1) a 1983 article 2) article for 1983 3) a 1983rd article 4) article in 1983
- 12- 1) was found 2) having found 3) found 4) to be found
- 13- 1) inadequate ventilating open fires 2) inadequate ventilation of open fires
3) open fires inadequate ventilation 4) open fires in inadequate ventilation
- 14- 1) for creation in 2) in creation for 3) in the creating for 4) in the creation of
- 15- 1) increases 2) increased 3) the increasing 4) they increased

Directions: Read the following three passages and answer the questions by choosing the best choice (1), (2), (3), or (4). Then mark the correct choice on your answer sheet.

Passage 1:

All Models are Theoretical: There Are No Perfect Spheres in the Universe

It appears that the most common geometric form in the universe is the sphere. But how many mathematically perfect spheres are there in the universe? The answer is none. Neither the Earth, nor the Sun, nor a billiard ball is a perfect sphere. So if there are no true spheres, what good are the formulas for ascertaining the area or volume of a sphere? So it is with statistical models in general and, in particular, with a normal distribution. Although one of the most commonplace examples is height distribution, if we were to have at our disposal, the height of every adult on the planet, the histogram profile would not correspond to a Gaussian bell curve, not even if the data were stratified by gender, race, or any other characteristic. But the normal distribution model still provides approximate results that are good enough for practical purposes.

- 16- **How many perfect spheres are in the universe?**
 1) Many 2) A few 3) Only one 4) None
- 17- **"At our disposal" in line 6 means -----.**
 1) available for us 2) possible for us 3) in our position 4) in our postbox
- 18- **Is there a population with perfect normal distribution?**
 1) Yes 2) No 3) Perhaps 4) Many
- 19- **The normal model may be useful in -----.**
 1) practice 2) class 3) books 4) nature
- 20- **Which of the following is not part of a comparison made in the passage?**
 1) Earth 2) Billiard board 3) Moon 4) Sun

Passage 2:

In probability theory, central limit theorems (CLTs), broadly speaking, state that the distribution of the sum of a sequence of random variables (r.v.'s), suitably normalized, converges to a normal distribution as their number n increases indefinitely. However, the preceding convergence in distribution holds only under certain conditions, depending on the underlying probabilistic nature of this sequence of r.v.'s. If some of the assumed conditions are violated, the convergence may or may not hold, or if it does, this convergence may be to a nonnormal distribution. We shall illustrate this via a few counter examples. While teaching CLTs at an advanced level, counter examples can serve as useful tools for explaining the true nature of these CLTs and the consequences when some of the assumptions made are violated.

- 21- **CLT's are true -----.**
 1) without any condition 2) with some conditions
 3) only for normal variables 4) only for binomial variables
- 22- **CLT's are stated about -----.**
 1) a sum 2) a normalized sum 3) a finite sequence 4) an infinite sequence
- 23- **"violated" in line 6 means -----.**
 1) disobeyed 2) varied 3) valued 4) vanished

۳۱- در کدام بازه سری $\sum_{n=0}^{\infty} \frac{2^n (x-1)^n}{(n+1)2^n}$ همگرا است؟

$$\left[-\frac{3}{2}, \frac{3}{2}\right] \quad (۱)$$

$$\left[-\frac{1}{2}, \frac{5}{2}\right] \quad (۲)$$

$$\left[-\frac{1}{2}, \frac{5}{2}\right] \quad (۳)$$

$$\left(-\frac{1}{2}, \frac{5}{2}\right) \quad (۴)$$

۳۲- با فرض پیوستگی تابع g ، مقدار $\lim_{x \rightarrow 0} \frac{\int_0^x (x-t)g(t)dt}{\sin^2 x}$ کدام است؟

$$2g(0) \quad (۱)$$

$$1 \quad (۲)$$

$$\frac{1}{2}g(0) \quad (۳)$$

$$g(0) \quad (۴)$$

۳۳- مقدار $\int_0^1 \sqrt{x-x^2} dx$ کدام است؟

$$2\sqrt{2} \quad (۱)$$

$$\frac{\pi}{4} - \frac{1}{2} \quad (۲)$$

$$2 \quad (۳)$$

$$\frac{\pi}{8} \quad (۴)$$

۳۴- اگر $\frac{d}{dx}(f(x)) = g(x)$ و $\frac{d}{dx}(g(x)) = f(x)$ ، مقدار $\frac{d^2}{dx^2}(f(x^2))$ کدام است؟

$$9x^4 f(x^6) + 6xg(x^2) \quad (۱)$$

$$f(x^6) + g(x^2) \quad (۲)$$

$$9x^4 f(x^2) + 6xg(x^6) \quad (۳)$$

$$f(x^2) + g(x^6) \quad (۴)$$

۳۵- مساحت ناحیه محدود به نمودار معادله $(x^2 + y^2)^2 = x^2 - y^2$ کدام است؟

(۱) ۲ (۲) ۱

(۳) $\frac{3}{2}$ (۴) $\frac{1}{2}$

۳۶- اگر θ زاویه بین بردار نرمال بر رویه $z = (x^2 + y^2)^{\frac{1}{2}} + (x^2 + y^2)^{\frac{3}{2}}$ در

نقطه $(x, y, z) \neq (0, 0, 0)$ و محور z باشد و $L = \lim_{(x, y, z) \rightarrow (0, 0, 0)} |\cos \theta|$ ، گزینه

صحیح کدام است؟

(۱) $L = \frac{\sqrt{3}}{2}$ (۲) $L = 0$

(۳) $L = -\frac{\sqrt{2}}{2}$ (۴) $L = \frac{\sqrt{2}}{2}$

۳۷- اگر $D = \{(x, y) \in \mathbb{R}^2 : x^2 - xy + y^2 = 2\}$ ، مقدار انتگرال دوگانه

$\iint_D (x^2 - xy + y^2) dA$ کدام است؟

(۱) $\frac{8\pi}{\sqrt{3}}$ (۲) $\frac{4\pi}{\sqrt{3}}$

(۳) $\frac{8\pi}{3}$ (۴) $\frac{4\pi}{3}$

۳۸- برای ثابت $k > 0$ ، اگر $g(x, t) = \frac{x}{\sqrt{kt}}$ و $f(x, t) = \int_0^{g(x,t)} e^{-u^2} du$

گزینه صحیح کدام است؟

$$k \frac{\partial f}{\partial x} = x^2 \frac{\partial^2 f}{\partial t^2} \quad (1)$$

$$k \frac{\partial^2 f}{\partial x^2} = \frac{\partial f}{\partial t} \quad (2)$$

$$k \frac{\partial f}{\partial x} = \frac{\partial^2 f}{\partial t^2} \quad (3)$$

$$k \frac{\partial^2 f}{\partial x^2} = x \frac{\partial f}{\partial t} \quad (4)$$

۳۹- بیشترین انحنای منحنی $y = e^x$ در کدام نقطه اتفاق می‌افتد؟

$$\left(\frac{1}{2} \ln 2, \frac{\sqrt{2}}{2}\right) \quad (1)$$

$$(-\ln 2, \sqrt{2}) \quad (2)$$

$$\left(-\frac{1}{2} \ln 2, \frac{\sqrt{2}}{2}\right) \quad (3)$$

$$(\ln 2, \sqrt{2}) \quad (4)$$

۴۰- کدام یک از گزاره‌های ذیل خاصیت مشخصه زیریننه (اینفیمم) را برای

$$\beta = \inf A \text{ مشخص می‌کند؟}$$

$$\forall x(x \in A \Rightarrow \beta \leq x) \ \& \ \forall \varepsilon > 0 \ \exists x \in A \quad x < \beta + \varepsilon \quad (۱)$$

$$\forall x \in A \ \exists \varepsilon > 0 \quad x < \beta + \varepsilon \quad (۲)$$

$$\exists \varepsilon > 0 \ \forall x(x \in A \Rightarrow x < \beta + \varepsilon) \quad (۳)$$

$$\forall \varepsilon > 0 \ \exists x \in A \quad x < \beta + \varepsilon \quad (۴)$$

۴۱- فرض کنید $f: X \rightarrow X$ تابعی باشد به طوری که $f^2 = I_X$ که در آن I_X بیانگر

تابع همانی روی X است. در این صورت:

$$(۱) \ f \text{ متعددی (تراگذری) است.} \quad (۲) \ f \text{ متقارن است.}$$

$$(۳) \ f \text{ انعکاسی و متعددی (تراگذری) است.} \quad (۴) \ f \text{ انعکاسی و متقارن است.}$$

۴۲- فرض کنید $f: X \rightarrow Y$ یک تابع باشد و $A \subseteq X$ و $B \subseteq Y$. کدام یک از

گزاره‌های زیر درست است؟

$$f^{-1}(f(A)) \subseteq A \quad (۲) \quad f(A^c) = (f(A))^c \quad (۱)$$

$$f^{-1}(B^c) = (f^{-1}(B))^c \quad (۴) \quad B \subseteq f(f^{-1}(B)) \quad (۳)$$

۴۳- کدام یک از نگاهش‌های زیر یک تناظر یک به یک (دو سوئی) بین بازه باز

$(-1, 1)$ و \mathbb{R} برقرار می‌کند؟

$$f(x) = \frac{1-x}{1+x} \quad (۲) \quad f(x) = \frac{1+|x|}{1-|x|} \quad (۱)$$

$$f(x) = \frac{x}{1-x} \quad (۴) \quad f(x) = \frac{x}{1-|x|} \quad (۳)$$

۴۴- هرگاه X یک مجموعه نامتناهی و Q مجموعه اعداد گویا باشد، آنگاه

(۱) اگر $f: X \rightarrow X$ پوشا باشد آنگاه f یک به یک است.

(۲) تابعی یک به یک مانند $f: X \rightarrow Q$ وجود دارد.

(۳) اگر تابع $f: X \rightarrow X$ یک به یک باشد آنگاه f پوشاست.

(۴) تابعی یک به یک مانند $f: Q \rightarrow X$ وجود دارد.

۴۵- اگر تابع $f: A \rightarrow B$ پوشا باشد آنگاه:

$$(۱) \exists X \exists Z (X, Z \subseteq A \text{ \& } f(X \cup Z) \neq f(X) \cup f(Z)$$

$$(۲) \forall Y (Y \subseteq B \Rightarrow f(f^{-1}(Y)) = Y$$

$$(۳) \forall X \forall Z (X, Z \subseteq A \Rightarrow f(X \cap Z) = f(X) \cap f(Z)$$

$$(۴) \forall X (X \subseteq A \Rightarrow f^{-1}(f(X)) = X$$

دروس پایه - مبانی ماتریس‌ها و جبر خطی

۴۶- تحت کدام یک از شرایط زیر ماتریس A با یک ماتریس قطری متشابه است؟

$$A = \begin{bmatrix} ۲ & ۰ & ۰ \\ a & ۲ & ۰ \\ b & c-۱ & \end{bmatrix}$$

$$(۱) a + b + c = ۰$$

$$(۲) b = ۰$$

$$(۳) c = ۰$$

$$(۴) a = ۰$$

۴۷- فرض کنید A یک ماتریس $n \times n$ مختلط باشد و برای هر $X \in \mathbb{R}^n$

(بردارها را ستونی در نظر می‌گیریم) داشته باشیم $X^T A X = 0$.

که در آن X^T ترانهادهی X است، در این صورت:

$$(1) A = 0$$

$$(2) A^T A = 0$$

$$(3) A^T = A$$

$$(4) A^T = -A$$

۴۸- فرض کنید V فضای برداری توابع پیوسته از مجموعه $[0, 1]$ به \mathbb{R} روی میدان

\mathbb{R} باشد. تبدیل خطی $T: V \rightarrow V$ را به شکل زیر تعریف می‌کنیم:

$$T(f(x)) = \int_0^1 (3x^3 y - 5x^4 y^2) f(y) dy$$

در این صورت رتبه T برابر است با:

$$(1) 1$$

$$(2) 2$$

$$(3) 3$$

$$(4) \text{ نامتناهی}$$

۴۹- دو جمله‌ی زیر را در نظر بگیرید:

(*) اگر به ازای بردار ثابت b ، دستگاه $Ax = b$ روی اعداد حقیقی بیش از یک

جواب داشته باشد، آنگاه دستگاه $Ax = 0$ بی‌نهایت جواب دارد.

(**) اگر u, v, w بردارهایی در \mathbb{R}^2 باشند به طوری که هیچ دوتای آن‌ها هم

راستا نباشند، آنگاه دستگاه $Ax = w$ که در آن $A = [u \ v]$ ، جواب یکتا دارد.

کدام گزینه صحیح است؟

(۱) فقط (*) درست است. (۲) فقط (**) درست است.

(۳) هر دو درست هستند. (۴) هر دو نادرست هستند.

۵۰- فرض کنید U_1, U_2, U_3 سه زیر فضا از یک فضای برداری با بعد متنهایی باشند به طوری که اشتراک هر دو تایی آنها صفر است. کدام گزینه صحیح است؟

$$\dim \left(\sum_{i=1}^3 U_i \right) = \sum_{i=1}^3 \dim(U_i) + \dim(U_1 + U_2) + \dim(U_1 + U_3) + \dim(U_2 + U_3) \quad (۱)$$

$$\dim \left(\sum_{i=1}^3 U_i \right) + \dim(U_1 + U_2) + \dim(U_2 + U_3) + \dim(U_1 + U_3) \quad (۲)$$

$$\leq \sum_{i=1}^3 \dim(U_i)$$

$$\dim \left(\sum_{i=1}^3 U_i \right) + \sum_{i=1}^3 \dim(U_i) \leq \dim(U_1 + U_2) + \dim(U_1 + U_3) \quad (۳)$$

$$+ \dim(U_2 + U_3)$$

$$\dim \left(\sum_{i=1}^3 U_i \right) = \sum_{i=1}^3 \dim U_i \quad (۴)$$

۵۱- فرض کنید A ماتریسی 8×4 باشد که درایه‌های آن اعدادی حقیقی هستند.

بعلاوه فرض کنید $W_1 = \{AX \mid X \in \mathbb{R}^4\}$ و $W_2 = \{AY \mid Y \in \mathbb{C}^4\}$. اگر

W_1 به عنوان زیر فضای \mathbb{R}^8 بعدی n و W_2 به عنوان زیر فضای \mathbb{C}^8 بعدی m ،

بعدی باشند، کدام مورد صحیح است؟

$$m = n \quad (۱)$$

$$n = 2m \quad (۲)$$

$$m = 2n \quad (۳)$$

$$m = n + 4 \quad (۴)$$

۵۲- متر d را بر \mathbb{R} به صورت زیر تعریف می‌کنیم.

$$d(x, y) = \left| \frac{x}{1+|x|} - \frac{y}{1+|y|} \right|$$

کدام گزینه نادرست است؟

(۱) اگر $x_n \rightarrow x$ در متر اقلیدسی، آنگاه $x_n \rightarrow x$ در متر d

(۲) (\mathbb{R}, d) یک فضای متریک کامل است.

(۳) (\mathbb{R}, d) یک فضای متریک کراندار است.

(۴) اگر $U \subseteq \mathbb{R}$ نسبت به متر d باز باشد نسبت به متر اقلیدسی \mathbb{R} نیز باز است.

۵۳- فرض کنید متر d روی \mathbb{R} به صورت زیر تعریف شده باشد. (A^c متمم A است)

$$d(x, y) = \begin{cases} 0 & x = y \\ \sqrt{x^2 + y^2} & x \neq y \end{cases}$$

هرگاه $A \subseteq \mathbb{R}$ ، کدام گزینه نادرست است؟

(۱) اگر $A \not\subseteq A^c$ آنگاه A^c باز است.

(۲) اگر $A \not\subseteq A^c$ آنگاه A^c بسته است.

(۳) اگر $0 \in A$ آنگاه A^c باز است.

(۴) اگر $0 \in A$ آنگاه $A^c \cup \{0\}$ بسته است.

۵۴- کدام یک از گزینه‌های زیر صحیح است؟

(۱) $\mathbb{R}^2 \setminus \{(0, 0)\}$ ناهمبند است.

(۲) $\{(x, \sin \frac{1}{x}) : 0 < x \leq 1\} \cup \{(0, 0)\}$ همبند است.

(۳) $\{n + \frac{1}{n} : n \in \mathbb{N}\}$ دارای نقطه حدی است.

(۴) $\{(x, \sin \frac{1}{x}) : 0 < x \leq 1\} \cup \{(0, 0)\}$ فشرده است.

۵۵- اگر $a_n = \sin\left(\frac{\pi}{n}\right) + \tan^{-1}(n) + \cos(n)$ مقدار $\limsup_{n \rightarrow \infty} a_n$

برابر است با:

$$1 + \left(\frac{\pi}{4}\right)^{-1} \quad (1) \qquad 1 + \frac{\pi}{2} \quad (2)$$

$$\left(\frac{\pi}{4}\right)^{-1} \quad (3) \qquad \frac{\pi}{2} \quad (4)$$

۵۶- فرض کنید $\{a_n\}$ دنباله‌ای نزولی از اعداد حقیقی باشد و $a_n \rightarrow 0$ در این

$$\text{صورت سری } \sum_{n=1}^{\infty} \frac{(-1)^{n+1}}{n} (a_1 + a_2 + \dots + a_n)$$

(۱) فقط در صورتی که $\sum a_n$ همگرا باشد، همگراست.

(۲) فقط در صورتی که $\sum a_n$ واگرا باشد، همگراست.

(۳) واگرا است.

(۴) همگرا است.

۵۷- فرض کنید سری توانی $f(x) = \sum_{n=0}^{\infty} a_n x^n$ بر \mathbb{R} همگرا باشد، کدام گزینه

صحیح است؟

(۱) اگر $\{x : f(x) = 0\}$ نامشمارا باشد آنگاه f ثابت است.

(۲) اگر $\{x : f'(x) = 0\}$ نامشمارا باشد آنگاه f ثابت است.

(۳) اگر $\{x : f(x) = 0\}$ یا $\{x : f'(x) = 0\}$ نامشمارا باشد آنگاه f ثابت است.

(۴) همه موارد صحیح است.

۵۸- فرض کنید X و Y دو فضای متریک باشند و $f: X \rightarrow Y$ یک تابع باشد. کدام

گزینه پیوستگی تابع f را نتیجه نمی‌دهد؟

(۱) برای هر دنباله همگرای $\{x_n\}$ در X دنباله $\{f(x_n)\}$ در Y همگرا است.

(۲) برای هر دنباله کوشی $\{x_n\}$ در X ، دنباله $\{f(x_n)\}$ در Y کوشی است.

(۳) تصویر وارون هر مجموعه بسته در Y توسط f در X فشرده است.

(۴) تصویر وارون هر مجموعه فشرده در Y توسط f در X فشرده است.

۵۹- کدام یک از توابع زیر بر $(0, \infty)$ پیوسته یکنواخت است؟

(۱) $x \sin x$

(۲) $x \ln x$

(۳) $x \sin \frac{1}{x}$

(۴) e^x

۶۰- کدام گزینه صحیح است؟

(۱) اگر تابع f بر $[a, b]$ انتگرال پذیر ریمان باشد آنگاه تابع f بر $[a, b]$ تابع اولیه

(یادمشتق) دارد.

(۲) اگر تابع f بر $[a, b]$ تابع اولیه داشته باشد آنگاه f بر $[a, b]$ انتگرال پذیر

ریمان است.

(۳) اگر برای هر $x \in [a, b]$ انتگرال $\int_a^x f(t) dt$ موجود باشد آنگاه f بر $[a, b]$

تابع اولیه دارد.

(۴) هیچ کدام

۶۱- فرض کنید $f, g : [a, b] \rightarrow (0, +\infty)$ توابع پیوسته باشند. مقدار

$$\lim_{n \rightarrow \infty} \left(\int_a^b f^n(x) g(x) dx \right)^{\frac{1}{n}}$$

حد کدام است؟

(۱) $\inf_{a \leq x \leq b} f(x)g(x)$ (۲) $\inf_{a \leq x \leq b} f(x)$

(۳) $\sup_{a \leq x \leq b} f(x)$ (۴) $\sup_{a \leq x \leq b} f(x)g(x)$

۶۲- کدام گزینه صحیح است؟

(۱) اگر $0 < a < 1$ ، آنگاه سری $\sum_{n=0}^{\infty} x^n$ بر $[-a, a]$ همگرای یکنواخت است.

(۲) دنباله توابع $f_n(x) = x^n$ بر $(0, 1)$ همگرای یکنواخت است.

(۳) اگر f_n به f و g_n به g همگرای یکنواخت بر \mathbb{R} باشند، آنگاه $f_n g_n$ به fg همگرای یکنواخت بر \mathbb{R} است.

(۴) $\sum_{n=0}^{\infty} x^n (1-x)$ بر $[0, 1]$ همگرای یکنواخت است.

۶۳- هرگاه $f(x) = \sum_{n=1}^{\infty} \frac{(-1)^n}{2^n} [nx]$ ، $g(x) = \sum_{n=1}^{\infty} \frac{x^3 + n^2}{n^3} (-1)^n$ ، آنگاه کدام

گزینه نادرست است؟

(۱) g بر هر بازه کراندار $[a, b]$ ، انتگرال ریمن دارد.

(۲) f بر هر بازه کراندار $[a, b]$ ، انتگرال ریمن دارد.

(۳) g بر هر بازه کراندار $[a, b]$ ، بطور مطلق همگرای یکنواخت است.

(۴) f بر هر بازه کراندار $[a, b]$ ، به طور مطلق همگرای یکنواخت است.

۶۴- در یک دستگاه ممیز شناور برای نمایش اعداد حقیقی در مبنای ۲، با ۷ رقم مانتیس و روش گرد کردن، فاصله بین عدد ۶۹ و نزدیکترین عدد قابل نمایش بزرگتر از ۶۹ چقدر است؟

(۱) ۲

(۲) $\frac{1}{2}$

(۳) ۱

(۴) $\frac{1}{64}$

۶۵- فرض کنید دنباله تکراری روش نیوتن برای حل معادله $f(x) = 0$ به صورت $x_{n+1} = x_n(2 - Ax_n)$ باشد، آنگاه ضابطه $f(x)$ کدام گزینه است؟ (A عددی ثابت و غیر صفر است.)

(۱) $f(x) = A - 2x^2$

(۲) $f(x) = \frac{2}{A} - x^2$

(۳) $f(x) = \sqrt{A} - x$

(۴) $f(x) = A - \frac{1}{x}$

۶۶- تابع $\sin x$ را با چه اندازه گام h باید جدول بندی کرد تا خطای حاصل از درونیابی

خطی از $10^{-4} \times \frac{1}{3}$ بیشتر نشود؟

(۱) ۰٫۰۴

(۲) ۰٫۰۳

(۳) ۰٫۰۳۵

(۴) ۰٫۰۲

۶۷- در رابطه انتگرال گیری زیر، مقدار پارامتر A_1 بر حسب a کدام گزینه باشد تا روش انتگرال گیری مورد نظر دارای بیشترین دقت ممکن باشد؟

$$\int_{-1}^1 (a-x)f(x)dx \approx A_{-1}f(-1) + A_0f(0) + A_1f(1)$$

$$\frac{1}{3}(-1+a) \quad (1)$$

$$3a - \frac{1}{3} \quad (2)$$

$$\frac{3}{2}(a+1) \quad (3)$$

$$\frac{a}{3} + 1 \quad (4)$$

۶۸- فرض کنید A ، ماتریس $n \times n$ ، حقیقی و وارون پذیر است. A دارای تجزیه LU است که L پایین مثلثی با اعضای قطری واحد و U بالا مثلثی است، اگر A ماتریسی باشد.

(۱) نواری

(۲) معین مثبت

(۳) متقارن

(۴) پاد متقارن

۶۹- فرض کنید $f: s^2 \rightarrow \mathbb{R}$ ، $s = [1, \infty)$ و $f(x) = 3x_1^2 - 2x_1^2 + 27x_2 - x_2^2$.

ماکسیمم محلی (موضعی) تابع f روی s^2 کدام است؟

۵۵ (۱)

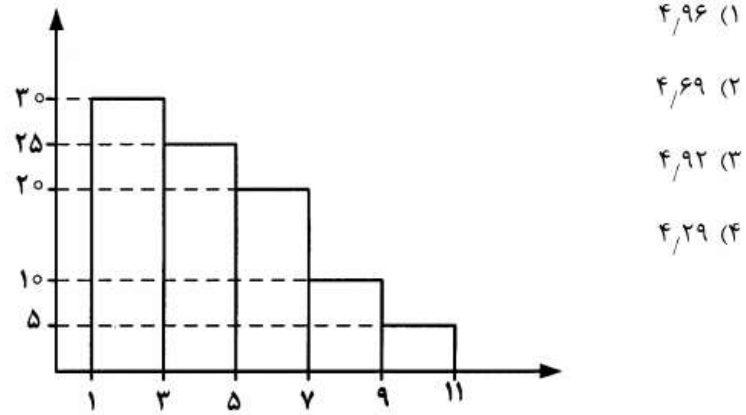
۵۳ (۲)

۵۴ (۳)

۵۲ (۴)

۷۰- اگر نمودار هیستوگرام فراوانی داده‌ها به صورت زیر باشد، مقدار $Q_{0.60}$

(چندک 0.60) کدام است؟



۴,۹۶ (۱)

۴,۶۹ (۲)

۴,۹۲ (۳)

۴,۲۹ (۴)

۷۱- اگر قیمت کالایی امسال ۲۰ درصد نسبت به سال گذشته افزایش داشته باشد،

ضرب تغییرات قیمت کالا چگونه تغییر می‌کند؟

(۱) فرینه می‌شود.

(۲) افزایش می‌یابد.

(۳) کاهش می‌یابد.

(۴) تغییر نمی‌کند.

۷۲- نامعادله $X + Y + Z < 12$ در مجموعه اعداد صحیح نا منفی دارای چند جواب

است؟

۳۴۶ (۱)

۳۶۴ (۲)

۳۵۶ (۳)

۳۶۵ (۴)

۷۳- چهار نفر اسم خود را روی ۴ کارت می‌نویسند و داخل جعبه‌ای می‌اندازند. اگر این چهار نفر هر کدام یک کارت از جعبه انتخاب کند، احتمال اینکه هیچکدام اسم خود را در نیاورند چقدر است؟

$$\frac{7}{16} \quad (1)$$

$$\frac{3}{8} \quad (2)$$

۷۴- از جعبه‌ای که حاوی ۵ لامپ است ۱۰ لامپ انتخاب می‌گردد. اگر لامپ‌های معیوب حداکثر ۱ باشد، جعبه انتخاب می‌شود در غیر این صورت جعبه رد می‌شود. اگر ۱۰ لامپ معیوب در جعبه وجود داشته باشد، احتمال انتخاب جعبه کدام است؟

$$\frac{9}{49} \quad (1) \quad \frac{\binom{10}{1} \binom{40}{9}}{\binom{50}{10}} + \frac{\binom{40}{10}}{\binom{50}{10}}$$

$$\frac{1}{5} \quad (2) \quad \frac{\binom{40}{9}}{\binom{50}{10}}$$

۷۵- اگر $P(A|B) + P(A'|B') = 1$ باشد در این صورت: (A' مکمل A است)

(۱) دو پیشامد A و B وابسته هستند.

(۲) دو پیشامد A و B مستقلند.

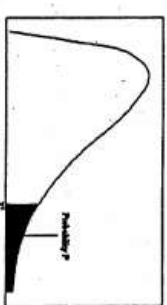
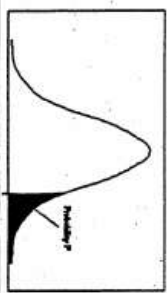

(۳) دو پیشامد A و B مکمل هم هستند.

(۴) دو پیشامد A و B از هم جدا هستند.

سطح زیر منحنی نرمال استاندارد										
z	.00	.01	.02	.03	.04	.05	.06	.07	.08	.09
0.0	.5000	.5040	.5080	.5120	.5160	.5199	.5239	.5279	.5319	.5359
0.1	.5398	.5438	.5478	.5517	.5557	.5596	.5636	.5675	.5714	.5753
0.2	.5793	.5832	.5871	.5910	.5948	.5987	.6026	.6064	.6103	.6141
0.3	.6179	.6217	.6255	.6293	.6331	.6368	.6406	.6443	.6480	.6517
0.4	.6554	.6591	.6628	.6664	.6700	.6736	.6772	.6808	.6844	.6879
0.5	.6915	.6950	.6985	.7019	.7054	.7088	.7123	.7157	.7190	.7224
0.6	.7257	.7291	.7324	.7357	.7389	.7422	.7454	.7486	.7517	.7549
0.7	.7580	.7611	.7642	.7673	.7704	.7734	.7764	.7794	.7823	.7852
0.8	.7881	.7910	.7939	.7967	.7995	.8023	.8051	.8078	.8106	.8133
0.9	.8159	.8186	.8212	.8238	.8264	.8289	.8315	.8340	.8365	.8389
1.0	.8413	.8438	.8461	.8485	.8508	.8531	.8554	.8577	.8599	.8621
1.1	.8643	.8665	.8686	.8708	.8729	.8749	.8770	.8790	.8810	.8830
1.2	.8849	.8869	.8888	.8907	.8925	.8944	.8962	.8980	.8997	.9015
1.3	.9032	.9049	.9066	.9082	.9099	.9115	.9131	.9147	.9162	.9177
1.4	.9192	.9207	.9222	.9236	.9251	.9265	.9279	.9292	.9306	.9319
1.5	.9332	.9345	.9357	.9370	.9382	.9394	.9406	.9418	.9429	.9441
1.6	.9452	.9463	.9474	.9484	.9495	.9505	.9515	.9525	.9535	.9545
1.7	.9554	.9564	.9573	.9582	.9591	.9599	.9608	.9616	.9625	.9633
1.8	.9641	.9649	.9656	.9664	.9671	.9678	.9684	.9693	.9699	.9706
1.9	.9713	.9719	.9726	.9732	.9738	.9744	.9750	.9756	.9761	.9767
2.0	.9772	.9778	.9783	.9788	.9793	.9798	.9803	.9808	.9812	.9817
2.1	.9821	.9826	.9830	.9834	.9838	.9842	.9846	.9850	.9854	.9857
2.2	.9861	.9864	.9868	.9871	.9875	.9878	.9881	.9884	.9887	.9890
2.3	.9893	.9896	.9898	.9901	.9904	.9906	.9909	.9911	.9913	.9916
2.4	.9918	.9920	.9921	.9923	.9925	.9927	.9928	.9931	.9932	.9934
2.5	.9935	.9936	.9937	.9938	.9939	.9940	.9941	.9942	.9943	.9944
2.6	.9945	.9946	.9947	.9948	.9949	.9950	.9951	.9952	.9953	.9954
2.7	.9955	.9956	.9957	.9958	.9959	.9960	.9961	.9962	.9963	.9964
2.8	.9965	.9966	.9967	.9968	.9969	.9970	.9971	.9972	.9973	.9974
2.9	.9975	.9976	.9977	.9978	.9979	.9980	.9981	.9982	.9983	.9984
3.0	.9985	.9986	.9987	.9988	.9989	.9990	.9991	.9992	.9993	.9994
3.1	.9995	.9996	.9997	.9998	.9999					
3.2	.9993	.9993	.9994	.9994	.9994	.9994	.9994	.9994	.9994	.9994
3.3	.9995	.9995	.9995	.9996	.9996	.9996	.9996	.9996	.9996	.9996
3.4	.9997	.9997	.9997	.9997	.9997	.9997	.9997	.9997	.9997	.9998

مقادیر بحرانی توزیع t									
df	.10	.05	.025	.01	.005				
1	1.808	1.634	1.271	1.143	1.146				
2	1.886	1.650	1.250	1.065	1.054				
3	1.895	1.659	1.250	1.047	1.035				
4	1.753	1.633	1.192	1.000	0.989				
5	1.753	1.633	1.192	0.985	0.974				
6	1.706	1.606	1.171	0.970	0.959				
7	1.699	1.600	1.161	0.959	0.948				
8	1.638	1.575	1.145	0.945	0.934				
9	1.638	1.575	1.145	0.935	0.924				
10	1.601	1.549	1.129	0.920	0.909				
11	1.585	1.533	1.120	0.910	0.899				
12	1.569	1.519	1.112	0.900	0.889				
13	1.558	1.508	1.105	0.891	0.880				
14	1.550	1.500	1.100	0.883	0.872				
15	1.544	1.495	1.095	0.876	0.865				
16	1.540	1.491	1.091	0.870	0.859				
17	1.537	1.488	1.088	0.865	0.854				
18	1.535	1.486	1.086	0.861	0.850				
19	1.533	1.484	1.084	0.858	0.847				
20	1.532	1.483	1.083	0.856	0.845				
21	1.531	1.482	1.082	0.854	0.843				
22	1.530	1.481	1.081	0.853	0.842				
23	1.529	1.480	1.080	0.852	0.841				
24	1.529	1.480	1.080	0.851	0.840				
25	1.528	1.479	1.079	0.850	0.839				
26	1.528	1.479	1.079	0.849	0.838				
27	1.527	1.478	1.078	0.848	0.837				
28	1.527	1.478	1.078	0.847	0.836				
29	1.527	1.478	1.078	0.846	0.835				
30	1.526	1.477	1.077	0.845	0.834				

مقادیر بحرانی توزیع مربع کای										
df	.995	.990	.975	.950	.900	.850	.800	.750	.700	.600
1	48.5	0.001	0.0009	0.0039	3.8414	5.0238	6.6349	7.879		
2	0.010	0.0201	0.0506	0.1032	5.9914	7.3777	9.2103	10.596		
3	0.071	0.1416	0.2158	0.3518	7.8791	9.3484	11.344	12.838		
4	0.206	0.2971	0.4844	0.7107	9.4877	11.143	13.276	14.860		
5	0.411	0.5320	0.8312	1.1454	11.070	12.832	15.086	16.759		
6	0.676	0.8320	1.2373	1.6353	12.591	14.449	16.811	18.547		
7	0.989	1.2390	1.6759	2.1673	13.801	16.012	18.475	20.277		
8	1.312	1.6495	2.1797	2.7326	15.085	17.534	20.090	21.954		
9	1.646	2.0967	2.7003	3.3251	16.357	19.022	21.665	23.589		
10	2.000	2.5582	3.1782	3.9403	17.535	20.483	23.209	25.188		
11	2.352	2.9558	3.6197	4.5748	18.675	21.920	24.724	26.756		
12	2.703	3.3561	4.0778	5.2260	19.675	23.209	26.219	28.306		
13	3.054	3.7564	4.5087	5.8918	20.669	24.736	27.688	29.819		
14	3.405	4.1567	4.9627	6.5766	21.665	26.151	29.141	31.319		
15	3.756	4.5570	5.4381	7.2809	22.661	27.484	30.571	32.801		
16	4.107	4.9573	5.9321	8.0047	23.661	28.758	31.999	34.267		
17	4.458	5.3576	6.4432	8.7486	24.661	30.022	33.151	35.718		
18	4.809	5.7579	6.9707	9.5125	25.661	31.274	34.301	37.156		
19	5.160	6.1582	7.5147	10.2964	26.661	32.514	35.441	38.582		
20	5.511	6.5585	8.0747	11.0993	27.661	33.745	36.571	39.996		
21	5.862	6.9588	8.6507	11.9212	28.661	34.966	37.696	41.400		
22	6.213	7.3591	9.2427	12.7621	29.661	36.177	38.811	42.795		
23	6.564	7.7594	9.8507	13.6210	30.661	37.378	39.916	44.181		
24	6.915	8.1597	10.4747	14.4979	31.661	38.569	41.011	45.558		
25	7.266	8.5599	11.1047	15.3908	32.661	39.750	42.096	46.927		
26	7.617	8.9599	11.7407	16.2987	33.661	40.921	43.161	48.286		
27	7.968	9.3599	12.3917	17.2216	34.661	42.082	44.216	49.635		
28	8.319	9.7599	13.0487	18.1595	35.661	43.233	45.261	50.984		
29	8.670	10.1599	13.7217	19.1124	36.661	44.374	46.296	52.333		
30	9.021	10.5599	14.4097	20.0803	37.661	45.505	47.321	53.671		



۷۶- فرض کنید متغیر تصادفی X طول عمر یک لامپ روشنایی با تابع چگالی احتمال

$f(x) = ce^{-cx}$, $x > 0$ است. به ازای چه مقداری از c ، متغیر تصادفی X در

رابطه $P(X \geq 2) = 2P(X < 2)$ صدق می‌کند؟

$$\ln \sqrt{\frac{2}{3}} \quad (1)$$

$$2 \ln \frac{2}{3} \quad (2)$$

$$-\frac{1}{2} \ln \frac{2}{3} \quad (3)$$

$$\frac{1}{2} \ln \frac{2}{3} \quad (4)$$

۷۷- فرض کنید تعداد تصادفات رانندگی که هر شخص در یکسال مرتکب می‌شود

دارای توزیع پواسون با پارامتر λ باشد. همچنین فرض کنید λ از شخصی به

شخص دیگر تغییر کند بنحوی که $P(\lambda < x) = 1 - e^{-x}$ باشد. اگر شخصی به

تصادف انتخاب شود احتمال اینکه هیچ تصادفی در سال نداشته باشد کدام

است؟

$$\frac{1}{4} \quad (1)$$

$$\frac{1}{2} \quad (2)$$

$$\frac{3}{5} \quad (3)$$

$$\frac{2}{3} \quad (4)$$

۷۸- فرض کنید N متغیر تصادفی با مقادیر ممکن صحیح نامنفی باشد. مستقلاً هر

یک از N توپ را در ظرف A با احتمال p و یا در ظرف B با احتمال $1-p$ قرار

می‌دهیم. N_A توپ در ظرف A و $N_B = N - N_A$ توپ در ظرف B قرار

می‌گیرد. اگر N دارای توزیع پواسن باشد، گزینه صحیح کدام است؟

(۱) N_B و N_A از یکدیگر مستقل‌اند.

(۲) N_B و N_A وابسته‌اند.

(۳) $N - N_A$ دارای توزیع فوق هندسی است.

(۴) N_A دارای توزیع فوق هندسی است.

۷۹- اگر $M(t) = (e^t - 1)t^{-1}$ تابع مولد گشتاور متغیر تصادفی X باشد، $E(X^{19})$

کدام است؟

(۱) ۰/۰۱

(۲) ۰/۰۵

(۳) ۰/۱۵

(۴) ۰/۱۰

۸۰- اگر X یک متغیر تصادفی با مقادیر ممکن صحیح مثبت باشد به قسمی که

$$P[X = j] = P[X = 1] \cdot P[X \geq j], j \geq 1$$

آنگاه $E(X)$ برابر است با:

(۱) $\frac{1}{P(X=1)}$

(۲) $\frac{1}{1 - P(X=1)}$

(۳) $\frac{1 - P(X=1)}{P(X=1)}$

(۴) $\frac{P(X=1)}{1 - P(X=1)}$

۸۱- اگر X یک متغیر تصادفی با تابع احتمال زیر باشد، مقدار $P(X \leq \frac{2}{p})$ کدام

است؟

$$P(X = k) = pq^{k-1}, k = 1, 2, \dots \quad q = 1 - p$$

(۲) $P(X \leq \frac{2}{p}) \geq q$

(۱) $P(X \leq \frac{2}{p}) < p$

(۴) $P(X \leq \frac{2}{p}) \geq p$

(۳) $P(X \leq \frac{2}{p}) < q$

۸۲- فرض کنید متغیر تصادفی a در فاصله $(0, 10)$ دارای توزیع یکنواخت باشد.

احتمال آنکه ریشه‌های معادله درجه دوم $4x^2 + 4ax + a + 5 = 0$ حقیقی باشند کدام است؟

$$\frac{1}{2} \quad (1)$$

$$\frac{3}{10} \quad (2)$$

$$\frac{4}{5} \quad (3)$$

$$\frac{7}{10} \quad (4)$$

۸۳- فرض کنید X دارای توزیع لاگ نرمال با پارامتر μ و σ^2 باشد. اگر m میانه این

توزیع باشد، گزینه صحیح کدام است؟ (Φ نمایانگر تابع توزیع نرمال استاندارد است)

$$\ln(m) = \frac{1}{2} - \mu\sigma \quad (2) \qquad m = \frac{\frac{1}{2} - \mu}{\sigma} \quad (1)$$

$$\Phi(\ln(m)) = \frac{1}{2}\sigma + \mu \quad (4) \qquad \Phi\left(\frac{\ln(m) - \mu}{\sigma}\right) = \frac{1}{2} \quad (3)$$

۸۴- فرض کنید $X \sim NB(r, p)$ باشد، در این صورت متغیر تصادفی $Y = 2pX$

وقتی که $p \rightarrow 0$ دارای چه توزیعی می‌باشد؟

(۱) کای اسکور با $2r$ درجه آزادی

(۲) کای اسکور با r درجه آزادی

(۳) پواسن با پارامتر r

(۴) پواسن با پارامتر $2r$

۸۵- متغیر تصادفی X دارای تابع مولد گشتاور زیر می باشد، مقدار $P(X^2 - 4 = 0)$

$$M_X(t) = \frac{1}{2} + \frac{1}{3}e^{-2t} + \frac{1}{6}e^{2t}$$

کدام است؟

(۱) $\frac{1}{8}$

(۲) $\frac{1}{4}$

(۳) ۱

(۴) $\frac{1}{2}$

۸۶- اگر X یک متغیر تصادفی با تابع توزیع $F(x) = \frac{e^x}{1+e^x}$ ، $x \in \mathbb{R}$ باشد، مقدار

$$E\left\{\frac{F(x)}{F'(x)}\right\}$$

کدام است؟

(۱) $-\infty$

(۲) ۰

(۳) $+\infty$

(۴) $\frac{1}{2}$

۸۷- اگر X و Y دو متغیر تصادفی مستقل برنولی با احتمال موفقیت p ، $0 < p < 1$ ،

باشند مقدار: $E(X^Y | X + Y = 1)$ کدام است؟

(۱) $\frac{1}{4}$

(۲) $\frac{1}{2}$

(۳) q

(۴) p

۸۸- متغیر تصادفی X که به طور یکنواخت روی $[0, 1]$ انتخاب می‌شود، این فاصله را به دو قسمت تقسیم می‌کند. اگر R نسبت قسمت کوچکتر به بزرگتر باشد تابع

چگالی احتمال R کدام است؟ ($0 < r < 1$) ($f_R(r) = ?$)

$$\frac{1}{2(r+1)^2} \quad (2) \qquad \frac{1}{2(r^2+1)} \quad (1)$$

$$\frac{2}{(r^2+1)} \quad (4) \qquad \frac{2}{(r+1)^2} \quad (3)$$

۸۹- فرض کنید X دارای توزیع کوشی استاندارد با تابع چگالی احتمال

$$f(x) = \frac{1}{\pi(1+x^2)}, \quad x \in \mathbb{R}$$

اگر $X^c = \begin{cases} X & |X| \leq c \\ 0 & |X| > c \end{cases}$ تابع

چگالی احتمال $Y = X^c$ در فاصله $[-c, c]$ کدام است؟

$$\frac{1}{2\pi} \cdot \frac{1}{1+x} \tan^{-1} c \quad (1)$$

$$\frac{1}{2\pi} \cdot \frac{1}{1+(x-c)^2} \quad (2)$$

$$\frac{1}{2} \cdot \frac{1}{1+x^2} \cdot \frac{1}{\tan^{-1} c} \quad (3)$$

$$\frac{1}{2} \cdot \frac{1}{1+(x-c)^2} \tan^{-1} c \quad (4)$$

۹۰- یک تاس سالم را ۱۰ بار پرتاب می‌کنیم. اگر X تعداد ۶‌های مشاهده شده و Y

تعداد ۵‌های مشاهده شده باشند، $\text{cov}(X, Y)$ کدام است؟

$$-\frac{1}{6} \quad (2) \qquad -\frac{5}{18} \quad (1)$$

$$\frac{1}{6} \quad (4) \qquad \frac{3}{8} \quad (3)$$

۹۱- اگر X و Y متغیرهای تصادفی با تابع احتمال توأم زیر باشد، مقدار $E(XY)$ کدام است؟

$$P[X = n, Y = m] = \binom{m}{n} \left(\frac{1}{2}\right)^m \frac{1}{5}, \quad n = 0, 1, \dots, m, \quad m = 1, \dots, 5$$

$$\frac{9}{2} \quad (۱)$$

$$\frac{11}{2} \quad (۲)$$

$$\frac{5}{4} \quad (۴)$$

$$6 \quad (۳)$$

۹۲- فرض کنید X_1, \dots, X_n یک نمونه تصادفی از توزیعی پیوسته با تابع توزیع F

باشد. اگر $Y = \prod_{i=1}^k F(X_i) \prod_{i=k+1}^n [1 - F(X_i)]$ ، توزیع $-\ln Y$ کدام است؟

$$(X \sim \Gamma(\alpha, \lambda)) \rightarrow E(X) = \frac{\alpha}{\lambda}$$

$$\chi^2(n) \quad (۱)$$

$$\chi^2(2n) \quad (۲)$$

$$\Gamma(2n, 1) \quad (۳)$$

$$\Gamma(n, 1) \quad (۴)$$

۹۳- فرض کنید $X_i \sim \text{Ge}(p_i)$ ، $i = 1, \dots, n$ باشد. اگر

$N_n = \min(X_1, \dots, X_n)$ باشد، توزیع N_n کدام است؟

$$(۱) \text{ دو جمله‌ای منفی با پارامترهای } n, \sum_{i=1}^n p_i$$

$$(۲) \text{ هندسی با پارامتر } p_n = 1 - \prod_{i=1}^n (1 - p_i)$$

$$(۳) \text{ هندسی با پارامتر } p_n = \prod_{i=1}^n p_i$$

$$(۴) \text{ هندسی با پارامتر } p_n = \prod_{i=1}^n (1 - p_i)$$

۹۴- فرض کنید X_1, \dots, X_n نمونه‌ای تصادفی از توزیع برنولی با پارامتر θ باشد، احتمال اینکه دامنه این نمونه برابر صفر باشد، کدام است؟

$$(1) \theta^n (1-\theta)^n$$

$$(2) (1-\theta)^n$$

$$(3) \theta^n (1-\theta)^{n-1} + \theta^{n-1} (1-\theta)$$

$$(4) \theta^n + (1-\theta)^n$$

۹۵- فرض کنید X_1, X_2, X_3 نمونه‌ای تصادفی از توزیع برنولی با پارامتر θ باشد، اگر $X_{(1)} \leq X_{(2)} \leq X_{(3)}$ نمایانگر آماره‌های ترتیبی باشند، کدام رابطه، توزیع میانه این نمونه را مشخص می‌کند؟

$$(1) P(X_{(2)} = 0) = (1-\theta)^2 (1+2\theta)$$

$$(2) P(X_{(2)} = 1) = (1-\theta)\theta^2$$

$$(3) P(X_{(2)} = 1) = 1 - \theta^2 (1-\theta)$$

$$(4) P(X_{(2)} = 0) = (1-\theta)^2 (1-2\theta)$$

۹۶- فرض کنید میانگین یک نمونه تصادفی به حجم n از جامعه زیر برابر $3/5$ شده

است. برآورد گشتاوری θ کدام است؟

$x \backslash \theta$	۱	۳	۴
θ_1	$\frac{1}{3}$	$\frac{1}{3}$	$\frac{1}{3}$
θ_2	$\frac{1}{2}$	۰	$\frac{1}{2}$
θ_3	$\frac{1}{4}$	$\frac{2}{4}$	$\frac{1}{4}$

(۲) θ_2

(۱) θ_1

(۴) وجود ندارد.

(۳) θ_3

۹۷- فرض کنید متغیر تصادفی X دارای تابع جرم احتمال متعلق به خانواده زیر است.

$\theta \backslash X$	۰	۱	۲	۳
θ_1	$\frac{1}{4}$	$\frac{1}{4}$	$\frac{1}{8}$	$\frac{3}{8}$
θ_2	$\frac{1}{2}$	$\frac{3}{16}$	$\frac{1}{4}$	$\frac{1}{16}$

آماره بسنده برای θ براساس تک مشاهده X کدام است؟

$$T(x) = \begin{cases} 1 & x = 0, 2 \\ 0 & x = 1, 3 \end{cases} \quad (۲)$$

$$T(x) = \begin{cases} 1 & x = 1, 2 \\ 0 & x = 0, 3 \end{cases} \quad (۱)$$

$$T(x) = \begin{cases} 1 & x = 1, 3 \\ 0 & x = 0, 2 \end{cases} \quad (۴)$$

$$T(x) = \begin{cases} 1 & x = 0, 1 \\ 0 & x = 2, 3 \end{cases} \quad (۳)$$

۹۸- فرض کنید X_1, \dots, X_n یک نمونه تصادفی n تایی از توزیع $B(1, \theta)$ ، $0 < \theta < 1$ باشد. با تعریف

$$T_1(\underline{X}) = (X_1, \dots, X_n), \quad T_2(\underline{X}) = (X_1^2, \dots, X_n^2)$$

$$T_3(\underline{X}) = \left(\sum_{i=1}^k X_i, \sum_{i=k+1}^n X_i \right), \quad T_4(\underline{X}) = \sum_{i=1}^n X_i, \quad T_5(\underline{X}) = \bar{X}$$

$$T_6(\underline{X}) = \sum_{i=1}^n X_i^2, \quad T_7(\underline{X}) = \left(\sum_{i=1}^n X_i \right)^2$$

کدام یک از آماره‌های فوق بسنده هستند؟

(۱) همه T_i ها بسنده هستند.

(۲) به جز T_7 بقیه بسنده هستند.

(۳) به جز T_3 و T_6 بقیه بسنده هستند.

(۴) به جز T_6 بقیه بسنده هستند.

۹۹- فرض کنید X_1, \dots, X_{10} یک نمونه تصادفی از توزیع یکنواخت روی فاصله

$$(-\theta, \theta) \text{ باشد. مقدار } E \left[\frac{X_{(10)} - X_{(1)}}{\max_{1 \leq i \leq 10} |X_i|} \right] \text{ کدام است؟ } (X_{(10)} \text{ و } X_{(1)} \text{ به ترتیب کوچکترین و بزرگترین آماره ترتیبی نمونه تصادفی هستند.})$$

$$\frac{1}{2} \quad (۱) \quad \frac{\theta}{2} \quad (۲)$$

$$\frac{9}{5} \quad (۳) \quad \frac{\theta}{5} \quad (۴)$$

۱۰۰- فرض کنید X_1, \dots, X_n یک نمونه تصادفی از توزیع $F_\theta(x - \theta)$, $\theta \in \mathbb{R}$ است که در آن F_θ یک تابع توزیع پیوسته و اکیداً صعودی است. اگر برای $t \in \mathbb{R}$ و $i = 1, \dots, n$ متغیر تصادفی Y_i به صورت زیر تعریف شود:

$$Y_i = \begin{cases} 1 & X_i \geq t \\ 0 & X_i < t \end{cases}$$

برآورد ماکزیمم درست‌نمایی (MLE) برای θ بر اساس Y_1, \dots, Y_n کدام است؟

$$\hat{\theta} = F_\theta^{-1}(1 - \bar{y}) - t \quad (۱)$$

$$\hat{\theta} = F_\theta^{-1}(\bar{y}) - t \quad (۲)$$

$$\hat{\theta} = t - F_\theta^{-1}(\bar{y}) \quad (۳)$$

$$\hat{\theta} = t - F_\theta^{-1}(1 - \bar{y}) \quad (۴)$$

۱۰۱- فرض کنید X_1, \dots, X_n نمونه‌ای تصادفی به اندازه n از توزیعی با تابع جرم

x	۱	۲	۳
$f_\theta(x)$	θ	$1 - 2\theta$	θ

احتمال زیر باشد:

$$0 < \theta < \frac{1}{2}$$

اگر N_x را تعداد مشاهدات برابر با x تعریف نماییم. برآورد UMVU برای θ

کدام است؟

$$\frac{N_3}{n} \quad (۱)$$

$$\frac{N_1}{n} \quad (۲)$$

$$\frac{n - N_2}{2n} \quad (۳)$$

$$\frac{N_2}{2n} \quad (۴)$$

۱۰۲- فرض کنید X_1, \dots, X_n یک نمونه تصادفی از توزیع $N(\mu, \sigma^2)$ باشد، در

کلاس برآوردگرهای σ^2 به شکل $T = CS^2$ که در آن

$$S^2 = \frac{1}{n-1} \sum (x_i - \bar{x})^2$$

را داشته باشد؟

$$\frac{n-1}{n+1} \quad (۱)$$

$$\frac{n+1}{n-1} \quad (۲)$$

$$\frac{n-1}{n} \quad (۳)$$

$$\frac{n}{n-1} \quad (۴)$$

۱۰۳- تعداد موفقیت‌ها در ۷ بار مستقل از آزمایش برنولی با پارامتر θ برابر ۴ است. اگر

$\theta \in \{0/1, 0/2, \dots, 0/9\}$ باشد، برآورد ML پارامتر θ کدام است؟

$$0/4 \quad (۱)$$

$$0/5 \quad (۲)$$

$$0/7 \quad (۳)$$

$$0/6 \quad (۴)$$

۱۰۴- فرض کنید X_1, \dots, X_n یک نمونه تصادفی از توزیع $B(1, p)$ باشد. اگر

مقدار $E(\bar{X}\bar{X}^2)$ باشند، مقدار $\bar{X}^2 = \frac{1}{n} \sum_{i=1}^n X_i^2$ و $\bar{X} = \frac{1}{n} \sum_{i=1}^n X_i$ کدام است؟

$$p(1-p) + \frac{p^2}{n} \quad (۱)$$

$$\frac{p(1-p)}{n} + p^2 \quad (۲)$$

$$\frac{p(1-p)}{n-1} + \frac{p^2}{n} \quad (۳)$$

$$\frac{p(1-p)}{n(n-1)} + p^2 \quad (۴)$$

۱۰۵- فرض کنید X_1 دارای توزیع نرمال با میانگین μ و واریانس ۱ باشد و X_2 مستقل از X_1 دارای توزیع نرمال با میانگین 2μ و واریانس ۱ باشد. قرار دهید

$$T_2 = 2X_1 + X_2 \text{ و } T_1 = X_1 + 3X_2$$

اگر $I_{T_2}(\mu)$ و $I_{T_1}(\mu)$ نشان دهنده میزان اطلاع فیشر در T_2 و T_1 در خصوص μ باشند، گزینه صحیح کدام است؟

$$I_{T_1}(\mu) > I_{T_2}(\mu) \quad (2) \quad I_{T_1}(\mu) < I_{T_2}(\mu) \quad (1)$$

$$I_{T_1}(\mu) = I_{T_2}(\mu) \quad (4) \quad I_{T_2}(\mu) = \frac{1}{10} \quad (3)$$

۱۰۶- فرض کنید X_1, \dots, X_n نمونه‌ای تصادفی از تابع چگالی احتمال زیر باشد. یک کمیت محوری براساس آماره $X_{(n)}$ کدام است؟

$$f(x; \theta) = \frac{2x}{\theta^2}; \quad 0 < x < \theta$$

$$\frac{\theta}{X_{(n)}^2} \quad (2) \quad \theta X_n \quad (1)$$

$$-2 \ln(X_{(n)}) \quad (3) \quad -2n \ln\left(\frac{X_{(n)}}{\theta}\right) \quad (4)$$

۱۰۷- در آزمون فرض $H_0: X \sim N(0, 1)$ در مقابل $H_1: X \sim C(0, 1)$ (نمایانگر توزیع کوشی استاندارد است)، تابع آزمون با بیشترین توان

در سطح α کدام است؟

$$\phi(x) = \begin{cases} 1 & \text{if } |x| > z_{\frac{\alpha}{2}} \\ 0 & \text{o.w.} \end{cases} \quad (2) \quad \phi(x) = \begin{cases} 1 & \text{if } |x| < z_{\frac{\alpha}{2}} \\ 0 & \text{o.w.} \end{cases} \quad (1)$$

$$\phi(x) = \begin{cases} 1 & \text{if } x^2 + 1 > z_{\frac{\alpha}{2}} \\ 0 & \text{o.w.} \end{cases} \quad (4) \quad \phi(x) = \begin{cases} 1 & \text{if } x^2 + 1 < z_{\frac{\alpha}{2}} \\ 0 & \text{o.w.} \end{cases} \quad (3)$$

۱۰۸- فرض کنید $X \sim \text{Beta}(\alpha, \beta)$ باشد. برای آزمون $H_0: \alpha = \beta = 1$ در مقابل

$H_1: \alpha = \beta = 2$ ، ناحیه بحرانی پرتوانترین آزمون با اندازه $\alpha = 0.1$ کدام است؟

$$X > 0.9 \quad (1) \quad 0.45 < X < 0.55 \quad (2)$$

$$X < 0.1 \text{ یا } X > 0.9 \quad (4) \quad X < 0.05 \text{ یا } X > 0.95 \quad (3)$$

۱۰۹- فرض کنید X_1, \dots, X_n یک نمونه تصادفی از توزیع نمایی با میانگین θ باشد.

یک بازه اطمینان $(1-\alpha) \times 100\%$ برای θ کدام است؟

$$\left(\frac{\chi^2_{(2n, \frac{\alpha}{2})}}{2n\bar{X}}, \frac{\chi^2_{(2n, 1-\frac{\alpha}{2})}}{2n\bar{X}} \right) \quad (2) \quad \left(\frac{n\bar{X}}{\chi^2_{(n, 1-\frac{\alpha}{2})}}, \frac{n\bar{X}}{\chi^2_{(n, \frac{\alpha}{2})}} \right) \quad (1)$$

$$\left(\frac{2n\bar{X}}{\chi^2_{(2n, 1-\frac{\alpha}{2})}}, \frac{2n\bar{X}}{\chi^2_{(2n, \frac{\alpha}{2})}} \right) \quad (4) \quad \left(\frac{\chi^2_{(n, \frac{\alpha}{2})}}{n\bar{X}}, \frac{\chi^2_{(n, 1-\frac{\alpha}{2})}}{n\bar{X}} \right) \quad (3)$$

۱۱۰- فرض کنید X_1, \dots, X_n یک نمونه تصادفی n تایی از توزیع $U(0, \theta)$ ،

$\theta \in (0, 1]$ باشد، در این صورت تابع آزمون به روش LRT برای آزمون فرض

$H_0: \theta = 1$ در مقابل $H_1: \theta < 1$ ، در سطح α کدام است؟

$$(x_{(n)} = \max(x_1, \dots, x_n), x_{(1)} = \min(x_1, \dots, x_n))$$

$$\phi_{\tilde{x}}(x) = \begin{cases} 1 & x_{(n)} > \sqrt[n]{\alpha} \\ 0 & \text{o.w.} \end{cases} \quad (2) \quad \phi_{\tilde{x}}(x) = \begin{cases} 1 & x_{(n)} < \sqrt[n]{\alpha} \\ 0 & \text{o.w.} \end{cases} \quad (1)$$

$$\phi_{\tilde{x}}(x) = \begin{cases} 1 & x_{(1)} < \sqrt[n]{\alpha} \\ 0 & \text{o.w.} \end{cases} \quad (4) \quad \phi_{\tilde{x}}(x) = \begin{cases} 1 & x_{(1)} > \sqrt[n]{\alpha} \\ 0 & \text{o.w.} \end{cases} \quad (3)$$

۱۱۱- اگر متغیر تصادفی X تحت فرض H_0 و H_1 ، دارای تابع جرم احتمال زیر باشد:

x	۱	۲	۳	۴	۵	۶
$f(x H_0)$	۰/۱	۰/۰۵	۰/۱	۰/۰۵	۰/۲	۰/۵
$f(x H_1)$	۰/۱۵	۰/۱	۰/۲	۰/۱	۰/۱	۰/۳۵

آزمونی با بیشترین توان در سطح ۰/۰۵ کدام است؟

$$\phi(x) = \begin{cases} 1 & x \in \{2, 4\} \\ 0 & \text{o.w.} \end{cases} \quad (2) \quad \phi(x) = \begin{cases} \frac{1}{3} & x \in \{2, 4\} \\ 0 & \text{o.w.} \end{cases} \quad (1)$$

$$\phi(x) = \begin{cases} \frac{1}{4} & x \in \{2, 3, 4\} \\ 0 & \text{o.w.} \end{cases} \quad (4) \quad \phi(x) = \begin{cases} 1 & x = 6 \\ 0 & x \neq 6 \end{cases} \quad (3)$$

۱۱۲- فرض کنید X_1, \dots, X_5 یک نمونه تصادفی از توزیع $U(\theta-1, \theta+1)$ باشد،

ضریب اطمینان بازه تصادفی $(X_{(1)}, X_{(5)})$ برای θ کدام است؟

$$\frac{15}{16} \quad (1)$$

$$\frac{31}{32} \quad (2)$$

$$\frac{3}{4} \quad (3)$$

$$\frac{7}{8} \quad (4)$$

۱۱۳- یک حد بالای اطمینان $(1-\alpha) \cdot 100$ درصدی برای θ براساس یافته‌های نمونه

تصادفی X_1, \dots, X_n از توزیع نمایی با میانگین θ کدام است؟

$$\left(P(\chi_{(rn)}^{\gamma} < \chi_{(rn; 1-\alpha)}^{\gamma}) = \alpha \right)$$

$$\left(0, \frac{\gamma n \bar{x}}{\chi_{(rn; 1-\alpha)}^{\gamma}} \right) \quad (1)$$

$$\left(0, \frac{\chi_{(rn; 1-\alpha)}^{\gamma}}{\gamma n \bar{x}} \right) \quad (2)$$

$$\left(\frac{\gamma n \bar{x}}{\chi_{(rn; \alpha)}^{\gamma}}, +\infty \right) \quad (3)$$

$$\left(\frac{\chi_{(rn; \alpha)}^{\gamma}}{\gamma n \bar{x}}, +\infty \right) \quad (4)$$

۱۱۴- براساس یک مشاهده از تابع چگالی احتمال $f(x) = \frac{\theta}{(1+x)^{\theta+1}}$ ، $x > 0$ با

فرض $\theta > 0$ ، یک فاصله اطمینان $(1-\alpha) \cdot 100$ درصدی برای θ ، کدام است؟

$$\left(\frac{\ln(1+x)}{-\ln(\frac{\alpha}{\gamma})}, \frac{\ln(1+x)}{-\ln(1-\frac{\alpha}{\gamma})} \right) \quad (2) \quad \left(x - z_{\frac{\alpha}{\gamma}}, x + z_{\frac{\alpha}{\gamma}} \right) \quad (1)$$

$$\left(\frac{-\ln(1-\frac{\alpha}{\gamma})}{\ln(1+x)}, \frac{-\ln(\frac{\alpha}{\gamma})}{\ln(1+x)} \right) \quad (4) \quad \left(\frac{-\ln(1-\frac{\alpha}{\gamma})}{\ln(x)}, \frac{-\ln(\frac{\alpha}{\gamma})}{\ln(x)} \right) \quad (3)$$

۱۱۵- خانواده توزیع‌های زیر را در نظر بگیرید. براساس یک نمونه تصادفی n تایی کدام گزاره درست است؟

$$F_1 = \{N(\theta, \theta) : \theta > 0\} \text{ و } F_2 = \{N(\theta, \theta^2) : \theta > 0\}$$

- (۱) خانواده F_2 دارای خاصیت MLR در $\sum X_i^2$ است.
- (۲) خانواده F_1 دارای خاصیت MLR در $\sum X_i^2$ است.
- (۳) هر دو خانواده دارای خاصیت MLR در $\sum X_i^2$ است.
- (۴) هیچیک از دو خانواده دارای خاصیت MRL نیست.

دروس تخصصی - نمونه‌گیری

۱۱۶- فرض کنید فهرست کارمندان یک سازمان به ترتیب سال استخدام مرتب شده و اسامی کارمندان مربوطه به هر سال نیز به ترتیب حروف الفبا آمده باشند، اگر بخواهیم میانگین سابقه کارمندان را برآورد کنیم با این فرض که کارمندان استخدام شده هر سال را یک طبقه در نظر بگیریم، کدام گزینه صحیح است؟

- (۱) نمونه‌گیری تصادفی ساده و سیستماتیک کارایی یکسانی دارند.
- (۲) نمونه‌گیری تصادفی ساده و تصادفی طبقه‌ای کارایی یکسانی دارند.
- (۳) نمونه‌گیری تصادفی طبقه‌ای و سیستماتیک کارایی یکسانی دارند.
- (۴) نمی‌توان اظهار نظر کرد.

۱۱۷- در نمونه گیری طبقه ای با دو طبقه، سهم طبقه اول در جامعه 30% درصد و انحراف

معیار آن 10% است. اگر $\sum_{h=1}^2 w_h s_h = 24$ باشد و با فرض آنکه کسر نمونه گیری

برابر $\frac{1}{10}$ باشد واریانس برآوردگر نارایب میانگین جامعه براساس تخصیص نیمین

کدام است؟

$$(1) \frac{510}{n} \quad (2) \frac{510}{n^2}$$

$$(3) \frac{510}{N^2} \quad (4) \frac{510}{N}$$

۱۱۸- در نمونه گیری طبقه ای کدام یک از موارد زیر درست نیست؟

(۱) برآورد میانگین جامعه یک میانگین وزنی از برآورد میانگین طبقه است.

(۲) نمونه گیری در هر طبقه مستقل از طبقات دیگر است.

(۳) واریانس برآورد میانگین جامعه یک ترکیب خطی از واریانس برآورد میانگین طبقات است.

(۴) واریانس برآورد میانگین جامعه یک میانگین وزنی از واریانس برآورد میانگین طبقات است.

۱۱۹- حجم جامعه ای برابر N است. مقدار یک واحد جامعه معلوم و برابر y_1 است.

نمونه ای تصادفی و بدون جایگذاری به حجم n از $N-1$ واحد باقیمانده جامعه

می گیریم. اگر $T_1 = y_1 + (N-1)\bar{y}_n$ ، $T_2 = N\bar{y}_n$ باشند، کارایی نسبی

T_2 نسبت به T_1 کدام است؟

$$(1) \left(1 - \frac{n}{N}\right)^2 \quad (2) \left(1 - \frac{1}{N}\right)^2$$

$$(3) \left(1 + \frac{n}{N}\right)^2 \quad (4) \left(1 + \frac{1}{N}\right)^2$$

۱۲۰- می‌خواهیم از یک جامعه طبقه‌بندی شده شامل دو طبقه به حجم‌های N_1 و N_2 با واریانس‌های S_1^2 و S_2^2 یک نمونه تصادفی طبقه‌ای با حجم ثابت n انتخاب کنیم. حجم نمونه طبقه اول چقدر باشد تا واریانس برآوردگر اختلاف میانگین دو طبقه می‌نیمم شود؟

$$\frac{nS_1^2}{S_1^2 + S_2^2} \quad (۲) \qquad \frac{nS_1}{S_1 + S_2} \quad (۱)$$

$$\frac{N_1 S_1}{N_1 S_1 + N_2 S_2} n \quad (۴) \qquad \frac{N_1 S_1^2}{N_1 S_1^2 + N_2 S_2^2} n \quad (۳)$$

۱۲۱- از جامعه‌ای به حجم N ، نمونه‌ای تصادفی به حجم n انتخاب می‌کنیم. سپس از این نمونه، زیر نمونه‌ای تصادفی به حجم $n_1 = \frac{n}{3}$ (فرض کنید n بر ۳ بخش پذیر است) انتخاب می‌کنیم. میانگین نمونه اول \bar{y} و میانگین زیر نمونه را \bar{y}_1 می‌نامیم.

واریانس برآوردگر نااریب $\frac{\bar{y} + \bar{y}_1}{3}$ برای میانگین جامعه کدام است؟

$$\left(\frac{2}{n} - \frac{1}{N}\right)S^2 \quad (۲) \qquad \left(\frac{1}{2n} - \frac{1}{N}\right)S^2 \quad (۱)$$

$$\left(\frac{2}{n_1} - \frac{1}{N}\right)S^2 \quad (۴) \qquad \left(\frac{1}{2n_1} - \frac{1}{N}\right)S^2 \quad (۳)$$

۱۲۲- در طرح نمونه‌گیری با احتمال نابرابر و بدون جایگذاری، احتمال انتخاب دو واحد i و j در دو انتخاب اول چقدر است؟ ($p_i = 1 - q_i$ احتمال انتخاب واحد i است)

$$\frac{p_i}{q_i} p_j + \frac{p_j}{q_j} p_i \quad (۲) \qquad \frac{p_i}{p_j} q_j + \frac{p_j}{p_i} q_i \quad (۱)$$

$$\frac{p_i}{p_j} q_i + \frac{p_j}{p_i} q_j \quad (۴) \qquad \frac{p_i p_j}{1 - p_i p_j} \quad (۳)$$

۱۲۳- از جامعه‌ای متشکل از ۳ طبقه و براساس نمونه‌گیری مقدماتی با تخصیص متناسب نتیجه زیر به دست آمده است.

$$n_1 s_1 = 2n_2 s_2 = 3n_3 s_3$$

اگر $n = 33$ ، اندازه نمونه هر یک از طبقات (n_1, n_2, n_3) کدام است؟

(۱) $(6, 9, 18)$ (۲) $(5, 11, 17)$

(۳) $(17, 11, 5)$ (۴) $(18, 9, 6)$

۱۲۴- در یک آمارگیری نمونه‌ای با طبقه‌بندی که درون هر طبقه نمونه‌گیری تصادفی ساده بدون جایگذاری به کار رفته است، اطلاعات زیر حاصل شده است.

فرض کنید $n = 220$ نمونه به صورت تصادفی ساده و بدون طبقه‌بندی بدست آمده‌اند. برآوردی تقریبی از کارائی نسبی برآورد مقدار کل جامعه به روش طبقه‌بندی نسبت به روش تصادفی ساده کدام است؟

(۱) $21/0$

(۲) $74/0$

(۳) $26/1$

(۴) $79/0$

طبقه	N_h	n_h	\bar{x}_h	y_h
۱	۵۰۰	۵۰	۲	۴
۲	۷۰۰	۷۰	۴	۵
۳	۱۰۰۰	۱۰۰	۵	۶
مجموع	۲۲۰۰	۲۲۰		

۱۲۵- جامعه‌ای متناهی به حجم N با متغیری دو مقداری را در نظر بگیرید: اگر P نسبت

یکی از این دو مقدار در جامعه و p نسبت آن در یک نمونه‌ی تصادفی ساده و بدون جایگذاری به حجم n باشد، برآورد ناریب $P(1-P)$ کدام است؟

(۱) $p(1-p)$

(۲) $\frac{n(N-1)}{N(n-1)}p(1-p)$

(۳) $\frac{n}{(n-1)}p(1-p)$

(۴) $\frac{N(n-1)}{n(N-1)}p(1-p)$

۱۲۶- در مدل رگرسیون خطی ساده $y_i = \beta_0 + \beta_1 x_i + \varepsilon_i$ ، اگر $\varepsilon_i \sim N(0, \sigma^2)$ iid باشد، $\hat{\sigma}^2$ و برآوردگرهای ماکزیمم درست‌نمایی β_1 و σ^2 باشند، گزینه صحیح کدام است؟

(۱) b_1 نااریب و $\hat{\sigma}^2$ نااریب است. (۲) b_1 نااریب و $\hat{\sigma}^2$ اریب است.

(۳) b_1 اریب و $\hat{\sigma}^2$ اریب است. (۴) b_1 اریب و $\hat{\sigma}^2$ نااریب است.

۱۲۷- جمله $x_i \beta_1$ را به مدل رگرسیونی $y = \beta_0 + \beta_1 x_i + \varepsilon$ اضافه می‌کنیم. کدام گزینه در مورد مجموع مربعات خطا (SSE) و میانگین مربعات خطا (MSE) صحیح است؟

(۱) SSE کاهش و MSE ممکن است کاهش یابد.

(۲) SSE و MSE کاهش می‌یابند.

(۳) SSE ممکن است کاهش و MSE کاهش می‌یابد.

(۴) SSE کاهش و MSE افزایش می‌یابد.

۱۲۸- اگر e_i برای $i = 1, 2, \dots, n$ باقیمانده‌های مدل رگرسیون خطی باشند، تحت شرایط درستی مدل، همگنی واریانس‌ها و ناهمبسته بودن خطاها در مدل، کدام گزینه صحیح است؟

(۱) $E(e_i) \neq 0, \text{cov}(e_i, e_j) \neq 0, i \neq j$

(۲) $E(e_i) \neq 0, \text{cov}(e_i, e_j) = 0, i \neq j$

(۳) $E(e_i) = 0, \text{cov}(e_i, e_j) = 0, i \neq j$

(۴) $E(e_i) = 0, \text{cov}(e_i, e_j) \neq 0, i \neq j$

۱۲۹- در نمونه‌ای شامل ۱۰۰ مشاهده ضریب همبستگی بین X و Y برابر $۰٫۷۲-$ و خط برازش شده به روش کمترین توان‌های دوم عبارت است از $\hat{Y} = ۷ - ۳٫۴X$. بر اساس این نتایج درصد تغییرات قابل توصیف در متغیر Y توسط متغیر X که در رابطه خطی بیان می‌شود، برابر با کدام گزینه است؟

(۱) $۰٫۷۲-$

(۲) $-۳٫۴$

(۳) $۰٫۸۴۹$

(۴) $۰٫۵۱۸$

۱۳۰- میان دو متغیر تصادفی مثبت X و Y رابطه‌ی زیر برقرار است، کدام گزینه ضریب همبستگی بین $U = ۳X + ۵$ و $V = ۵Y + ۳$ است؟

$$\frac{X}{4Y} + \frac{Y}{X} = 1$$

(۱) $\frac{1}{15}$

(۲) $\frac{1}{4}$

(۳) ۱

(۴) $\frac{1}{4}$

$$-۱۳۱ \quad \text{در مدل رگرسیونی } \varepsilon + \begin{bmatrix} \beta_1 \\ \beta_2 \\ \beta_3 \\ \beta_4 \end{bmatrix} = y \text{ که در آن } y = \begin{bmatrix} 1 & -1 & -1 & 1 \\ 1 & 1 & -1 & -1 \\ 1 & -1 & 1 & -1 \\ 1 & 1 & 1 & 1 \end{bmatrix}$$

$E(\varepsilon) = 0$ و $\text{Var}(\varepsilon) = \sigma^2 \mathbf{I}$ ، کدام گزینه بهترین برآوردگر خطی نااریب β_2 است؟

$$\hat{\beta}_2 = \frac{(-y_1 + y_2 - y_3 + y_4)}{4} \quad (۱)$$

$$\hat{\beta}_2 = \frac{(+y_1 + y_2 + y_3 + y_4)}{4} \quad (۲)$$

$$\hat{\beta}_2 = \frac{(y_1 - y_2 - y_3 + y_4)}{4} \quad (۳)$$

$$\hat{\beta}_2 = \frac{(-y_1 - y_2 + y_3 + y_4)}{4} \quad (۴)$$

-۱۳۲ در یک مدل رگرسیونی چند گانه با n مشاهده و k متغیر مستقل کدام گزینه رابطه بین ضریب تعیین (R^2) و ضریب تعیین تعدیل شده (\bar{R}^2) را به درستی تبیین می‌کند؟

$$\bar{R}^2 = 1 - \frac{n}{k+1} R^2 \quad (۱)$$

$$R^2 = 1 - \frac{n-1}{n-(k+1)} \bar{R}^2 \quad (۲)$$

$$\bar{R}^2 = 1 - \frac{n-1}{n-(k+1)} (1 - R^2) \quad (۳)$$

$$R^2 = 1 - \frac{n-1}{n-(k+1)} \bar{R}^2 \quad (۴)$$

۱۳۳- در مدل رگرسیونی $y_i = \beta_0 + \beta_1 x_i + \varepsilon_i, i = 1, \dots, 5$ که در آن $\text{cov}(\varepsilon_i, \varepsilon_j) = 0, i \neq j, \text{var}(\varepsilon_i) = 1, E(\varepsilon_i) = 0$ کدام برآوردگر، دارای کمترین واریانس در کلاس برآوردگرهای خطی ناریب است؟ فرض کنید مقادیر x_i ها بصورت زیر هستند.

$$(x_1, x_2, x_3, x_4, x_5) = (-2, -1, 0, 1, 2)$$

$$\hat{\beta}_1 = 0.2 y_5 - 0.1 y_4 + 0.1 y_2 + 0.2 y_1 \quad (1)$$

$$\hat{\beta}_1 = -0.2 y_1 - 0.1 y_2 + 0.1 y_4 + 0.2 y_5 \quad (2)$$

$$\hat{\beta}_1 = -0.5 y_5 - 0.25 y_4 + 0.25 y_2 + 0.5 y_1 \quad (3)$$

$$\hat{\beta}_1 = -0.5 y_1 - 0.25 y_2 + 0.25 y_4 + 0.5 y_5 \quad (4)$$

۱۳۴- در یک مدل رگرسیون چندگانه، گزینه صحیح برای رابطه بین بردار باقیمانده‌ها و بردار مقادیر پیش‌بینی شده کدام است؟

(۱) رابطه آنها مشخص نیست. (۲) غیر وابسته به هم می‌باشند.

(۳) مستقل از هم می‌باشند. (۴) وابسته به هم می‌باشند.

۱۳۵- ضریب رگرسیون β_1 را در مدل $y_i = \beta_0 + \beta_1 x_{i1} + \varepsilon_i$ و ضریب رگرسیون

β_1^* را در مدل $y_i = \beta_0^* + \beta_1^* x_{i1} + \beta_2^* x_{i2} + \varepsilon_i$ برآورد می‌کنیم، اگر

$\hat{\beta}_1 = \hat{\beta}_1^*$ ، گزینه صحیح کدام است؟

$$\sum x_{i1} = 0, \sum x_{i1} x_{i2} = 0 \quad (1)$$

$$\sum x_{i2} = 0, \sum x_{i1} x_{i2} = 0 \quad (2)$$

$$\sum x_{i1} x_{i2} = 0 \quad (3)$$

$$\sum x_{i1} = \sum x_{i2} = 0, \sum x_{i1} x_{i2} = 0 \quad (4)$$

به اطلاع داوطلبان شرکت کننده در آزمون کارشناسی ارشد سال 1393 می‌رساند، کلید اولیه سوالات بر روی سایت سازمان سنجش قرار گرفته است. این کلید اولیه غیر قابل استناد است پس از دریافت نظرات داوطلبان و صاحب نظران کلید نهایی سوالات تهیه و بر اساس آن کارنامه داوطلبان استخراج خواهد شد. در صورت تمایل می‌توانید حداکثر تا تاریخ 92/12/8 با مراجعه به سایت سازمان سنجش www.sanjesh.org از طریق سیستم ارسال و درخواست نسبت به تکمیل فرمی که برای دریافت این نظرات آماده گردیده است اقدام نمایید. لازم به ذکر است نظرات داوطلبان فقط از طریق اینترنت دریافت خواهد شد و به موارد ارسالی از طریق دیگر رسیدگی نخواهد شد.

نوع دفترچه	نام رشته امتحانی	کد رشته امتحانی
E	اماروکاربردها	1207

شماره سوال	گزینه صحیح	شماره سوال	گزینه صحیح	شماره سوال	گزینه صحیح	شماره سوال	گزینه صحیح	شماره سوال	گزینه صحیح	شماره سوال	گزینه صحیح
1	1	31	2	61	3	91	2	121	3	151	سفید
2	3	32	3	62	1	92	4	122	2	152	سفید
3	4	33	4	63	3	93	2	123	4	153	سفید
4	2	34	1	64	3	94	4	124	3	154	سفید
5	3	35	4	65	4	95	1	125	2	155	سفید
6	1	36	4	66	4	96	4	126	2	156	سفید
7	4	37	1	67	1	97	2	127	1	157	سفید
8	2	38	2	68	2	98	1	128	4	158	سفید
9	4	39	3	69	1	99	3	129	4	159	سفید
10	3	40	1	70	3	100	4	130	3	160	سفید
11	1	41	2	71	4	101	3	131	1	161	سفید
12	3	42	4	72	2	102	1	132	3	162	سفید
13	2	43	3	73	4	103	4	133	2	163	سفید
14	4	44	4	74	1	104	2	134	2	164	سفید
15	1	45	2	75	2	105	2	135	4	165	سفید
16	4	46	4	76	3	106	4	136	سفید	166	سفید
17	1	47	4	77	2	107	2	137	سفید	167	سفید
18	2	48	2	78	1	108	3	138	سفید	168	سفید
19	1	49	3	79	2	109	4	139	سفید	169	سفید
20	3	50	3	80	1	110	1	140	سفید	170	سفید
21	2	51	1	81	4	111	4	141	سفید	171	سفید
22	2	52	2	82	4	112	1	142	سفید	172	سفید
23	1	53	1	83	3	113	1	143	سفید	173	سفید
24	2	54	2	84	1	114	4	144	سفید	174	سفید
25	3	55	2	85	4	115	2	145	سفید	175	سفید
26	3	56	4	86	3	116	3	146	سفید	176	سفید
27	4	57	4	87	2	117	1	147	سفید	177	سفید
28	2	58	4	88	3	118	4	148	سفید	178	سفید
29	3	59	3	89	3	119	2	149	سفید	179	سفید
30	1	60	4	90	1	120	1	150	سفید	180	سفید

شماره سوال	گزینه صحیح	شماره سوال	گزینه صحیح	شماره سوال	گزینه صحیح	شماره سوال	گزینه صحیح
181	سفید	211	سفید	241	سفید	271	سفید
182	سفید	212	سفید	242	سفید	272	سفید
183	سفید	213	سفید	243	سفید	273	سفید
184	سفید	214	سفید	244	سفید	274	سفید
185	سفید	215	سفید	245	سفید	275	سفید
186	سفید	216	سفید	246	سفید	276	سفید
187	سفید	217	سفید	247	سفید	277	سفید
188	سفید	218	سفید	248	سفید	278	سفید
189	سفید	219	سفید	249	سفید	279	سفید
190	سفید	220	سفید	250	سفید	280	سفید
191	سفید	221	سفید	251	سفید	281	سفید
192	سفید	222	سفید	252	سفید	282	سفید
193	سفید	223	سفید	253	سفید	283	سفید
194	سفید	224	سفید	254	سفید	284	سفید

195	سفید	225	سفید	255	سفید	285	سفید	315	سفید
196	سفید	226	سفید	256	سفید	286	سفید	316	سفید
197	سفید	227	سفید	257	سفید	287	سفید	317	سفید
198	سفید	228	سفید	258	سفید	288	سفید	318	سفید
199	سفید	229	سفید	259	سفید	289	سفید	319	سفید
200	سفید	230	سفید	260	سفید	290	سفید	320	سفید
201	سفید	231	سفید	261	سفید	291	سفید	321	سفید
202	سفید	232	سفید	262	سفید	292	سفید	322	سفید
203	سفید	233	سفید	263	سفید	293	سفید	323	سفید
204	سفید	234	سفید	264	سفید	294	سفید	324	سفید
205	سفید	235	سفید	265	سفید	295	سفید	325	سفید
206	سفید	236	سفید	266	سفید	296	سفید	326	سفید
207	سفید	237	سفید	267	سفید	297	سفید	327	سفید
208	سفید	238	سفید	268	سفید	298	سفید	328	سفید
209	سفید	239	سفید	269	سفید	299	سفید	329	سفید
210	سفید	240	سفید	270	سفید	300	سفید	330	سفید

خروج