

کد کنترل

920

A



عصر پنج‌شنبه
۱۴۰۳/۱۲/۰۲

دفترچه شماره ۱۱ از ۳



جمهوری اسلامی ایران
وزارت علوم، تحقیقات و فناوری
سازمان سنجش آموزش کشور

«علم و تحقیق، کلید پیشرفت کشور است.»
مقام معظم رهبری

آزمون ورودی دوره‌های دکتری (نیمه‌متمرکز) - سال ۱۴۰۴
زبان انگلیسی - عمومی

مدت زمان پاسخگویی: ۴۰ دقیقه

تعداد سؤال: ۴۰ سؤال

عنوان مواد امتحانی، تعداد و شماره سؤال‌ها

| ردیف | مواد امتحانی | تعداد سؤال | از شماره | تا شماره |
|------|----------------------|------------|----------|----------|
| ۱ | زبان انگلیسی - عمومی | ۴۰ | ۱ | ۴۰ |

استفاده از فرهنگ لغت مجاز نیست.

این آزمون نمره منفی دارد.

حق چاپ، تکثیر و انتشار سؤالات به هر روش (الکترونیکی و...) پس از برگزاری آزمون، برای تمامی اشخاص حقیقی و حقوقی تنها با مجوز این سازمان مجاز می‌باشد و با متخلفین برابر مقررات رفتار می‌شود.

* داوطلب گرامی، عدم درج مشخصات و امضا در مندرجات کادر زیر، به منزله عدم حضور شما در جلسه آزمون است.

اینجانب با شماره داوطلبی با آگاهی کامل، یکسان بودن شماره صندلی خود با شماره داوطلبی مندرج در بالای کارت ورود به جلسه، بالای پاسخنامه و دفترچه سؤالات، نوع و کد کنترل درج شده بر روی جلد دفترچه سؤالات و پایین پاسخنامه ام را تأیید می‌نمایم.

امضا:

زبان انگلیسی - عمومی:

PART A: Structure

Directions: Choose the answer choice (1), (2), (3), or (4) that best completes each sentence. Then mark the answer on your answer sheet.

- 1- Learning a new language new doors for us to explore different worlds.
1) opens 2) to open 3) opening 4) to be opened
- 2- I always thought she was storyteller I'd ever met in my entire life.
1) best 2) a better 3) better 4) the best
- 3- Pablo Neruda is best known for being a great writer of romantic poetry, he was also a man with strong political views.
1) During 2) While 3) Through 4) So
- 4- A PhD program is a journey, where the goal is not to write research papers grow as a researcher.
1) so to 2) as for 3) but to 4) in order for
- 5- Our duty is to believe we have enough evidence, and to suspend our judgment when we do not.
1) that which 2) which 3) that for which 4) which for that
- 6- When you reach question six on the exam, remember a deep breath before moving on; a little more oxygen and a smile work wonders when answering the following questions.
1) to take 2) taking 3) to be taken 4) take
- 7- Now she felt to him much more than a bright light dark evening; she was the one person—the only person—on whom his whole life depended.
1) otherwise on 2) despite on 3) in an otherwise 4) in a despite
- 8- Late uncle Bill preferred the slower pace of life in a remote village, where he always said he
1) has been retired 2) will retire 3) has retired 4) would retire

- 18- The primary of leadership is to produce more leaders, not more followers.
1) document 2) income 3) function 4) integration
- 19- The residential program will initially work on a basis, but officials predict that within a few years, it will be mandatory.
1) voluntary 2) unique 3) subsequent 4) relevant
- 20- In his speech addressed to an audience of young students, the professor indicated the aims he thought to college education.
1) devious 2) delighted 3) durable 4) appropriate
- 21- To get a visa, you should show evidence of admission from the institution where you intend to your studies at the PhD level.
1) defend 2) graduate 3) register 4) pursue
- 22- The tragedy is that there is so much more—money—to destroy the ecology than there is to preserve it.
1) insight 2) incentive 3) compromise 4) anthology
- 23- Employees don't need to be best friends, but there does need to be a level of respect and understanding.
1) congenital 2) contemporary 3) mutual 4) inverse
- 24- It is the mark of an educated mind to a thought without accepting it.
1) deprive 2) entertain 3) enrage 4) sympathize
- 25- In Romania, doctors were doing their best to fight misinformation and turn the against vaccine hesitancy so that more people brought their children for vaccination.
1) dogma 2) pessimism 3) temptation 4) tide
- 26- It is a detailed, highly technical report in which the reader must through numerous volumes of arcane data to learn how the ancient people lived.
1) wade 2) emanate 3) beckon 4) accumulate
- 27- The African municipal authority issued half-apology, which has only inflamed the public more. Therefore, the pounding cry for resignation builds until capitulation comes.
1) a soothing 2) an ingenuous 3) an exhaustive 4) a paltry
- 28- At the university, taking a seminar was a blood sport, albeit one with a highly-civilized: everyone was superficially congenial while struggling to stand out to gain a nod or a word of praise from the professor.
1) paucity 2) procrastination 3) veneer 4) cessation
- 29- Why do English movie-goers pay scant attention when a satire of their culture is brought to the screen? Is it that they are simply to satire by living in a society where grotesque reality seems to trump fiction at every turn?
1) inured 2) pulverized 3) limned 4) galvanized

- 30- Amid the howling of the wind and the beating of the rain and among an entranced crowd, who listened attentively, he was singing with intensity and passion.
 1) febrile 2) stolid 3) insolvent 4) captious

PART C: Reading Comprehension

Directions: Read the following two passages and answer the questions by choosing the best choice (1), (2), (3), or (4). Then mark the correct choice on your answer sheet.

PASSAGE 1:

Many people like to link the history of social media to the growth in communications technology that has been occurring since the end of the 19th century. A common starting point is Samuel Morse's first telegram, which he sent in 1844 between Washington, D.C. and Baltimore by telegraph. However, this type of communication does not qualify as social media. First, it did not take place "online," and second, telegrams do not contribute to any larger community or collective. Instead, they are used to send individual messages between two people. Therefore, the real history of social media starts in the 1970s with the development of the internet.

The internet has its roots in the 1960s and 1970s when various private and public organizations were working to try and find ways to get computers to communicate with one another. In a sense, this can be considered as the beginning of social media. However, it wasn't until the 1980s, and really the 1990s, that personal computers became more normal, which set the stage for the emergence of social media.

The website credited as being the "first online social media" site is Six Degrees. It's named after the "six degrees of separation" theory, which states that everyone in the world is connected to everyone else by no more than six degrees of separation. The reason Six Degrees is considered to be the first of the social networks is because it allowed people to sign up with their email address, make individual profiles, and add friends to their personal network. It was officially launched in 1997, and it lasted until about 2001. Its number of users peaked at around 3.5 million. It was bought out by YouthStream Media Networks in 1999 for \$125 million, but it shut down just about one year later.

- 31- The underlined word "it" in paragraph 1 refers to
 1) place 2) social media
 3) larger community 4) this type of communication
- 32- According to paragraph 1, which of the following statements is NOT true about social media?
 1) It would not have been possible without the pioneering invention of Samuel Morse.
 2) It has, in a significant sense, a collective nature and is not limited to two individuals only.
 3) It did not originate before the development of the internet.
 4) It is by definition an online phenomenon.
- 33- The underlined word "emergence" in paragraph 2 is closest in meaning to
 1) transformation 2) popularity 3) concept 4) appearance

- 34- **What is the main purpose of the passage?**
- 1) To clarify the impact of the internet on social media
 - 2) To define the “six degrees of separation” theory
 - 3) To explain the origin of social media
 - 4) To compare social media with telegraph
- 35- **According to the passage, which of the following statements is true?**
- 1) The scholar famous for his theory of “six degrees of separation” actually chose a name for the first social media website.
 - 2) The first telegram was transferred between Washington, D.C. and Baltimore approximately in the mid-18th century.
 - 3) Until the 1980s, when personal computers became more widely accessible, it was merely the governmental sector that utilized computers for the purpose of communication.
 - 4) The first social media website was launched in the 1990s, only to shut down less than half a decade later, roughly one year following its acquisition by another company.

PASSAGE 2:

Historians don't know for certain if the first prosthetics were primarily functional or for appearances. According to Katherine Ott, Ph.D., curator for the Division of Medicine and Science at the Smithsonian Institution's National Museum of American History, this is partly because different cultures have their own ideas about what makes a person whole. The oldest known prosthetics are two different artificial toes from ancient Egypt. One prosthetic toe, known as the “Greville Chester toe,” was made from cartonnage, which is a kind of papier-mâché made from glue, linen, and plaster. It is thought to be between 2,600 and 3,400 years old, though its exact age is unknown. Because it doesn't bend, researchers believe it was cosmetic. The other prosthetic, a wooden and leather toe known as the “Cairo toe,” is estimated to be between 2,700 and 3,000 years old. It is thought to be the earliest known practical artificial limb due to its flexibility and because it was refitted for the wearer multiple times.

Approximately 300 years later—300 B.C.—in Italy, an ancient Roman nobleman used a prosthetic leg known as the “Capua leg.” The leg was made of bronze and hollowed-out wood and was held up with leather straps. Other known early prosthetics include artificial feet from Switzerland and Germany, crafted between the 5th and 8th centuries. These were made from wood, iron, or bronze and may have been strapped to the amputee's remaining limb.

Soldiers who lost their limbs in battle often used early artificial limbs made of wood or iron. For instance, about 2,200 years ago, the Roman general Marcus Sergius Silus lost his right hand during the Second Punic War. He had it replaced with an iron one that was designed to hold his shield. Knights of the Middle Ages sometimes used wooden limbs for battle or to ride a horse. And in the 16th century, the reputable French surgeon Ambroise Paré designed and developed some of the first purely functional prosthetics for soldiers coming off the battlefield. He also published the earliest written reference to prosthetics in one of his detailed expositions about his ground-breaking discoveries on the subject.

- 36- According to paragraph 1, what is a possible reason that partly explains the uncertainty regarding the primary role of the first prosthetics?
- 1) Insignificance of prosthetics in ancient cultures
 - 2) A difference in various cultures' views of mankind
 - 3) The absence of any ancient prosthetic in the modern era
 - 4) Misrepresentation of ancient history by modern scholars
- 37- The underlined phrase "hollowed-out wood" in paragraph 2 best refers to a piece of wood
- 1) that is taken from a tree planted for medical purposes
 - 2) of which the flexibility and durability are ideal
 - 3) of which the core or inside section is empty
 - 4) that suits the amputee's weight and height
- 38- Which of the following pairs of techniques is used in the passage?
- 1) Description based on chronological order and Exemplification
 - 2) Rhetorical question and Description based on chronological order
 - 3) Exemplification and Personal anecdote
 - 4) Personal anecdote and Rhetorical question
- 39- The passage provides sufficient information to answer which of the following questions?
- I. What was the popular name of an extant prosthetic retrieved in Switzerland?
- II. What was the profession of the person to whom the "Cairo toe" belonged?
- III. What was a material used to build prosthetics during the Medieval period?
- 1) Only I
 - 2) Only III
 - 3) I and II
 - 4) II and III
- 40- According to the passage, which of the following statements is true?
- 1) Ambroise Paré stands as a seminal figure in the annals of the evolution of prosthetics, whose contributions to the field were not confined to his inventions but included his meticulously documented accounts of his findings.
 - 2) Among the surviving ancient prosthetic devices, one fashioned from wood and bronze, known as the "Capua leg," belonged to a Roman warrior who sustained the loss of a limb during a military conflict in Italy roughly in the 3rd century B.C.
 - 3) The Roman general Marcus Sergius Silus, while engaged in the Second Punic War, which occurred sometime prior to 300 B.C., sustained the grievous loss of his right hand, deciding to substitute it with a prosthetic limb composed of iron.
 - 4) The so-called "Greville Chester toe," composed of glue, linen, and plaster, dating back approximately two to three millennia ago, is esteemed as the earliest extant manifestation of a functional prosthetic limb.

کد کنترل

950

A



عصر پنج‌شنبه
۱۴۰۳/۱۲/۰۲



«علم و تحقیق، کلید پیشرفت کشور است.»
مقام معظم رهبری

دفترچه شماره ۲ از ۳

جمهوری اسلامی ایران
وزارت علوم، تحقیقات و فناوری
سازمان سنجش آموزش کشور

آزمون ورودی دوره‌های دکتری (نیمه‌متمرکز) - سال ۱۴۰۴

استعداد تحصیلی

مدت زمان پاسخگویی: ۵۰ دقیقه

تعداد سؤال: ۲۵ سؤال

عنوان مواد امتحانی، تعداد و شماره سؤال‌ها

| ردیف | مواد امتحانی | تعداد سؤال | از شماره | تا شماره |
|------|----------------|------------|----------|----------|
| ۱ | استعداد تحصیلی | ۲۵ | ۱ | ۲۵ |

تذکره: داوطلبان گرامی حتماً در بخش چهارم (صفحه ۱۳)، موارد مندرج در کادر توجه مهم را مطالعه نمایند.

استفاده از ماشین حساب مجاز نیست.

این آزمون نمره منفی دارد.

حق چاپ، تکثیر و انتشار سؤالات به هر روش (الکترونیکی و...) پس از برگزاری آزمون، برای تمامی اشخاص حقیقی و حقوقی تنها با مجوز این سازمان مجاز می‌باشد و با متخلفین برابر مقررات رفتار می‌شود.

✳ داوطلب گرامی، عدم درج مشخصات و امضا در مندرجات جدول زیر، به منزله عدم حضور شما در جلسه آزمون است.

ایتجانب با شماره داوطلبی با آگاهی کامل، یکسان بودن
شماره صندلی خود با شماره داوطلبی مندرج در بالای کارت ورود به جلسه، بالای پاسخنامه و دفترچه
سؤال‌ها، نوع و کد کنترل درج شده بر روی دفترچه سؤال‌ها و پایین پاسخنامه‌ام را تأیید می‌نمایم.

امضا:



بخش اول

راهنمایی:

در این بخش، دو متن به‌طور مجزا آمده است. هریک از متن‌ها را به‌دقت بخوانید و پاسخ سؤال‌هایی را که در زیر آن آمده است، با توجه به آنچه می‌توان از متن استنتاج یا استنباط کرد، پیدا کنید و در پاسخنامه علامت بزنید.

(۳۵) جنبه‌های نسبتاً آشکار، مسائل زمینه‌ای مانند افزایش هزینه‌های انرژی به دلیل الزام قانونی به افزایش سهم انرژی‌های تجدیدپذیر در زنجیره تأمین انرژی، مدیریت منطقه‌بندی اداری، فرایندهای برنامه‌ریزی و صدور مجوز و همچنین تأمین زودهنگام و دقیق اطلاعات در فرایندهای اجرایی خاص ممکن است بر نحوه تفکر مردم درباره نیروگاه‌های انرژی تجدیدپذیر تأثیر بگذارند.

(۴۵) در مجموع، این نکات بر اهمیت آشنایی با عوامل اجتماعی مرتبط با شکل‌گیری پذیرش عمومی نسبت به انرژی‌های تجدیدپذیر تأکید دارند. به همین ترتیب، لازم است فرایندهای مربوطه در سطح فردی بررسی شوند. با این همه، تاکنون تحقیقات علمی - اجتماعی اندکی در مورد جنبه‌های اجتماعی انرژی‌های تجدیدپذیر وجود داشته است. با این حال، دانش دقیق در مورد این فرایندها امکان ارائه توصیه‌ها بر اساس داده‌های تجربی را در مورد اقدامات منتخب برای اجرای سیستم‌های انرژی تجدیدپذیر دارای پذیرش اجتماعی فراهم می‌کند. (۵۵)

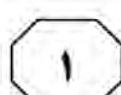
- ۱- کدام مورد زیر را می‌توان به درستی، از پاراگراف دوم متن استنباط کرد؟
- (۱) مشارکت مردم در فرایندهای برنامه‌ریزی و صدور مجوز، با استقبال جامعه آلمان همراه بوده است.
- (۲) عوامل اقتصادی، برجسته‌ترین دلایل موفقیت کاربرد انرژی‌های تجدیدپذیر در جامعه آلمان بوده‌اند.
- (۳) دغدغه‌های زیست‌محیطی، تغییر نظر جامعه آلمان درباره استفاده از انرژی‌های تجدیدپذیر را غیرممکن کرده‌اند.
- (۴) درباره پذیرش استفاده از انرژی‌های تجدیدپذیر از سوی مردم آلمان، تنشی میان نظریه و عمل وجود دارد.

سطر با توجه به اهداف کاهش دی‌اکسید کربن (CO_2) که در سیاست بین‌المللی تعیین شده‌اند، استفاده فزاینده از انرژی‌های تجدیدپذیر و تغییر لازم در سیستم‌های انرژی موجود در راستای پایداری به نحو گسترده مورد بحث قرار گرفته است. (۵) در آلمان، تولید برق از طریق انرژی‌های تجدیدپذیر، طی چند سال گذشته قویاً از سوی دولت پشتیبانی شده است. در نتیجه، تعداد سیستم‌های انرژی تجدیدپذیر در تولید برق به سرعت افزایش یافته است. برای رسیدن به اهداف کاهش CO_2 ، میزان حتی بالاتری از استفاده از انرژی‌های تجدیدپذیر لازم است. تاکنون این موضوع بیشتر از دیدگاه فنی ارزیابی شده است. از همین رو، مباحثات بر مسائلی از قبیل اتکالپذیری، تأمین انرژی یا چالش‌های ادغام شبکه متمرکز بوده‌اند.

با این حال، علاوه بر مسائل فنی، حقوقی و اقتصادی، پذیرش عمومی گسترده و انتقال آگاهی مربوطه به زندگی روزمره برای رسیدن به اهداف کاهش CO_2 ضروری است. بنابراین، بررسی فرایندهای اجتماعی مرتبط با انرژی‌های تجدیدپذیر دارای اهمیت است. علی‌رغم اینکه نظرسنجی‌های فراگیر افکار عمومی، حمایت چشمگیری از سیاست‌های انرژی پایدار و همچنین درصد فزاینده‌ای از انرژی‌های تجدیدپذیر در تولید برق را در سطح انتزاعی نشان می‌دهند، بسیاری از ساکنان در سطح محلی احساس می‌کنند سیستم‌های فناوری تجدیدپذیر نصب‌شده در نزدیکی محل سکونت آنها، کیفیت زندگی‌شان را شدیداً محدود می‌کنند؛ مثلاً با تغییرات نامطلوب مناظر، سروصدا، یا مشکلات حمل‌ونقل. افزون بر این، خطرات مرتبط با طبیعت، مانند مرگ‌ومیر بالقوه پرندگان، کاملاً جدی تلقی می‌شوند. علاوه بر این



950 A



۲-

کدام مورد زیر، نظر نویسنده متن را درباره

کاهش دی‌اکسید کربن در آلمان بیان می‌کند؟

(۱) قابلیت بهبود دارد.

(۲) در حالت آرمانی است.

(۳) امری کاملاً سیاسی است.

(۴) در حالت بحرانی قرار دارد.

۳-

بر اساس متن، کدام مورد درست است؟

(۱) ابعاد اجتماعی استفاده از انرژی‌های تجدیدپذیر،

از ابعاد فنی و اقتصادی آن اهمیت بیشتری

دارند.

(۲) تحقیقات درباره انرژی‌های تجدیدپذیر در سطح

اجتماعی، از تحقیقات در سطح فردی کمتر

بوده‌اند.

(۳) حمایت دولتی، از دلایل اصلی افزایش

کاربرد انرژی‌های تجدیدپذیر در آلمان بوده

است.

(۴) افزایش CO_2 باعث تخریب مناظر، آلودگی

صوتی و تهدید گونه‌های جانوری شده است.

به صفحه بعد بروید.

اعضای جامعه به‌طور مشترک متعهد شده‌اند که
 (۳۵) به‌منزله یک مجموعه، p را باور داشته باشند
 (گیلبرت، ۲۰۰۰). مفهوم تعهد مشترک و کاربرد
 عبارت «به‌منزله یک مجموعه» را می‌توان از
 طریق مقایسه آنها با تعهد شخصی، بهتر درک
 کرد. یک فرد در صورتی دارای تعهد شخصی
 است که اگر و تنها اگر، خودش تنها بانی تعهد و
 دارای این اختیار باشد که به‌طور یک‌جانبه آن را
 لغو کند. تعهد مشترک برابر با ترکیب تعهدات
 شخصی نیست، بلکه صرفاً تعهد دو یا چند نفر
 است. [۳] این مفهومی کل‌نگرانه است که
 (۴۵) نمی‌توان آن را صرفاً به‌منزله مجموع تعهدات
 شخصی تحلیل کرد. تصور می‌شود که
 مشارکت‌کنندگان در تعهد مشترک، به صورت
 یک واحد به یکدیگر پیوند می‌خورند. این با
 منظور گیلبرت از عبارت «به‌منزله یک مجموعه»
 در ارتباط است. باید توجه کرد که باور داشتن به
 (۵۰) p به‌منزله یک مجموعه، به معنای این نیست که
 هریک از مشارکت‌کنندگان p را باور دارند. این
 بدان معنی است که آنها واحدی را تشکیل
 می‌دهند که p را باور دارد. در نتیجه، اگر ما
 (۵۵) به‌منزله یک مجموعه، p را باور داریم، اقدامات
 هریک از ما باید این باور را بازتاب دهند. هیچ
 مشارکت‌کننده‌ای نمی‌تواند صرفاً با تغییر نظر
 خود، تعهدی مشترک را رها کند. اعضای یک
 جامعه به‌واسطه یک تعهد مشترک، دارای حقوق
 (۶۰) و وظایفی هستند. [۴]

سطر در نگاه اول، این ادعا که جوامع علمی دارای
 باورهای جمعی هستند، غیرقابل بحث به‌نظر
 می‌رسد، اما این امر، به منظور ما از «باور جمعی»
 بستگی دارد. گیلبرت (۱۹۸۹ و ۲۰۰۰) در تعریف
 (۵) این موضوع به‌منزله داشتن باورها و فرضیاتی که
 بخشی از یک گروه هستند، روایت «سوژه متکثر
 باور جمعی» را ارائه داد. علاوه‌براین، او استدلال
 کرد که در بررسی تغییرات علمی، ماهیت باور
 جمعی باید به طور جدی مورد توجه قرار گیرد.
 (۱۰) روایت سوژه متکثر باور جمعی را می‌توان با
 روایت انباشتی باور جمعی مقایسه کرد. طبق
 روایت انباشتی، یک گروه p را باور دارد، اگر و
 تنها اگر، تمام یا اکثر اعضای گروه p را باور
 دارند. این روایت به لحاظ حسی قانع‌کننده است.
 (۱۵) مثلاً، گفتن اینکه جامعه فیزیک ذرات باور دارد
 که شش گونه ذره، عناصر بنیادی ساختمان
 جهان هستند، به این معنا است که همه یا اکثر
 فیزیکدانان ذرات، آن را باور دارند. در این
 روایت، برای اینکه یک جامعه علمی، نظر خود را
 (۲۰) تغییر دهد، تمام یا اکثر دانشمندان باید نظر
 فردی خود را تغییر دهند. [۱] با این حال، گیلبرت
 از این دیدگاه انتقاد کرده است، زیرا ممکن است
 مواردی وجود داشته باشند که دیدگاه یک گروه
 با دیدگاه مشترک تمام اعضای آن متفاوت باشد.
 (۲۵) تغییرات در دیدگاه گروه، به لحاظ مفهومی از
 تغییرات در دیدگاه مشترک اعضای گروه متمایز
 هستند. در اصل، این امکان وجود دارد که پیش
 از تغییر باور جامعه، باورهای اکثر اعضا در مورد
 یک موضوع خاص تغییر کنند، یا اینکه باور یک
 (۳۰) جامعه، به‌رغم تغییر باورهای اکثر اعضا تغییر
 نکند. [۲]

در مقابل، روایت سوژه متکثر ادعا می‌کند
 در صورتی باوری جمعی به p وجود دارد که



950 A



-۴

بر اساس متن، کدام مورد درست نیست؟

- (۱) پایبندی به تعهدی مشترک، از الزامات اصلی روایت انباشتی درباره باور جمعی نیست.
- (۲) طبق نظر گیلبرت، توجه به تغییرات علمی در بررسی باورهای جمعی، اهمیتی حیاتی دارد.
- (۳) برخلاف آنچه معمولاً فرض می‌شود، ادعای وجود باورهای جمعی در جوامع علمی قابل بحث است.
- (۴) باور داشتن تمام اعضای یک جامعه به یک گزاره، شرط لازم هیچ‌یک از روایت‌های آمده در متن نیست.

-۶

کدام مورد زیر را می‌توان به‌درستی از متن استنباط کرد؟

- (۱) نخستین گام در راستای تغییر باورهای جمعی، رها کردن تعهدات شخصی و مشارکت در تعهدات مشترک است.
- (۲) به منظور پیشرفت یک جامعه علمی، لازم است اقدامات هریک از اعضای آن، باورهای جمعی جامعه را بازتاب دهند.
- (۳) ماهیت و محتوای یک باور، نقشی در تقسیم‌بندی گیلبرت میان روایت سوژه متکثر و روایت انباشتی باور جمعی ایفا نمی‌کند.
- (۴) نقش توافقی اکثریت درباره یک باور در علوم انسانی، به اندازه نقش آن در علوم طبیعی مانند فیزیک ذرات پررنگ نیست.

-۵

در متن، اطلاعات کافی برای پاسخ دادن به کدام پرسش زیر وجود دارد؟

- (۱) طبق نظر نویسنده متن، دلیل اصلی انتقاد گیلبرت به روایت سوژه متکثر باور جمعی چیست؟
- (۲) آیا از دید نویسنده، امکان ارائه روایتی دیگر از باورهای جمعی علاوه بر دو روایت مطرح‌شده در متن وجود دارد؟
- (۳) نگرش فیزیکدانان ذرات درباره عناصر بنیادی ساختمان جهان، چه تحولی در نگرش جامعه علمی فیزیک ایجاد کرده است؟
- (۴) در روایت سوژه متکثر، آیا در صورت جایگزینی باور p با باور q در ذهن یکی از اعضا، تغییری در باور جامعه رخ خواهد داد؟

-۷

کدام‌یک از مکان‌های زیر در متن که با شماره‌های [۱]، [۲]، [۳] و [۴] مشخص شده‌اند، بهترین محل برای قرار گرفتن جمله زیر است؟

«بنابراین، اگر یک دانشمند در تعهدی مشترک به باور p مشارکت کند، از او انتظار می‌رود بی‌چون‌وچرا از انکار آن خودداری کند.»

- (۱) [۴]
- (۲) [۳]
- (۳) [۲]
- (۴) [۱]

پایان بخش اول



بخش دوم

راهنمایی:

این بخش از آزمون استعداد، از انواع مختلف سؤال‌های کمی، شامل مقایسه‌های کمی، استعداد ریاضیاتی، حل مسئله و ... تشکیل شده است.

- توجه داشته باشید به خاطر متفاوت بودن نوع سؤال‌های این بخش از آزمون، هر سؤال را براساس دستورالعمل ویژه‌ای که در ابتدای هر دسته سؤال آمده است، پاسخ دهید.

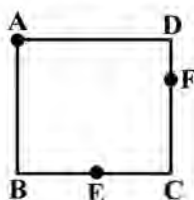


950 A



راهنمایی: هر کدام از سؤال‌های ۸ تا ۱۱ را به دقت بخوانید و جواب هر سؤال را در پاسخنامه علامت بزنید.

- ۸- شرکتی ۱۷۰۰ دستگاه از محصول خود را هر کدام به قیمت ۷ میلیون تومان و ۸۵۰ دستگاه را هر کدام به قیمت ۴ میلیون تومان به فروش می‌رساند. اگر هزینه شرکت برای تولید هر واحد محصول ۵ میلیون تومان باشد، سود یا زیان شرکت از فروش این ۲۵۵۰ دستگاه، چند میلیون تومان است؟
- ۱۰- طنابی به طول ۲۴ سانتی‌متر را به صورت مربع مطابق شکل زیر درآورده و آن را هم‌زمان از ۳ نقطه A ، E و F آتش می‌زنیم. E وسط ضلع BC است. همچنین طول DF یک سوم طول ضلع مربع است. نسبت مدت‌زمانی که طناب دقیقاً از ۴ جا می‌سوزد به مدت‌زمانی که طناب دقیقاً از ۲ جا در حال سوختن است، کدام است؟



(۱) ۲۵۵۰ سود

(۲) ۲۵۵۰ ضرر

(۳) ۴۲۵۰ سود

(۴) نه سود کرده است و نه ضرر.

(۱) ۳

(۲) ۱

(۳) $\frac{8}{9}$ (۴) $\frac{1}{2}$

- ۹- یک مربع را با رسم یک پاره‌خط به دو مستطیل تقسیم کرده‌ایم، به طوری که مساحت یکی از مستطیل‌ها دو برابر دیگری شده است. سپس پاره‌خط دیگری را طوری رسم می‌کنیم که مربع اولیه را به ۴ مستطیل با مساحت‌های به ترتیب از بزرگ به کوچک A ، B ، C و D تقسیم کند. اگر نسبت D به A برابر با نسبت یک به هشت باشد، نسبت C به B کدام است؟

(۱) ۱ به ۸

(۲) ۱ به ۴

(۳) ۱ به ۳

(۴) ۱ به ۱

به صفحه بعد بروید.



950 A



۱۱- یک بانک در هر تراکنش، فقط اجازه انتقال یا ۵ میلیون تومان یا ۸ میلیون تومان را می‌دهد. هریک از زهرا، حمیده و لاله مبلغ زیادی در حساب بانکی خود دارند. زهرا ۱ میلیون تومان به حمیده و ۴ میلیون تومان به لاله بدهی دارد. او قصد دارد با استفاده از تراکنش‌ها، بدهی‌های خود را بپردازد؛ به این ترتیب که ابتدا با یک یا چند تراکنش، مبالغی را به هریک از حمیده و لاله ارسال کند. سپس حمیده و لاله با یک یا چند تراکنش، مبالغی را به زهرا پس دهند، به‌طوری‌که بدهی‌ها و طلب‌ها کاملاً تسویه شود. همچنین حمیده و لاله اجازه ارسال پول به یکدیگر با استفاده از تراکنش را ندارند. کمترین تعداد تراکنش‌هایی که این ۳ نفر در مجموع باید انجام دهند، کدام است؟

(۱) ۶

(۲) ۱۱

(۳) ۱۲

(۴) ۱۴

راهنمایی: هرکدام از سؤال‌های ۱۲ و ۱۳، شامل دو مقدار یا کمیت هستند، یکی در ستون «الف» و دیگری در ستون «ب». مقادیر دو ستون را با یکدیگر مقایسه کنید و با توجه به دستورالعمل، پاسخ صحیح را به شرح زیر تعیین کنید:

- اگر مقدار ستون «الف» بزرگ‌تر است، در پاسخنامه گزینه ۱ را علامت بزنید.

- اگر مقدار ستون «ب» بزرگ‌تر است، در پاسخنامه گزینه ۲ را علامت بزنید.

- اگر مقادیر دو ستون «الف» و «ب» با هم برابر هستند، در پاسخنامه گزینه ۳ را علامت بزنید.

- اگر براساس اطلاعات داده‌شده در سؤال، نتوان رابطه‌ای را بین مقادیر دو ستون «الف» و «ب» تعیین نمود، در پاسخنامه گزینه ۴ را علامت بزنید.

۱۳- سرمایه علی و حمید در ابتدا با هم برابر است. علی ۲۵ درصد از سرمایه‌اش را به حمید می‌دهد. سپس حمید ۲۰ درصد از سرمایه فعلی‌اش را به علی می‌دهد.

«ب»
سرمایه نهایی حمید

«الف»
سرمایه نهایی علی

۱۲- خانواده‌ای ۲ فرزند دختر و ۳ فرزند پسر دارد. در حال حاضر، مجموع سن ۲ دختر بیش از مجموع سن ۳ پسر است.

«ب»
مجموع سن ۳ پسر
خانواده در سال
آینده

«الف»
مجموع سن ۲
دختر خانواده در
سال آینده

پایان بخش دوم



بخش سوم

راهنمایی:

در این بخش، توانایی تحلیلی شما مورد سنجش قرار می‌گیرد. سؤال‌ها را به دقت بخوانید و پاسخ صحیح را در پاسخنامه علامت بزنید.



950 A



راهنمایی: با توجه به اطلاعات زیر، به سؤال‌های ۱۴ تا ۱۶ پاسخ دهید.

- یک آشپز می‌خواهد از شنبه تا پنج‌شنبه ۶ غذای مختلف A, B, C, D, E و F را بپزد. هر غذا فقط در یک روز پخت می‌شود. درخصوص نوع غذاها و روز پخت آن‌ها، شرایط زیر قرار است رعایت شود:
- F سه‌شنبه پخت شود.
 - B شنبه یا پنج‌شنبه پخت شود.
 - A و C در دو روز متوالی و نه لزوماً به ترتیب پخت شوند.
 - A و E در دو روز متوالی پخت نشوند.
- ۱۶- اگر D در روز پنج‌شنبه پخت شود، نوع غذای چند روز دیگر، به‌طور قطع مشخص می‌شود؟
- (۱) نمی‌توان تعیین کرد.
(۲) ۴
(۳) ۳
(۴) ۲

- ۱۴- اگر A و B (نه لزوماً به ترتیب) در دو روز متوالی پخت شوند، کدام مورد زیر، درخصوص نوع غذا و روزی که قرار است پخت شود، به‌طور قطع درست است؟
- (۱) D - پنج‌شنبه
(۲) B - پنج‌شنبه
(۳) A - دوشنبه
(۴) C - دوشنبه

- ۱۵- اگر A در هیچ‌یک از روزهای شنبه، یک‌شنبه و دوشنبه پخت نشود، به‌طور قطع، کدام مورد درست است؟
- (۱) اگر پخت E دوشنبه باشد، D باید یک‌شنبه پخت شود.
(۲) اگر پخت D دوشنبه باشد، C باید پنج‌شنبه پخت شود.
(۳) اگر پخت C چهارشنبه باشد، E باید یک‌شنبه پخت شود.
(۴) اگر پخت A پنج‌شنبه باشد، D باید دوشنبه پخت شود.

به صفحه بعد بروید.



950 A

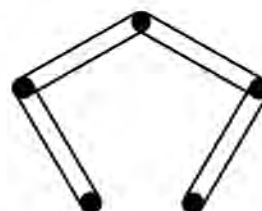


راهنمایی: با توجه به اطلاعات و شکل زیر، به سؤال‌های ۱۷ تا ۲۰ پاسخ دهید.

- ۱۹- اگر میخ D با کش سبز در تماس باشد، کدام مورد زیر، به‌طور قطع صحیح است؟
 (۱) A فقط یا یک کش در تماس است.
 (۲) کش نارنجی به میخ E وصل است.
 (۳) B با کش نارنجی در تماس است.
 (۴) فقط یک کش به میخ B وصل است.

پنج میخ مطابق شکل زیر، روی دیواری نصب شده و چهار عدد کش، هرکدام از کش‌ها به یکی از رنگ‌های سبز، زرد، قرمز و نارنجی هستند. قرار است میخ‌ها را به نام‌های A، B، C، D و E (نه لزوماً به ترتیب) نامگذاری کنیم، به‌طوری‌که محدودیت‌های زیر رعایت شوند:

- کش زرد، میخ‌های A و D را به هم وصل کرده است.
- دور میخ C دو کش افتاده که هیچ‌کدام به رنگ قرمز نیستند.
- میخ A با کش قرمز و میخ E با کش سبز در تماس نیستند.



- ۲۰- کدام مورد زیر، نمی‌تواند بالاترین میخ باشد؟

- (۱) E
 (۲) D
 (۳) B
 (۴) A

- ۱۷- اگر کش قرمز با بالاترین میخ در تماس باشد، کدام میخ به‌طور قطع، جزو پایین‌ترین میخ‌ها است؟

- (۱) E
 (۲) D
 (۳) B
 (۴) A

- ۱۸- اگر میخ D فقط با یک کش در تماس باشد، رنگ کش متصل به میخ دیگری که آن هم فقط با یک کش در تماس است، به‌طور قطع کدام است؟

- (۱) سبز
 (۲) قرمز
 (۳) نارنجی
 (۴) نمی‌توان تعیین کرد.

پایان بخش سوم



بخش چهارم



متقاضیان گرامی، در بخش چهارم، دو دسته سؤال داده شده است:

الف - استعداد منطقی - ویژه متقاضیان کلیه گروه‌های امتحانی به جز گروه امتحانی فنی و مهندسی

در بخش چهارم از آزمون استعداد تحصیلی، می‌بایست کلیه متقاضیان گروه‌های امتحانی هنر، زبان، علوم انسانی، کشاورزی و منابع طبیعی، دامپزشکی و علوم پایه، به جز متقاضیان گروه امتحانی فنی و مهندسی، فقط به سؤالات استعداد منطقی (سؤال‌های ۲۱ تا ۲۵) در صفحات ۱۳ تا ۱۶ پاسخ دهند.

ب - استعداد تجسمی - ویژه متقاضیان گروه امتحانی فنی و مهندسی

در این بخش، می‌بایست فقط متقاضیان گروه امتحانی فنی و مهندسی، به سؤالات استعداد تجسمی ویژه گروه امتحانی خود (سؤال‌های ۲۱ تا ۲۵) در صفحات ۱۷ تا ۲۰ پاسخ دهند.

الف - سؤالات استعداد منطقی ویژه متقاضیان کلیه گروه‌های امتحانی به جز گروه امتحانی فنی و مهندسی

(داوطلبان گروه فنی و مهندسی صرفاً به سؤال‌های صفحات ۱۷ تا ۲۰ پاسخ دهند.)

راهنمایی:

برای پاسخگویی به سؤال‌های این بخش، لازم است موقعیتی را که در هر سؤال مطرح شده، مورد تجزیه و تحلیل قرار دهید و سپس گزینه‌ای را که فکر می‌کنید پاسخ مناسب‌تری برای آن سؤال است، انتخاب کنید. هر سؤال را با دقت بخوانید و با توجه به واقعیت‌های مطرح شده در هر سؤال و نتایجی که بیان شده و بیان نشده ولی قابل استنتاج است، پاسخی را که صحیح‌تر به نظر می‌رسد، انتخاب و در پاسخنامه علامت بزنید.



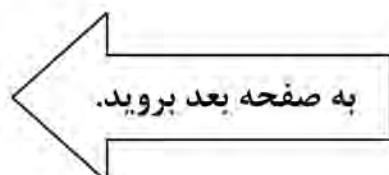
۲۱- مطالعه به مثابه وسیله‌ای برای کسب آگاهی و علم است. حال ممکن است این پرسش مطرح شود که مگر نمی‌شود بدون تحصیلات دانشگاهی به علم دست یافت؟ پاسخ روشن است: معلوم است که می‌شود! اما پاسخ ادامه دارد: معلوم است که می‌شود، اما تحصیلات عالی به انسان این فرصت را می‌دهد که راحت‌تر از علم و دانشی که کسب کرده، استفاده کند و به مدارج شغلی و اجتماعی بالاتر دست یابد. تحصیل باعث افزایش خلاقیت و قدرت تفکر افراد می‌شود، کمک می‌کند که شانس دانش‌آموختگان برای کسب مشاغل بهتر افزایش یابد و به آن‌ها در ساختن آینده‌ای روشن‌تر یاری می‌رساند. به عبارت دیگر، کدام مورد، جای خالی متن را به منطقی‌ترین وجه کامل می‌کند؟

- ۱) این پرسش اساساً محلی از اعراب ندارد
- ۲) تحصیل همه چیز نیست، آنچه که مهم است، رشد کردن است
- ۳) دانشگاه مقدمه‌ای لازم، اما نه کافی، برای ورود به بازار کار است
- ۴) باید کسب علم در دانشگاه را یک هدف والا قلمداد کرد، نه یک وسیله

۲۲- هیچ‌کس فکرش را هم نمی‌کند که با دوربین مادون قرمز که موجودات و اشیاء را براساس گرمای آن‌ها نمایان می‌کند، نشود خرس قطبی را شناسایی کرد! برخلاف این تصور که فکر می‌کنیم اگر به بدن خرس قطبی دست بزنیم، بسیار گرم است، اما اصلاً این‌طور نیست. در خرس‌ها، لایه ضخیم چربی در زیر پوست و موهای پرپشت و متراکم روی پوست، مانع خروج گرما از بدن می‌شوند، به‌طوری‌که دمای خارج بدن آن‌ها مانند دمای بیرون محیط‌شان بسیار سرد است و گرمایی از آن‌ها ساطع نمی‌شود تا توسط دوربین شناسایی شود؛ در صورتی‌که انسان‌ها به راحتی توسط این دوربین شناسایی خواهند شد.

کدام مورد زیر را می‌توان به درستی، از متن فوق استنباط کرد؟

- ۱) در بسیاری از موجودات، میزان ساطع شدن انرژی از بدن، با میزان تطبیق‌پذیری آن‌ها رابطه عکس دارد.
- ۲) بدن انسان‌های ساکن قطب هم در طول سالیان به‌طوری تکامل یافته که کمترین گرما را ساطع می‌کند.
- ۳) بدن خرس‌های قطبی برای زندگی در قطب، به نوعی با شرایط آن تطبیق یافته است.
- ۴) به‌عبارت دیگر، موجودات دیگری نیز به صورت دائمی در قطب زندگی می‌کنند.





- ۲۳- عطرها خیلی بیشتر از آنچه تصور می‌کنیم، زندگی ما را تحت تأثیر قرار می‌دهند. آن‌ها نقش مهمی در تقویت آرامش انسان دارند، زیرا ارتباط مستقیم و قدرتمندی با احساسات و خاطرات ما دارند. گفته می‌شود که برخی از رایحه‌ها مانند بابونه، وانیل، اکالیپتوس، اسطوخودوس و گل رز، دارای اثر آرامش‌بخش هستند و باعث ایجاد آرامش و بهبود کیفیت خواب می‌شوند. استنشاق این رایحه‌ها موجب آزاد شدن انتقال‌دهنده‌های عصبی مانند سروتونین و دوپامین شده که باعث ایجاد حس خوب و کاهش استرس و اضطراب می‌شود.
- کدام مورد، در صورتی که صحیح فرض شود، نتیجه‌گیری پایانی متن را به بهترین شکل تضعیف می‌کند؟
- ۱) در نوع تأثیر عوامل مختلف بر مکانیزم فعال‌سازی انتقال‌دهنده‌های عصبی در بدن انسان، فاکتور سلیقه شخصی نقش تعیین‌کننده‌ای دارد.
- ۲) به دلیل افزایش سرسام‌آور قیمت وسایل آرایشی و بهداشتی، از جمله عطر و ادکلن، دسترسی افراد به آن‌ها کاهش یافته است.
- ۳) به جز سروتونین و دوپامین، انتقال‌دهنده‌های عصبی دیگری نیز در بدن هستند که در کاهش اضطراب انسان نقش دارند.
- ۴) برخی سودجویان، نمونه تقلبی برندهای معروف عطر را بدون توجه به اصالت رایحه‌های آن‌ها، روانه بازار کرده‌اند.
- ۲۴- بعضی حیوانات از قابلیت موسوم به «پیری نامحسوس» برخوردارند؛ این بدان معنی است که از نظر تئوری، این حیوانات می‌توانند تا ابد زنده بمانند. برای مثال، کروکودیل‌ها نمی‌توانند بر اثر کهولت سن بمیرند و تا ابد به غذا خوردن ادامه می‌دهند. باین حال، احتمال دیدن یک کروکودیل هزارساله بسیار بعید است، چون بیشتر این حیوانات بر اثر گرسنگی و بیماری یا به دست دیگر موجودات شکارچی تلف می‌شوند.
- کدام مورد، رابطه دو بخش از متن که زیر آن‌ها خط کشیده شده را به بهترین وجه نشان می‌دهد؟
- ۱) اولی، یک باور عمومی است که نویسنده آن را صحیح می‌پندارد و دومی، بیانگر عواملی است که آن باور را زیر سؤال می‌برد.
- ۲) اولی، گزاره‌ای شبه‌علمی است که فاقد شواهد کافی است و دومی، مجموعه فاکتورهایی است که آن گزاره را به نوعی تأیید می‌کنند.
- ۳) اولی، حقیقتی علمی است که به نوعی مقبولیت عام دارد و دومی، مجموعه عواملی است که سرنوشت بیشتر جانداران را رقم می‌زند.
- ۴) اولی، ادعای متنی است که نویسنده به آن باور دارد و دومی، دربردارنده فاکتورهایی است که مانع تحقق نتیجه آن ادعا می‌شوند.



950 A



۲۵- با اینکه همه ما از رازدار بودن افراد به عنوان یکی از ویژگی های اخلاقی بسیار خوب و مثبت یاد می کنیم، اما باید بدانید این خصوصیت می تواند به قیمت به خطر افتادن سلامت فرد تمام شود. هرچه رازی که شخص در دل نگه می دارد مهم تر و ارزشمندتر باشد، خطرش هم بیشتر است. باور کنید این حرف ها بی پایه نیستند. متخصصان عصب شناسی بر پایه پژوهش هایی جامع اعلام کرده اند که از نظر بیولوژیکی، بسیار بهتر است افراد رازهای خود را برملا سازند یا دست کم رازدار دیگران نشوند. دلیل آن نیز این است که رازها در جاهای نادرستی در ذهن ذخیره می شوند.

کدام مورد، در صورتی که صحیح فرض شود، استدلال اصلی متن را به منطقی ترین شکل توجیه می کند؟
(۱) تصویربرداری MRI از مغز افراد رازدار، تغییراتی را در بخش های مختلف مغز نشان می دهد که ارتباط مستقیمی با سخن گفتن دارند.

(۲) اگر رازی را در دل خود نگه دارید، به کورتکس مغز اجازه نمی دهید به روش طبیعی، اطلاعات را منتقل کند و این موجب استرس مغز می شود.

(۳) اندیشمندان حوزه فلسفه علم، بر این موضوع تأکید دارند که هیچ همخوانی ذاتی بین گزاره های اخلاقی و توصیه های علمی پزشکی وجود ندارد.

(۴) در برخی جوامع توسعه یافته که دارای شاخص های سلامت بالا هستند، رازداری نه به مثابه یک اصل متقن اخلاقی، بلکه به عنوان یک قرارداد اجتماعی وجود دارد.

پایان بخش چهارم

ویژه متقاضیان تمامی گروه های امتحانی به جز گروه امتحانی فنی و مهندسی



بخش چهارم



ب - استعداد تجسمی - ویژه متقاضیان گروه امتحانی فنی و مهندسی

در این بخش، فقط متقاضیان گروه امتحانی فنی و مهندسی، می‌بایست به سؤالات استعداد تجسمی (سؤال‌های ۲۱ تا ۲۵) در صفحات ۱۷ تا ۲۰ پاسخ دهند و متقاضیان سایر گروه‌های امتحانی (هنر، زبان، علوم انسانی، کشاورزی و منابع طبیعی، دامپزشکی و علوم پایه)، از پاسخگویی به سؤالات این بخش، اکیداً خودداری نمایند.

ب - استعداد تجسمی - ویژه متقاضیان گروه امتحانی فنی و مهندسی

(داوطلبان سایر گروه‌های امتحانی به جز فنی و مهندسی صرفاً به سؤال‌های صفحات ۱۳ تا ۱۶ پاسخ دهند.)

راهنمایی:

این بخش از آزمون استعداد، سؤال‌هایی از نوع تجسمی را شامل می‌شود. هریک از سؤال‌های ۲۱ تا ۲۵ را به دقت بررسی نموده و جواب صحیح را در پاسخنامه علامت بزنید.

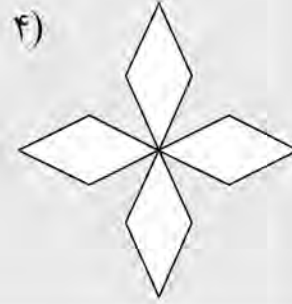

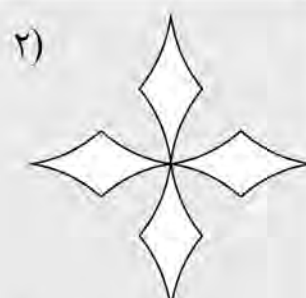

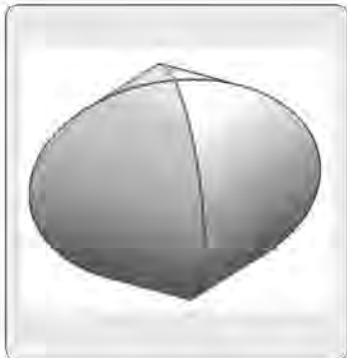


950 A





راهنمایی: در سؤال ۲۱، در سمت چپ، حجم حاصل از تقاطع دو پوسته استوانه‌ای نشان داده شده است. کدام الگو (موارد ۱ تا ۴)، نمایش دهنده سطح گسترده این حجم است؟

۲۱-



راهنمایی: در سؤال ۲۲، در سمت چپ، ۵ کاشی طرح‌دار نمایش داده شده است. به کمک ۴ عدد از این کاشی‌ها، یک سطح 2×2 (الگوی سمت راست) ساخته می‌شود، به نحوی که در محل اتصال کاشی‌ها، فقط مثلث دیده می‌شود. این کاشی‌ها کدام‌اند؟

۲۲-



۴) A, B, D و E

۳) A, B, C و D

۲) B, C, D و E

۱) A, C, D و E

به صفحه بعد بروید.

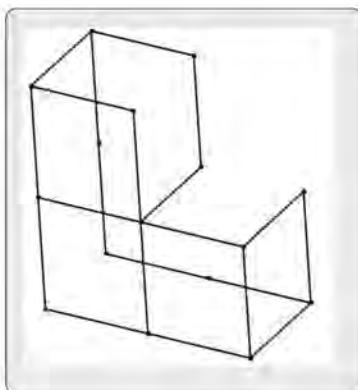


950 A

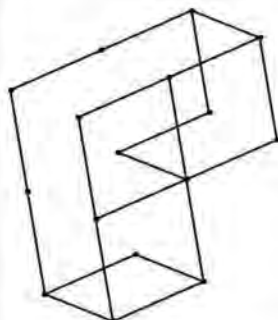


راهنمایی: در سؤال ۲۳، الگوی ساخته شده از میله های فولادی یکسان، در سمت چپ نمایش داده شده است.
کدام یک از شکل های سمت راست (موارد ۱ تا ۴)، تصویری از این الگو را از زاویه دیگر نمایش نمی دهد؟

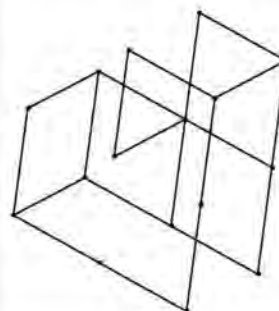
۲۳-



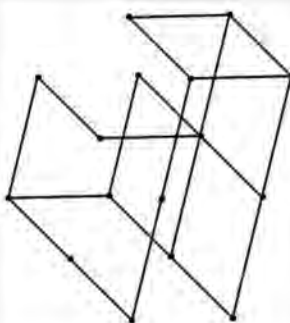
۱)



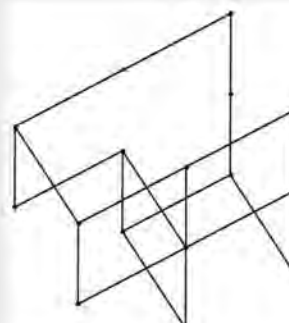
۲)



۳)



۴)



به صفحه بعد بروید.

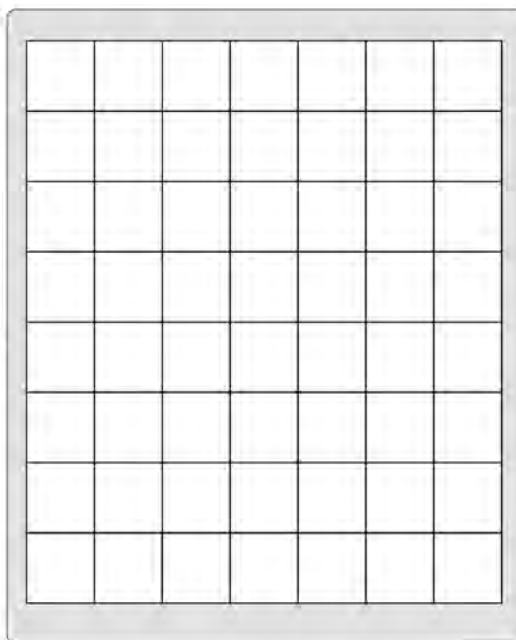
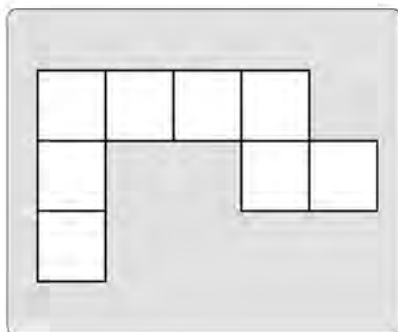


950 A



راهنمایی: در سؤال ۲۴، در سمت چپ، یک الگوی کاغذی نمایش داده شده است. حداکثر چند قطعه از این تکه کاغذ را بدون همپوشانی می‌توان در شکل سمت راست جای‌گذاری کرد، ضمن آنکه قابلیت چرخش و پشت‌ورو کردن تکه کاغذ وجود داشته باشد؟

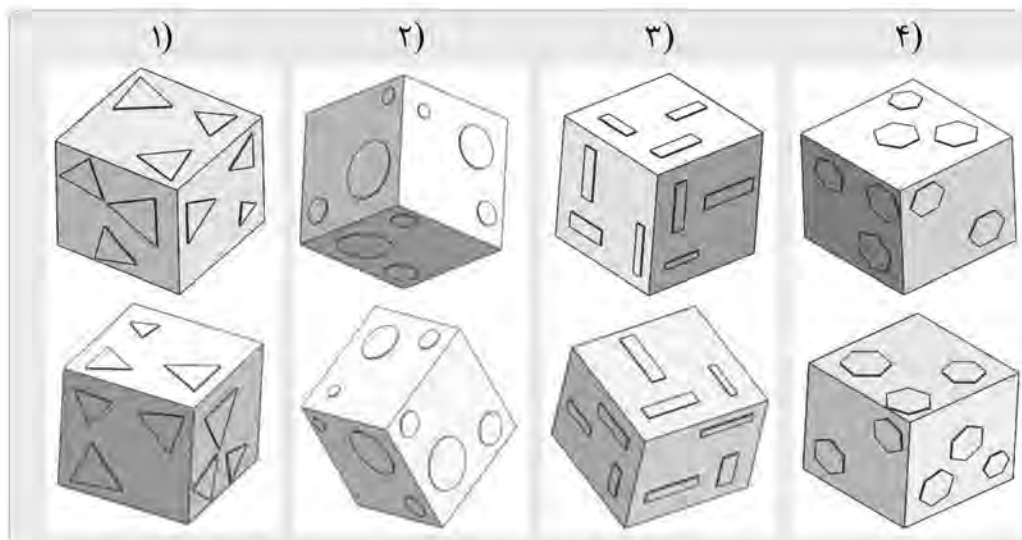
۲۴-



- ۴ (۱)
- ۵ (۲)
- ۶ (۳)
- ۷ (۴)

راهنمایی: در سؤال ۲۵، در هر گزینه (موارد ۱ تا ۴)، دو مکعب نشان داده شده است که در سه گزینه، دو مکعب یکسان اما از دو زاویه مختلف نشان داده شده‌اند و در یک گزینه، دو مکعب باهم تفاوت دارند. در کدام گزینه، این تفاوت وجود دارد؟

۲۵-




پایان بخش چهارم

ویژه متقاضیان گروه امتحانی فنی و مهندسی

کد کنترل

906

A



906A

عصر پنج شنبه

۱۴۰۳/۱۲/۰۲



جمهوری اسلامی ایران
وزارت علوم، تحقیقات و فناوری
سازمان سنجش آموزش کشور

«علم و تحقیق، کلید پیشرفت کشور است.»
مقام معظم رهبری

دفترچه شماره ۳ از ۳

آزمون ورودی دوره‌های دکتری (نیمه‌متمرکز) - سال ۱۴۰۴
مهندسی کامپیوتر (کد ۲۳۵۴)

مدت زمان پاسخگویی: ۱۳۵ دقیقه

تعداد سؤال: ۱۲۵ سؤال

عنوان مواد امتحانی، تعداد و شماره سؤال‌ها

| ردیف | مواد امتحانی | تعداد سؤال | از شماره | تا شماره |
|------|--|------------|----------|----------|
| ۱ | ساختمان داده‌ها و طراحی الگوریتم‌ها | ۲۰ | ۱ | ۲۰ |
| ۲ | مدار منطقی و معماری کامپیوتر | ۲۰ | ۲۱ | ۴۰ |
| ۳ | سیستم‌های عامل پیشرفته | ۱۵ | ۴۱ | ۵۵ |
| ۴ | پایگاه داده‌های پیشرفته | ۱۰ | ۵۶ | ۶۵ |
| ۵ | شناسایی الگو - یادگیری ماشین | ۲۵ | ۶۶ | ۹۰ |
| ۶ | شبکه‌های پیشرفته | ۱۰ | ۹۱ | ۱۰۰ |
| ۷ | معماری کامپیوتر پیشرفته - VLSI پیشرفته | ۲۵ | ۱۰۱ | ۱۲۵ |

استفاده از ماشین حساب مجاز نیست.

این آزمون نمره منفی دارد.

حق چاپ، تکثیر و انتشار سؤالات به هر روش (الکترونیکی و...) پس از برگزاری آزمون، برای تمامی اشخاص حقیقی و حقوقی تنها با مجوز این سازمان مجاز می‌باشد و با متخلفین برابر مقررات رفتار می‌شود.

* داوطلب گرامی، عدم درج مشخصات و امضا در مندرجات کادر زیر، به منزله عدم حضور شما در جلسه آزمون است.

اینجانب با شماره داوطلبی با آگاهی کامل، یکسان بودن شماره صندلی خود با شماره داوطلبی مندرج در بالای کارت ورود به جلسه، بالای پاسخنامه و دفترچه سوالات، نوع و کد کنترل درج شده بر روی جلد دفترچه سوالات و پایین پاسخنامه را تأیید می‌نمایم.

امضا:

ساختمان داده‌ها و طراحی الگوریتم‌ها:

۱- فرض کنید $T(x) = 2T\left(\frac{x}{4}\right) + 2T\left(\frac{x}{8}\right) + \theta(x \log x)$. در این صورت، کدام مورد درست است؟

(۱) $T(x) = \theta(x^2)$

(۲) $T(x) = \theta(x \log x)$

(۳) $T(x) = \theta(x (\log x)^2)$

(۴) $T(x) = \theta(x^2 \log x)$

۲- پیچیدگی قطعه برنامه زیر، چقدر است؟

```
sum = 0;
for(i = 1 ; i <= n; i++)
    for(j = 1 ; j <= i * i; j++)
        if(j % i == 0)
            for(k = 1 ; k <= j; k++)
                _____ sum += 1;
```

(۱) $\theta(n^2)$

(۲) $\theta(n^4)$

(۳) $\theta(n^5)$

(۴) $\theta(n^2 \log n)$

۳- اگر $f(n) = \Omega(g(n))$ و $g(n) = O(f(n))$ باشد، در آن صورت حتماً کدام مورد درست است؟

(۱) $f(n) = \theta(g(n))$

(۲) $f(n) = o(g(n))$

(۳) $g(n) = o(f(n))$

(۴) هیچ کدام

- ۴- فرض کنید که n عنصر با کلیدهای مجزا را با استفاده از یک تابع درهم‌سازی ساده و یکنواخت در یک آرایه به اندازه m درج می‌کنیم. برخوردها را به روش زنجیره‌ای حل می‌کنیم. با این تابع، احتمال آنکه دو عنصر دلخواه و متفاوت i و j به یک درایه نگاشت شوند، برابر است. میانگین تعداد برخوردهای دو عنصر، چقدر است؟

$$(1) \theta\left(\frac{n}{m}\right) \quad (2) \theta\left(\frac{m}{n}\right)$$

$$(3) \theta\left(\frac{n^2}{m}\right) \quad (4) \theta\left(\frac{n^2}{m^2}\right)$$

- ۵- کدام یک از گزاره‌های زیر، درخصوص الگوریتم دایجسترا درست است؟
 (۱) فرض می‌کند کوتاه‌ترین مسیر را پیدا کرده است، اما یال‌های منفی این فرض را نقض کرده و باعث مسیر اشتباه یا حلقه‌های منفی می‌شوند.
 (۲) برای هر یال وزن منفی، یک چرخه نامحدود از به‌روزرسانی فاصله‌ها ایجاد می‌کند که باعث توقف‌ناپذیری الگوریتم می‌شود.
 (۳) کاملاً بر روی گراف‌های دارای یال منفی، درست کار می‌کند و مشکلی ندارد.
 (۴) فقط بر روی طوقه‌های منفی و یال‌های مثبت، درست کار می‌کند.

- ۶- در لیست L با طول n ، عنصر a را عنصر اکثریت می‌گوییم. هرگاه تعداد رخداد a در L از $\frac{n}{4}$ بیشتر باشد، کدام مورد درست است؟

- (۱) با سه گذر روی لیست و حافظه $O(n)$ ، نمی‌توان تشخیص داد که عنصر اکثریت وجود دارد یا نه.
 (۲) با دو گذر روی لیست و حافظه $O(1)$ ، می‌توان تشخیص داد که عنصر اکثریت وجود دارد یا نه.
 (۳) با دو گذر روی لیست و حافظه $O(n)$ ، نمی‌توان تشخیص داد که عنصر اکثریت وجود دارد یا نه.
 (۴) با یک گذر روی لیست و حافظه $O(\sqrt{n})$ ، می‌توان تشخیص داد که عنصر اکثریت وجود دارد یا نه.
 ۷- فرض کنید دو ساختار داده به‌صورت زیر دارید:

– یک هرم بیشینه (Max-Heap) ذخیره‌شده در یک آرایه

– یک درخت AVL که همان مقادیر موجود در هیپ را ذخیره کرده است و به‌عنوان یک درخت جستجوی دودویی متوازن (Balanced Binary Search Tree) عمل می‌کند.
 شما می‌خواهید کوچک‌ترین مقدار موجود در این مجموعه داده‌ها را پیدا کنید. کدام مورد زیر، بهینه‌ترین رویکرد را توضیح می‌دهد؟

- (۱) از آنجا که هرم بیشینه و درخت AVL هر دو مرتب هستند، می‌توانید از جستجوی دودویی در هر دو ساختار استفاده کنید و کوچک‌ترین مقدار را در زمان $O(\log n)$ پیدا کنید.
 (۲) در هرم هر دو ساختار، کوچک‌ترین مقدار، ممکن است در هر سطح یا شاخه وجود داشته باشد. بنابراین، باید همه گره‌ها را در هر دو ساختار جستجو کنید که پیچیدگی زمانی $O(n)$ خواهد بود.
 (۳) در هرم بیشینه، کوچک‌ترین مقدار باید در پایین‌ترین سطح و در گره‌های برگ قرار داشته باشد که نیازمند پیمایش تمامی گره‌های برگ است ($O(\sqrt{n})$). در درخت AVL، کوچک‌ترین مقدار در گره سمت چپ‌ترین قرار دارد و می‌توان آن را در زمان $O(n)$ پیدا کرد.
 (۴) هرم بیشینه، برای پیدا کردن کوچک‌ترین مقدار مناسب نیست، زیرا ساختار آن برای دسترسی سریع به بزرگ‌ترین مقدار طراحی شده است. اما درخت AVL، کوچک‌ترین مقدار در گره سمت چپ‌ترین قرار دارد و این مقدار را در زمان $O(\log n)$ برمی‌گرداند.

۸- فرض کنید A یک آرایه مرتب از اعداد صحیح غیر تکراری به طول n است. هدف، پیدا کردن یک خانه i است که $A[i] = i$ باشد. کدام یک از الگوریتم‌های زیر، برای حل این مسئله مناسب‌ترین است و پیچیدگی زمانی کمتری را حاصل می‌کند؟

(۱) استفاده از الگوریتم تقسیم و حل (Divide and Conquer) برای تقسیم آرایه به دو نیمه و بررسی هر نیمه جداگانه

(۲) استفاده از جستجوی دودویی (Binary Search) برای بررسی نیمه مناسب آرایه در هر مرحله

(۳) مرتب‌سازی مجدد آرایه و استفاده از جستجوی خطی برای بررسی شرط $A[i] = i$

(۴) پیمایش خطی آرایه از ابتدا تا انتها و بررسی شرط $A[i] = i$

۹- فرض کنید یک پشته S داده شده است که عملیات‌های استاندارد POP , $PUSH$ و TOP را پشتیبانی می‌کند. حال می‌خواهید یک عملیات جدید به نام $FIND-MAX(S)$ طراحی کنید که بزرگ‌ترین مقدار موجود در پشته را در زمان بهینه پیدا کند. کدام مورد زیر، رویکرد صحیح و کارآمدی برای پیاده‌سازی این عملیات ارائه می‌دهد؟

(۱) همراه با هر $PUSH$ ، مقدار جدید را در متغیر MAX ذخیره کنید اگر مقدار جدید بزرگ‌تر از مقدار موجود در MAX باشد. عملیات $FIND-MAX(S)$ در این روش دارای پیچیدگی $O(1)$ است، اما بازگرداندن مقدار قبلی MAX پس از یک عملیات POP ، به زمان $O(n)$ نیاز دارد.

(۲) در هر بار فراخوانی $FIND-MAX(S)$ ، تمامی عناصر پشته را با استفاده از عملیات POP خارج کنید، بزرگ‌ترین مقدار را پیدا کنید و سپس عناصر را به ترتیب اصلی به پشته بازگردانید. این روش دارای پیچیدگی زمانی $O(n)$ برای هر فراخوانی است.

(۳) از یک پشته کمکی M استفاده کنید که در هر $PUSH$ مقدار بزرگ‌ترین عنصر پشته S را تا آن لحظه ذخیره می‌کند. در هنگام POP ، مقدار بالای پشته M نیز حذف می‌شود. عملیات $FIND-MAX(S)$ در این روش، دارای پیچیدگی زمانی $O(1)$ است.

(۴) در هر $PUSH$ ، مقدار بزرگ‌ترین عنصر پشته تا آن لحظه را با استفاده از مقایسه بازگشتی تعیین کنید و آن را به پشته اصلی S اضافه کنید. این روش دارای پیچیدگی زمان $O(\log n)$ برای $FIND-MAX(S)$ است.

۱۰- در کدام روش مرتب‌سازی، زمان اجرای الگوریتم حداقل وابستگی را به ترتیب اولیه داده‌های ورودی دارد؟

(۱) انتخابی

(۲) ادغامی

(۳) درجی

(۴) سریع

۱۱- فرض کنید که یک صف دوتایی (Deque) با استفاده از یک لیست پیوندی دوطرفه پیاده‌سازی شده است و می‌توانید هم از ابتدا و هم از انتهای صف عملیات $enqueue$ و $dequeue$ را انجام دهید. کدام مورد زیر درخصوص پیچیدگی زمانی این عملیات‌ها درست است؟

(۱) عملیات $enqueue$ و $dequeue$ در هر دو سمت صف (ابتدا و انتها)، دارای پیچیدگی زمانی $O(n)$ است.

(۲) فقط عملیات $dequeue$ از ابتدای صف دارای پیچیدگی زمانی $O(1)$ است، درحالی‌که سایر عملیات‌ها پیچیدگی زمانی $O(n)$ دارند.

(۳) تمام عملیات‌های $enqueue$ و $dequeue$ در صف دوتایی دارای پیچیدگی زمانی $O(1)$ هستند، چه از ابتدای صف و چه از انتهای صف.

(۴) عملیات $enqueue$ در انتهای صف و عملیات $dequeue$ از ابتدای صف، دارای پیچیدگی زمانی $O(1)$ هستند، اما عملیات $dequeue$ از انتهای صف، دارای پیچیدگی زمانی $O(n)$ است.

- ۱۲- کمترین تعداد گره‌های یک درخت AVL با ارتفاع h ، کدام است؟ (F_n, n) آمین عدد فیبوناچی است که در آن،
 $(F_1 = F_0 = 0, F_n = F_{n-1} + F_{n-2})$ است.

$$F_{n+2} \quad (2)$$

$$F_{n+2} - 1 \quad (1)$$

$$F_{n+2} - 1 \quad (4)$$

$$2F_{n+2} - n \quad (3)$$

- ۱۳- یک درخت دودویی کامل با عمق ۵ در یک آرایه ذخیره شده است. ریشه در اندیس ۱ آرایه قرار می‌گیرد. اولین برگ درخت از سمت چپ، در کدام اندیس آرایه قرار خواهد گرفت؟

$$63 \quad (1)$$

$$32 \quad (2)$$

$$31 \quad (3)$$

$$16 \quad (4)$$

- ۱۴- فرض کنید $p(x)$ و $q(x)$ دو چندجمله‌ای درجه $n-1$ باشند و بخواهیم حاصل ضرب این دو چندجمله‌ای را با توجه به اینکه p و q را می‌توان به صورت زیر نوشت، به کمک یک الگوریتم تقسیم و حل به دست آورد.

$$p(x) = P_L(x) + x^{\frac{n}{2}} p_R(x), \quad q(x) = q_L(x) + x^{\frac{n}{2}} q_R(x)$$

- که در آن، q_R, q_L, p_R, p_L چندجمله‌ای‌هایی از درجه حداکثر $\frac{n}{2} - 1$ هستند. پیچیدگی زمانی بهترین الگوریتم تقسیم و حل برای حل این مسئله کدام است؟

$$O(n \log_2 n) \quad (2)$$

$$O(n^{\log_2 2}) \quad (1)$$

$$O(n^2) \quad (4)$$

$$O(\log_2^n) \quad (3)$$

- ۱۵- چه تعداد از گزاره‌های زیر درست هستند؟

– الگوریتم BFS از پشته استفاده می‌کند.

– درخت فراگیر بیشینه را می‌توان در $O(|E| \log |V|)$ ساخت. $(|V|$ تعداد رئوس و $|E|$ تعداد یال است).

– یک درخت فراگیر کمینه ممکن است شامل یال با بیشترین وزن باشد.

– درخت عمق اول و سطح اول یک گراف، مانند هم هستند.

$$0 \quad (1)$$

$$1 \quad (2)$$

$$2 \quad (3)$$

$$3 \quad (4)$$

- ۱۶- فرض کنید یک هرم دودویی کامل (Complete Binary Heap)، به صورت آرایه پیاده‌سازی شده است. می‌خواهیم یک الگوریتم بهینه طراحی کنیم که بدون تغییر ساختار هرم، دومین بزرگ‌ترین مقدار در هرم بیشینه (Max-Heap) را پیدا کند. کدام یک از موارد زیر درست است؟

(۱) دومین بزرگ‌ترین مقدار در یک هرم بیشینه همیشه در آخرین سطح هرم قرار دارد و می‌توان آن را در زمان $O(1)$ پیدا کرد.

(۲) دومین بزرگ‌ترین مقدار در یک هرم بیشینه همیشه یکی از دو فرزند گره ریشه است و می‌توان آن را در زمان $O(1)$ با مقایسه مقادیر این دو گره به دست آورد.

(۳) برای پیدا کردن دومین بزرگ‌ترین مقدار در یک هرم بیشینه، تنها کافی است گره‌های فرزند ریشه (سطح اول زیر ریشه) را بررسی کنیم. این فرایند پیچیدگی زمانی $O(\log n)$ دارد.

(۴) برای پیدا کردن دومین بزرگ‌ترین مقدار در یک هرم بیشینه، باید تمام گره‌های هرم بررسی شوند، زیرا دومین بزرگ‌ترین مقدار ممکن است در هر سطح قرار داشته باشد. این فرایند پیچیدگی زمانی $O(n)$ دارد.

- ۱۷- در حل مسئله MAZE (مسیریابی در یک هزارتو) با استفاده از روش عقبگرد (Backtracking)، گره‌های فضای جستجو و پیچیدگی زمانی به چه صورت تعریف می‌شوند؟
- (۱) هر گره نمایانگر یک مسیر جزئی از نقطه شروع تا یک موقعیت فعلی در هزارتو است و پیچیدگی زمانی برابر $O(4^n)$ است که n ، تعداد خانه‌های هزارتو است.
 - (۲) هر گره نمایانگر مسیریابی است که می‌توان از یک موقعیت خاص طی کرد و پیچیدگی زمانی برابر $O(3^n)$ است که n ، تعداد خانه‌های هزارتو است.
 - (۳) هر گره نمایانگر یک مسیر کامل از نقطه شروع تا مقصد است و پیچیدگی زمانی برابر $O(4^n)$ است که n ، تعداد خانه‌های هزارتو است.
 - (۴) هر گره نمایانگر یک مسیر کامل از نقطه شروع تا مقصد است و پیچیدگی زمانی برابر $O(n!)$ است که n ، تعداد خانه‌های هزارتو است.
- ۱۸- در مسئله دور شوالیه، یک صفحه شطرنج $n \times n$ داریم که یک اسب باید با حرکت‌های قانونی شطرنج، تمام خانه‌ها را دقیقاً یک بار بازدید کرده و به خانه ابتدایی بازگردد. کدام گزاره زیر، درخصوص روش حل این مسئله با استفاده از عقبگرد (Backtracking) درست است؟
- (۱) این مسئله توسط رویکرد عقبگرد قابل حل نیست و رویکرد شاخه و حد، جواب بهتری را ارائه خواهد داد.
 - (۲) گره‌های روش عقبگرد هشت حالت خواهد داشت و بعد از هرس شاخه‌های غیرقابل قبول، پیچیدگی زمانی آن $O(8^n)$ خواهد بود.
 - (۳) روش عقبگرد با استفاده از ساختار داده‌ای مانند صف اولویت (priority Queue)، تعداد مسیرهای ممکن را کاهش داده و پیچیدگی زمانی آن را به $O((n \log n)!)^2$ می‌رساند.
 - (۴) روش عقبگرد با بررسی تمام مسیرهای ممکن و هرس شاخه‌های غیرقابل قبول کار می‌کند. تعداد حالت‌های ممکن برابر با $(n^2)!$ است و پیچیدگی زمانی آن در عمل بسیار بالا است.
- ۱۹- در مسئله ضرب زنجیره‌ای ماتریس‌ها از روش شاخه و حد برای پیدا کردن ترتیب بهینه ضرب ماتریس‌ها استفاده می‌شود. کدام مورد زیر، به درستی مفهوم شاخه‌ها و حدها را در این روش توضیح می‌دهد؟
- (۱) حل مسئله زنجیره ضرب ماتریس‌ها با رویکرد شاخه و حد مقدور نیست.
 - (۲) شاخه‌ها نشان‌دهنده تمام ترتیب‌های ممکن برای گروه‌بندی ضرب ماتریس‌ها هستند و حد پایین (Lower Bound)، نشان‌دهنده تعداد حداقل عملیات ضرب عددی ممکن در کل مسئله است.
 - (۳) شاخه‌ها تعداد عملیات ضرب برای هر ترتیب خاص از ماتریس‌ها را نشان می‌دهند و حد پایین (Lower Bound)، تنها برای شناسایی شاخه‌هایی استفاده می‌شود که منجر به بیشترین تعداد عملیات ضرب عددی می‌شوند.
 - (۴) شاخه‌ها نشان‌دهنده تمامی نقاط تقسیم ممکن بین ماتریس‌ها هستند که مسئله را به دو زیرمسئله تقسیم می‌کنند و حد پایین (Lower Bound)، مجموع تعداد عملیات ضرب موردنیاز برای حل زیرمسئله‌ها و عملیات نهایی ادغام آنها است.
- ۲۰- چند تا از گزاره‌های زیر درست است؟
- روش حریصانه برای حل مسئله کوله‌پشتی کسری، همواره جواب بهینه را ارائه می‌دهد.
 - اگر $P \neq NP$ باشد آنگاه مجموعه (NP-Complete) NP تهی نیست.
 - مسئله بهینه‌سازی فروشنده دوره‌گرد، NP سخت است.

(۲) ۲

(۴) صفر

(۱) ۳

(۳) ۱

مدار منطقی و معماری کامپیوتر:

۲۱- یک مدار از سه فلیپ فلاپ A، B و C تشکیل شده است. اگر ورودی این سه فلیپ فلاپ به صورت زیر باشد، مدار چه سیکلی را (از راست به چپ) می شمارد؟ (فرض کنید حالت اولیه $ABC = 000$ است و هر سه فلیپ فلاپ به یک کلاک متصل هستند).

$$D_A = A'C + B' \quad D_B = A + C' \quad D_C = A' + B'$$

(۲) ۰، ۵، ۳، ۲، ۷، ۰، ۰، ...

(۱) ۰، ۲، ۵، ۷، ۶، ۲، ...

(۴) ۰، ۷، ۶، ۳، ۵، ۷، ...

(۳) ۰، ۷، ۲، ۳، ۵، ۷، ...

۲۲- اگر در جدول حالت زیر، حالت های معادل را حذف کنیم، چند حالت باقی می ماند؟

| Q^+ | | | |
|-------|--------|--------|-----|
| Q | in = 0 | in = 1 | out |
| 0 | 2 | 4 | 0 |
| 1 | 6 | 5 | 1 |
| 2 | 3 | 0 | 1 |
| 3 | 1 | 0 | 0 |
| 4 | 7 | 8 | 1 |
| 5 | 2 | 1 | 0 |
| 6 | 4 | 8 | 0 |
| 7 | 1 | 5 | 0 |
| 8 | 2 | 4 | 0 |

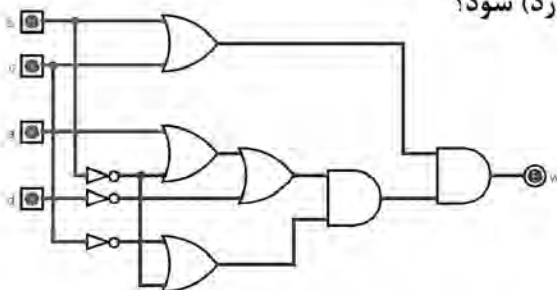
(۱) ۳

(۲) ۴

(۳) ۵

(۴) ۶

۲۳- در مدار زیر، کدام تغییر می تواند منجر به ایجاد مخاطره (هazard) شود؟



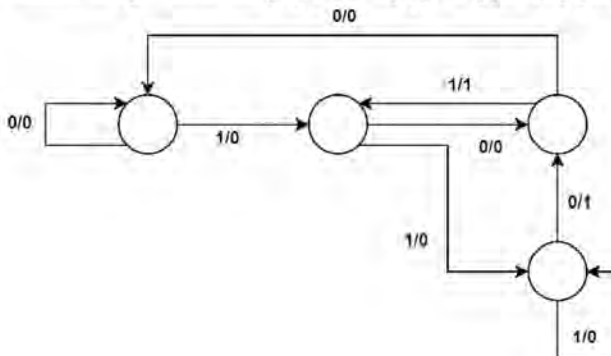
(۱) $abcd = 0000 \rightarrow 1000$

(۲) $abcd = 0001 \rightarrow 0101$

(۳) $abcd = 0001 \rightarrow 0000$

(۴) $abcd = 0010 \rightarrow 0000$

۲۴- نمودار حالت زیر، به صورت میلی رسم شده است. اگر نمودار را به صورت مور رسم کنیم، چند حالت خواهد داشت؟



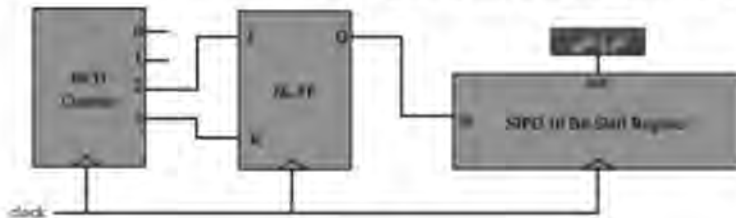
(۱) ۶

(۲) ۵

(۳) ۴

(۴) ۳

۲۵- شکل زیر، از یک شمارنده دهمدهی، یک فلیپ‌فلاپ JK، و یک ثبات انتقالی (شیفت رجیستر) سری تشکیل شده است. در ابتدا تمام خروجی‌ها صفر هستند. بعد از چند پالس ساعت، خروجی ثبات (یعنی بیت دهم آن) برای اولین بار یک می‌شود؟ (توجه کنید که در پالس اول، شمارنده عدد یک را نشان خواهد داد.)



- (۱) ۱۶
- (۲) ۱۵
- (۳) ۱۴
- (۴) ۱۳

۲۶- کدام مورد، اندازه ROM لازم برای پیاده‌سازی هریک از مدارهای ترکیبی زیر را درست نشان داده است؟

- یک جمع‌کننده ۱۶ بیتی با C_{in} و C_{out}

- ضرب‌کننده 8×8

- آنکودر با اولویت (priority encoder) ۱۶ بیتی

| مدار | اندازه ROM |
|-------|--------------------------------|
| (الف) | $2^{17} \times 17 \text{ bit}$ |
| (ب) | $2^{16} \times 16 \text{ bit}$ |
| (ج) | $2^4 \times 4 \text{ bit}$ |

(۲)

| مدار | اندازه ROM |
|-------|--------------------------------|
| (الف) | $2^{32} \times 16 \text{ bit}$ |
| (ب) | $2^{16} \times 16 \text{ bit}$ |
| (ج) | $2^{16} \times 4 \text{ bit}$ |

(۱)

| مدار | اندازه ROM |
|-------|--------------------------------|
| (الف) | $2^{33} \times 17 \text{ bit}$ |
| (ب) | $2^{16} \times 16 \text{ bit}$ |
| (ج) | $2^{16} \times 4 \text{ bit}$ |

(۴)

| مدار | اندازه ROM |
|-------|--------------------------------|
| (الف) | $2^{33} \times 17 \text{ bit}$ |
| (ب) | $2^8 \times 8 \text{ bit}$ |
| (ج) | $2^{16} \times 4 \text{ bit}$ |

(۳)

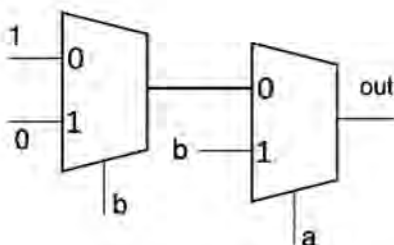
۲۷- مدار زیر، چه تابعی را پیاده‌سازی می‌کند؟

(۱) OR

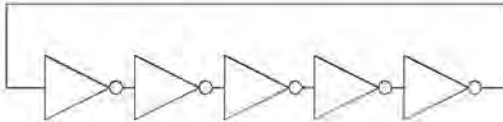
(۲) NOR

(۳) XNOR

(۴) XOR

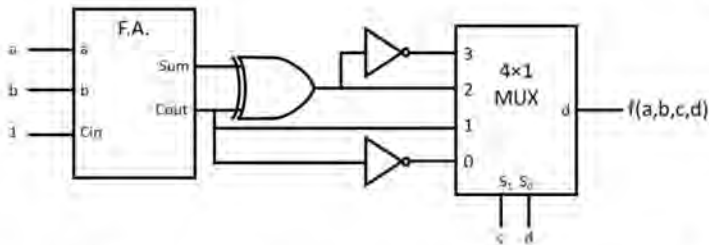


۲۸- فرکانس نوسانگر حلقه‌ای زیر، چند مگاهرتز است؟ (فرض کنید تأخیر صعود هر معکوس‌کننده ۱۲ نانوثانیه و تأخیر نزول آن ۸ نانوثانیه است).



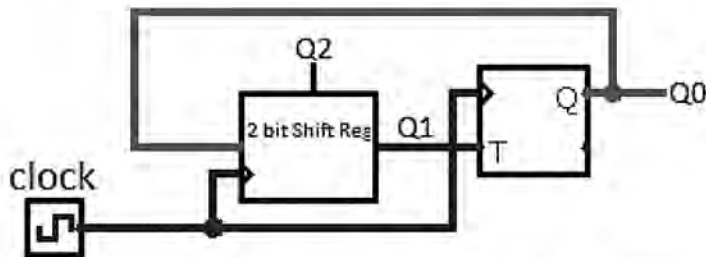
- (۱) ۴۰
- (۲) ۲۰
- (۳) ۱۰
- (۴) ۵

۲۹- کدام مورد، خروجی مدار زیر را به صورت مجموع مینترم‌ها به نحو درست نشان می‌دهد؟



- (۱) ۱, ۳, ۴, ۷, ۸, ۱۱, ۱۲, ۱۴
- (۲) ۱, ۳, ۵, ۷, ۹, ۱۰, ۱۳, ۱۵
- (۳) ۰, ۲, ۵, ۶, ۹, ۱۱, ۱۲, ۱۵
- (۴) ۰, ۲, ۵, ۶, ۹, ۱۰, ۱۳, ۱۵

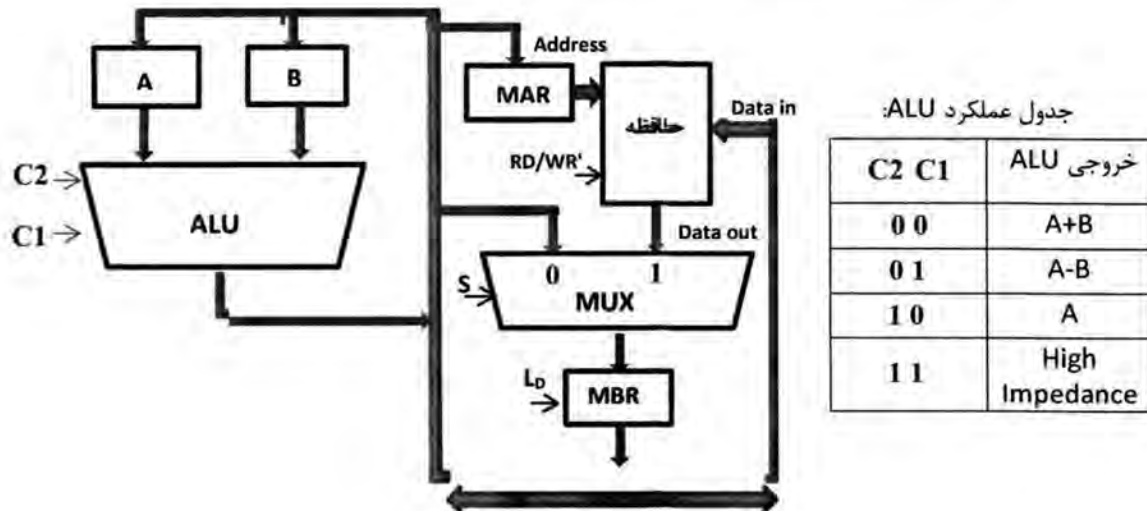
۳۰- شکل زیر، از یک ثبات انتقالی دوبیتی و یک FF T تشکیل شده است. اگر حالت اولیه مدار $Q_2Q_1Q_0 = 001$ باشد، خروجی چه دنباله‌ای را می‌شمارد؟



- (۱) $001 \rightarrow 101 \rightarrow 111 \rightarrow 110 \rightarrow 011 \rightarrow 100 \rightarrow 010 \rightarrow 001$
- (۲) $001 \rightarrow 101 \rightarrow 111 \rightarrow 011 \rightarrow 110 \rightarrow 010 \rightarrow 001$
- (۳) $001 \rightarrow 101 \rightarrow 111 \rightarrow 110 \rightarrow 010 \rightarrow 001$
- (۴) $001 \rightarrow 100 \rightarrow 010 \rightarrow 001$

۳۱- بخشی از یک معماری پردازنده، در شکل زیر داده شده است. خطوط کنترلی شامل C1 و C2 (مطابق جدول زیر) و این موارد است:

L_D: Load MBR, **S**: Select multiplexer input, **RD/WR'**: فرمان خواندن / نوشتن حافظه



مشخص کنید هر کدام از دستورات متوالی زیر، معادل کدام کلمه کنترلی (به Hex) است؟

| S | L _D | C2 | C1 | RD/WR' |
|---|----------------|----|----|--------|
|---|----------------|----|----|--------|

1: $MBR \leftarrow A + B$

2: $M[MAR] \leftarrow MBR$

| ریزدستور | S | L _D | C2 | C1 | RD/WR' |
|----------|---|----------------|----|----|--------|
|----------|---|----------------|----|----|--------|

۱: ۶ (۱)

۲: ۸

۱: ۸ (۲)

۲: ۱۶

۱: ۸ (۳)

۲: ۶

۱: ۱۸ (۴)

۲: ۶

۳۲- برنامه زیر، معادل کدام عملیات است؟ A ، B و C ثبات و SP اشاره گر پشته است.

$t_0: SP \leftarrow SP - 1$

$t_1: M[SP] \leftarrow A$

$t_2: SP \leftarrow SP - 1$

$t_3: M[SP] \leftarrow B$

$t_4: C \leftarrow M[SP + 1]$

۱: POP A

۲: POP B (۲)

۳: $C \leftarrow B$

۱: POP A

۲: POP B (۴)

۳: Push C

۱: Push A

۲: Push B (۱)

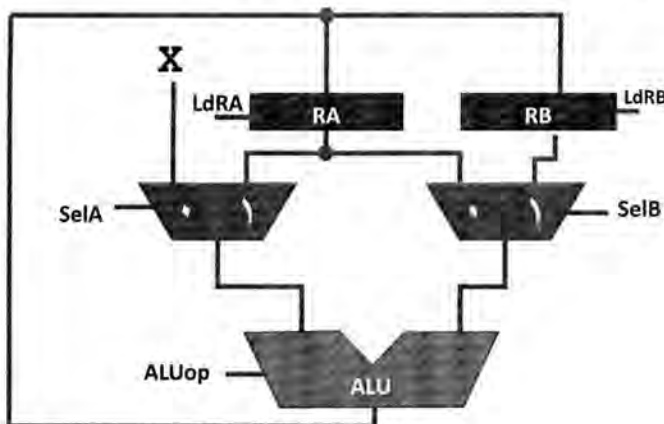
۳: $C \leftarrow A$

۱: Push A

۲: Push B (۳)

۳: POP C

۳۳- مسیر داده (data path) زیر داده شده است و ALU تنها قادر به عملیات ضرب، جمع و انتقال (خروجی برابر با یکی از ورودی‌ها) است. برای محاسبه $x(x+2)$ و ثبت آن در RA ، حداقل چند کلاک لازم است؟



۳ (۱)

۴ (۲)

۵ (۳)

۴) امکان پذیر نیست.

۳۴- کدام مورد در خصوص جمع ۸ عدد ۳۲ بیتی، درست است؟

(۱) سریع ترین روش به کارگیری جمع کننده های با حفظ رقم نقلی (Carry save adder) است.

(۲) سریع ترین روش جمع درختی آنها به کمک جمع کننده های با انتشار رقم نقلی است.

(۳) استفاده از Lookup table، کمترین هزینه سخت افزار را دارد.

(۴) استفاده از روش جمع سریال، کمترین هزینه سخت افزار را دارد.

۳۵- کدام مورد، از مزایای استفاده از افزونی نما در نمایش اعداد ممیز شناور نیست؟

(۱) افزایش دقت محاسبه

(۲) امکان نمایش عدد صفر به صورت رشته ای از بیت های صفر

(۳) ساده تر شدن مدار مقایسه نماها هنگام جمع و تفریق ممیز شناور

(۴) ساده تر شدن مدار مربوط به دستورات تست صفر بودن اعداد در یک پردازنده

۳۶- اگر مقدار اولیه ثبات‌ها و حافظه یک کامپیوتر مبتنی بر انباشتگر (AC: Accumulator) به شرح زیر باشد، بعد از اجرای برنامه زیر، آنها چه مقداری خواهند داشت؟ (توجه: همه اعداد، در مبنای شانزده (Hexadecimal) هستند.)

AC = EF, Mem[۲۰] = ۱۰, Mem[۲۱] = ۱۱

LDA ۲۰

SHLA

DECA

ADD ۲۱

AC = ۲۰, Mem[۲۰] = EF, Mem[۲۱] = ۳۰ (۲ AC = ۳A, Mem[۲۰] = ۱F, Mem[۲۱] = ۳۰ (۱

AC = ۶۰, Mem[۲۰] = ۱۰, Mem[۲۱] = ۱۱ (۴ AC = ۱F, Mem[۲۰] = ۱۰, Mem[۲۱] = ۱۱ (۳

۳۷- اگر یک کامپیوتر از نمایش اعداد مکمل ۲ و ثبات‌های ۱۲ بیتی استفاده کند، دامنه نمایش اعداد صحیح در آن کدام مورد است؟

(۱) $(-۴۰۹۵) - (+۴۰۹۵)$ (۲) $(-۲۰۴۷) - (+۲۰۴۷)$

(۳) $(-۴۰۹۵) - (-۴۰۹۵)$ (۴) $(-۲۰۴۷) - (-۲۰۴۷)$

۳۸- شرط لازم و کافی سرریز شدن عمل تقسیم یک عدد بی‌علامت $4n$ بیتی بر مقسوم‌علیه بی‌علامت $2n$ بیتی در خارج‌قسمت n بیتی کدام است؟

(۱) مقسوم‌علیه از $2n$ بیت پر ارزش مقسوم بزرگ‌تر باشد.

(۲) مقسوم‌علیه از $3n$ بیت پر ارزش مقسوم کوچک‌تر باشد.

(۳) مقسوم‌علیه از $2n$ بیت پر ارزش مقسوم کوچک‌تر باشد.

(۴) مقسوم‌علیه صفر باشد.

۳۹- در یک حافظه نهان که عمل جایابی (Placement) را به روش Direct map انجام می‌دهد، کدام فیلد(ها) به همراه بیت valid در عمل مقایسه شرکت می‌کند؟

(۱) TAG و OFFSET (۲) TAG

(۳) TAG و Index (۴) Index و OFFSET

۴۰- کدام یک از تغییرات در تکه‌کد زیر، در راستای حذف مخاطره Load-use در خط لوله نیست؟

I_0 : LW R_b, b // Load[b] to R_b

I_1 : LW R_c, c // Load[c] to R_c

I_2 : Add R_a, R_b, R_c // $R_a = R_b + R_c$

I_3 : SW a, R_a // Store R_a to [a]

I_4 : LW R_e, e // Load[e] to R_e

I_5 : LW R_f, f // Load[f] to R_f

I_6 : SUB R_d, R_e, R_f // $R_d = R_e - R_f$

I_7 : SW d, R_d // Store R_d to [d]

(۱) انتقال I_4 بلافاصله بعد از I_5

(۲) انتقال I_4 بلافاصله قبل از I_2

(۳) انتقال I_4 و I_3 بلافاصله بعد از I_2

(۴) جابه‌جایی مجموعه I_0, I_1, I_2 و I_3 با مجموعه I_4, I_5, I_6 و I_7

سیستم‌های عامل پیشرفته:

۴۱- رعایت الگوی انتها - به - انتها (end-to-end) در طراحی سیستم‌های شبکه، منجر به کدام نتیجه می‌شود؟

- ۱) کاهش لایه‌های پشته پروتکل در مرکز شبکه
- ۲) کاهش لایه‌های پشته پروتکل در میزبان‌های شبکه
- ۳) افزایش لایه‌های پشته پروتکل در میزبان‌ها و کاهش آنها در مرکز شبکه
- ۴) کاهش لایه‌های پشته پروتکل در میزبان‌ها و افزایش آنها در مرکز شبکه

۴۲- زمانی که پیامی در شبکه اجتماعی برای دوستان ارسال می‌شود، این پیام از چه نوعی است؟

- ۱) Persistent و Synchronous
- ۲) Persistent و Asynchronous
- ۳) Transient و Asynchronous
- ۴) Transient و Synchronous

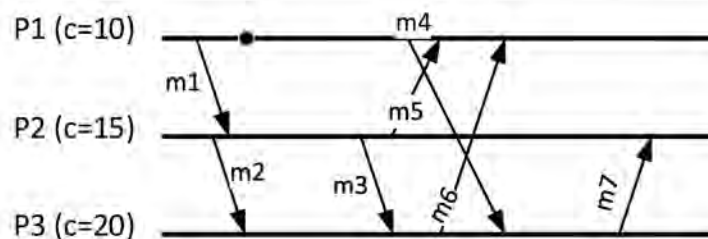
۴۳- براساس تجربه ویندوز NT، پیاده‌سازی مایجول گرافیک و درایور آن در یک سیستم عامل میکروکنترلی در سطح

کاربری چندان عملی نیست. کدام مورد، دلیل مناسبی برای این موضوع نیست؟

- ۱) بالا بودن حجم داده‌های تبادل شده بین فرایندها و کارت گرافیک
- ۲) عدم ارائه تضمین مناسب برای سلامت و امتیاز کل سیستم
- ۳) عدم انعطاف مناسب در کاربردهای نیازمند حافظه مشترک
- ۴) بالا بودن حجم تبادل داده بین فرایندها و کارت گرافیک

جدول راهنمایی: با توجه به اطلاعات زیر به سؤال‌های ۴۴ و ۴۵ پاسخ دهید.

در نمودار زیر که تعامل سه فرایند را نشان می‌دهد، مقدار ساعت منطقی (logical clock) هر فرایند در شروع سیستم در مقابل آن (داخل پرانتز)، نوشته شده است.



۴۴- براساس مفهوم زمان منطقی لمپورت، زمان منطقی در ابتدا و انتهای پیام m5، چند خواهد بود؟

- ۱) ۱۳ → ۱۸
- ۲) ۱۸ → ۱۹
- ۳) ۱۹ → ۱۹
- ۴) ۱۹ → ۲۰

۴۵- کدام دو پیام زیر، با هم هم‌زمان (concurrent) نیستند؟

- ۱) m7 و m6
- ۲) m5 و m7
- ۳) m4 و m3
- ۴) m2 و m4

جدول راهنمایی: با توجه به اطلاعات زیر، به سؤال‌های ۴۶ تا ۴۸ پاسخ دهید.

علی کلاینت ایمیل خود را به‌روزرسانی کرده و دو ایمیل جدید مشاهده می‌کند. به یکی از ایمیل‌ها پاسخ داده و کلاینت را می‌بندد. پس از مدتی، دوباره کلاینت ایمیل را که این‌بار از یک پایگاه داده دیگری استفاده می‌کند، به‌روزرسانی کرده و یک ایمیل جدید و پاسخ خود را مشاهده می‌کند، اما دو ایمیل قبلی را نمی‌بیند.

۴۶- کدام مورد زیر، روند فوق را نشان می‌دهد؟

$$\begin{array}{l}
 (1) \quad \frac{L_1 \quad W_2(x_1) \quad W_1(x_1; x_2)}{L_2 \quad W_3(x_3 | x_1) \quad R_1(x_2 | x_1)} \\
 (2) \quad \frac{L_1 \quad W_1(x_1) \quad W_1(x_1; x_2)}{L_2 \quad W_1(x_3 | x_1) \quad R_1(x_2; x_1)} \\
 (3) \quad \frac{L_1 \quad W_2(x_1) \quad R_1(x_1) \quad W_1(x_1; x_2)}{L_2 \quad W_3(x_3 | x_1) \quad R_1(x_2; x_3)} \\
 (4) \quad \frac{L_1 \quad W_1(x_1) \quad R_1(x_1) \quad W_1(x_2)}{L_2 \quad W_2(x_3) \quad R_1(x_2; x_1)}
 \end{array}$$

۴۷- سامانه کلاینت - سرور ایمیل، کدام یک از مدل‌های سازگاری مبتنی بر کلاینت زیر را به‌طور قطع پشتیبانی می‌کند؟

- (۱) Write-monotonic
(۲) Write-follows-read
(۳) Read-monotonic
(۴) Read-your-write

۴۸- اگر صندوق پستی علی را یک متغیر مشترک بین دو فرایند در دو ایمیل سرور که آنرا به‌روز می‌کنند بدانیم، براساس

تعامل فوق، کدام سازگاری مبتنی بر داده (data-centric) ممکن است بین دو فرایند برقرار شود؟

- (۱) ورودی (Entry)
(۲) نهایی (Eventual)
(۳) علی (Causal)
(۴) ترتیبی (Sequential)

۴۹- بارزترین ویژگی درهم‌سازی سازگار (consistent hashing) چیست؟ (n تعداد باکت‌ها (bucket) و k تعداد

کلیدها است.)

(۱) باکت‌ها باید دارای میان‌بر به باکت‌های دیگر برای کنترل تصادم (conflict) حداقل k/n کلیدها باشند.

(۲) باکت‌ها باید در یک شبکه پوششی (overlay) دایره‌ای شکل مرتب شوند.

(۳) یا اضافه یا کم شدن یک باکت، حداکثر k/n کلیدها باید جابه‌جا شود.

(۴) فضای شناسه کلیدها و باکت‌ها باید یکی باشد.

۵۰- به‌دلیل ازدحام برای ثبت‌نام در درس‌های ترم بعد، سرور یک دانشگاه هر ساعت به مدت دو ثانیه از دسترس خارج

می‌شود. این سرور به چه میزان قابل اطمینان (reliable) است؟

- (۱) اصولاً قابل اطمینان نیست.
(۲) تقریباً ۹۶٪
(۳) تقریباً ۹۹٪
(۴) حدود ۵۸/۰۳ دقیقه

جدول راهنمایی: با توجه به اطلاعات زیر، به سؤال‌های ۵۱ تا ۵۴ پاسخ دهید.

یک دانشگاه برای رفع مشکل و تحمل لود زیاد، از ۱۲ سرور باتکرار (replicated) استفاده کرده و برای اجماع بین آنها از الگوریتم 2PC استفاده می‌کند.

۵۱- برای فراهم کردن در دسترس بودن (availability) ۱۰۰٪، چند خرابی (crash) سرور در سیستم، قابل تحمل است؟

- (۱) صفر
(۲) ۳
(۳) ۵
(۴) ۱۱

۵۲- اگر دانشگاه به جای 2PC از الگوریتم 3PC برای اجماع استفاده کند، کدام یک از موارد زیر، در مرکز داده دانشگاه بهبود می‌یابد؟

الف - شرط زنده بودن (liveness) در اجماع وجود خواهد داشت.

ب - تعداد خطاهای قابل تحمل افزایش می‌یابد.

ج - تحمل انواع خطاهای بیشتر، فراهم می‌شود.

- (۱) «الف» و «ج»
(۲) «ب» و «ج»
(۳) «ب»
(۴) «الف»

۵۳- مدیر جدید فناوری اطلاعات دانشگاه، برای اثبات دانش خود تصمیم می‌گیرد که الگوریتم اجماع را به Paxos ارتقا دهد. در این حالت، برای دسترس بودن ۱۰۰٪، چند خرابی (crash) سرور از ۱۲ سرور در مرکز داده، قابل تحمل خواهد شد؟

- (۱) صفر
(۲) ۳
(۳) ۵
(۴) ۱۱

۵۴- برای افزایش تحمل خطا، دانشگاه مجبور می‌شود سرویس ابری خریداری کرده و تعداد کل سرورها را از ۱۲ به ۲۰ عدد برساند. اما نکته اینجاست که سرویس‌های ابری خریداری شده مطمئن نبوده و به دلیل قدیمی بودن سخت‌افزارها گاهی پاسخ‌های اشتباه هم تولید می‌کنند. برای این شرایط، به ترتیب، چه الگوریتمی مناسب است و چند خطا تحمل خواهد شد؟

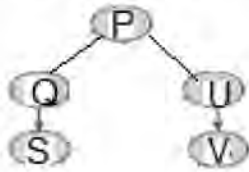
- (۱) RAFT - ۹
(۲) Paxos - ۹
(۳) Oral Message - ۶
(۴) PBFT - ۶

۵۵- یک فایل سیستم توزیع شده، از جدول درهم‌ریزی توزیع شده (DHT) با شناسه‌های ۷ بیتی استفاده می‌کند. در این سیستم، ۵ سرور برای نگهداری فایل‌ها وجود دارد که این سرورها از شناسه صفر تا انتها، به مضارب ۱۰ و با ترتیب ۱ تا ۵ منتسب شده‌اند. این فایل سیستم، از طول نام فایل‌ها به عنوان تابع درهم‌ریزی استفاده می‌کند. فایل‌هایی با طول نام‌های به ترتیب ۳۲، ۱۲۴ و ۶۴ روی کدام سرورها ذخیره خواهند شد؟

- (۱) ۵، ۳ و ۳
(۲) ۵، ۱ و ۳
(۳) ۴، ۲ و ۲
(۴) ۴، ۱ و ۲

پایگاه داده‌های پیشرفته:

- ۵۶- براساس پروتکل قفل مبتنی بر درخت و با توجه به شکل زیر، فرض کنید تراکنش T_1 برای بار اول درخواست قفل روی Q را می‌دهد و T_2 برای بار اول درخواست قفل U را می‌دهد. سپس T_1 دسترسی به V را درخواست و T_2 دسترسی به S را درخواست می‌کند. کدام مورد درست است؟



- ۱) فقط تراکنش دوم، با موفقیت اجرا می‌شود.
- ۲) فقط تراکنش اول، با موفقیت اجرا می‌شود.
- ۳) هر دو تراکنش، با موفقیت اجرا می‌شوند.
- ۴) هر دو، ناموفق و دچار بن‌پست می‌شوند.

- ۵۷- با توجه به مفهوم کنترل همروندی (concurrency control) تراکنش‌ها، کدام مورد درست است؟

- ۱) سازگاری پایگاه داده، اساساً ارتباطی با کنترل همروندی ندارد.
- ۲) حتی در حین اجرای همروند تراکنش‌ها نیز، هیچ‌گاه سازگاری پایگاه داده نقض نمی‌شود.
- ۳) وظیفه اصلی کنترل همروندی، اجرای همزمان تراکنش‌ها است به نحوی که تضمین شود تراکنش‌ها به صورت ترتیبی اجرا نمی‌شوند.
- ۴) هدف اصلی کنترل همروندی در پایگاه داده، فراهم کردن امکان اجرای همروند تراکنش‌ها بدون نقض سازگاری (consistency) در پایگاه داده است.

- ۵۸- اگر تراکنش‌های شماره ۱، ۲، ۳ و ۴ به ترتیب شروع شده و خواندن و نوشتن اقلام داده را طبق زمانبندی مبتنی بر پروتکل مهرزمانی با استفاده از قاعده توماس (Thomas' Write Rule) انجام دهند، کدام مورد درست است؟

$ST_1, ST_2, ST_3, ST_4, RT_1(A), RT_2(A), WT_2(A), WT_1(A), WT_3(B), WT_2(B), WT_4(D)$

- ۱) هر دو تراکنش T_1 و T_2 ، ناموفق خواهند بود.
- ۲) هر دو تراکنش T_1 و T_2 ، موفق خواهند بود.
- ۳) تراکنش T_1 ، ناموفق خواهد بود.
- ۴) تراکنش T_2 ، ناموفق خواهد بود.

- ۵۹- در خصوص زمان‌بندی (schedule) داده‌شده، کدام مورد درست است؟

| T_1 | T_5 |
|---------------|---------------|
| read (A) | |
| $A := A - 50$ | |
| write (A) | |
| | read (B) |
| | $B := B - 10$ |
| | write (B) |
| read (B) | |
| $B := B + 50$ | |
| write (B) | |
| | read (A) |
| | $A := A + 10$ |
| | write (A) |

- ۱) ترتیب‌پذیر دید (View serializable) است.
- ۲) ترتیب‌پذیر تداخلی است ولی ترتیب‌پذیر دید نیست.
- ۳) گراف تقدم (precedence graph) آن، فاقد چرخه (cycle) است.
- ۴) نه ترتیب‌پذیر تداخلی (conflict serializable) و نه ترتیب‌پذیر دید (view serializable) است.

۶۰- یک تراکنش، دستورات $W(A)$, $W(B)$, $Commit$ را به ترتیب از چپ به راست انجام می‌دهد. اگر Log حاوی $W(A)$ و $W(B)$ و مقادیر جدید A و B در پایگاه داده ثبت شده باشد، در مورد ترمیم ($Recovery$) کدام مورد درست است؟

- (۱) $Undo Logging$ ، نشدنی ولی $Redo Logging$ ، شدنی است.
- (۲) $Undo Logging$ ، شدنی ولی $Redo Logging$ ، نشدنی است.
- (۳) $Undo Logging$ و $Redo Logging$ ، شدنی هستند.
- (۴) $Undo Logging$ و $Redo Logging$ ، نشدنی هستند.

۶۱- کدام مورد در خصوص پروتکل‌های کنترل همروندی، نادرست است؟

- (۱) هر زمان‌بندی مطابق با پروتکل مهرزمانی، لزوماً ترتیب‌پذیر تداخلی نیست.
 - (۲) در پروتکل مهرزمانی، بن‌بست پیش نمی‌آید، چون تراکنش‌ها منتظر نمی‌مانند.
 - (۳) هر زمان‌بندی مطابق با پروتکل مهرزمانی، لزوماً مطابق با پروتکل قفل دومرحله‌ای نیست.
 - (۴) هر زمان‌بندی مطابق با پروتکل قفل دومرحله‌ای، لزوماً مطابق با پروتکل مبتنی بر مهرزمانی نیست.
- ۶۲- با توجه به امکان بروز خرابی در زمان ترمیم ($Recovery$)، برای اطمینان از درستی نتایج، سیستم ترمیم باید دارای کدام ویژگی باشد؟


Partial Commit (۲)

WAL (Write-Ahead Log) (۱)

Checkpoint (۴)

Idempotence (۳)

۶۳- با توجه به زمان‌بندی داده‌شده، کدام مورد درست است؟



(۱) فقط مطابق پروتکل 2-Phase Locking است.

(۲) ترتیب‌پذیر و مطابق پروتکل 2-Phase Locking است.

(۳) ترتیب‌پذیر نیست، ولی مطابق پروتکل 2-Phase Locking است.

(۴) ترتیب‌پذیر است، ولی مطابق پروتکل 2-Phase Locking نیست.

۶۴- کدام مورد، در خصوص زمان‌بندی ترمیم‌پذیر ($Recoverable$) درست است؟

- (۱) مفهوم ترمیم‌پذیری زمان‌بندی، مستقیماً ارتباط با نوع پروتکل کنترل همروندی دارد.
- (۲) کلیه تراکنش‌ها در یک زمان‌بندی ترمیم‌پذیر، یا ناموفق ($abort$) می‌شوند یا $commit$.
- (۳) در یک زمان‌بندی ترمیم‌پذیر، اگر تراکنش اول ناموفق شود، بقیه تراکنش‌ها نیز به ترتیب ناموفق می‌شوند.
- (۴) ترمیم‌پذیری، ارتباطی با دستورات خواندن و نوشتن ندارد و فقط به محل دستور $commit$ در تراکنش‌ها بستگی دارد.

۶۵- خاصیت ($Durability$) در پایگاه داده‌ها، توسط کدام بخش از مدیریت تراکنش‌ها تضمین می‌شود؟

(۲) سیستم ترمیم ($Recovery$)

(۱) سیستم پشتیبان‌گیری ($Backup$)

(۴) مدیر دیسک

(۳) سیستم مدیریت قفل

شناسایی الگو - یادگیری ماشین:

۶۶- برای یک طبقه‌بند Hard- SVM دو کلاسه، ۴ عدد داده آموزشی متعادل (balanced) از هر دو کلاس، که به‌طور خطی جدایی‌پذیر هستند موجود است. کدام‌یک از مقادیر زیر نمی‌تواند تعداد بردارهای پشتیبان آن پس از اتمام فاز آموزش باشد؟

- (۱) ۲
(۲) ۱
(۳) ۴
(۴) ۳

۶۷- در آموزش پرسپترون که داده‌ها یکی‌یکی در هر مرحله به آن داده می‌شوند و ضریب یادگیری η با افزایش مراحل i با فرمول

$$\eta_i = \frac{1}{1+i}$$

(۱) اصلاً ارتباطی بر تأثیر داده‌ها ندارد.

(۲) تأثیر داده‌های ابتدایی، کمتر از داده‌های انتهایی می‌شود.

(۳) تأثیر داده‌های انتهایی، کمتر از داده‌های ابتدایی می‌شود.

(۴) تأثیر داده‌های انتهایی و داده‌های ابتدایی، تقریباً برابر می‌شود.

۶۸- کدام مورد زیر، می‌تواند ماتریس کواریانس یک مجموعه داده باشد؟

- (۱) $\begin{bmatrix} 3 & 2 \\ 2 & 4 \end{bmatrix}$
(۲) $\begin{bmatrix} 2 & 3 \\ 3 & 1 \end{bmatrix}$
(۳) $\begin{bmatrix} 1 & 4 \\ 1 & 2 \end{bmatrix}$
(۴) $\begin{bmatrix} -3 & 3 \\ 3 & 3 \end{bmatrix}$

۶۹- فرض کنید می‌خواهیم سیستمی مبتنی بر یادگیری برای تبدیل صوت به متن ایجاد کنیم که برای هر صوت، متن مرتبط با آن را نیز داریم. داده‌های ما صوت‌هایی به زبان فارسی هستند، ولی لهجه‌های مختلفی در آنها وجود دارد که در مجموعه آموزشی، برچسبی برای لهجه‌ها وجود ندارد. اگر بخواهیم از تأثیر لهجه‌ها در یادگیری استفاده شود، فرایند یادگیری در این مسئله باید چگونه باشد؟

(۱) ابتدا مبتنی بر دسته‌بندی و سپس مبتنی بر خوشه‌بندی

(۲) ابتدا مبتنی بر خوشه‌بندی و سپس مبتنی بر دسته‌بندی

(۳) تنها مبتنی بر دسته‌بندی

(۴) تنها مبتنی بر خوشه‌بندی

۷۰- در کدام‌یک از طبقه‌بندهای زیر، برای فاز تست لازم است همه داده‌های آموزشی یا بخشی از آنها استفاده شود؟

- (۱) درخت تصمیم
(۲) شبکه عصبی MLP
(۳) Hard-SVM
(۴) K-nn

۷۱- در الگوریتم C-SVM، مسئله بهینه‌سازی مقید زیر را داریم:

$$J(\underline{w}, w_0, \underline{\alpha}) = \frac{1}{\gamma} \|\underline{w}\|^2 + c \sum_{i=1}^N \alpha_i$$

$$\text{subject to: } \begin{cases} y_i (\underline{w}^T \underline{x}_i + w_0) - 1 + \alpha_i \geq 0 & i = 1, 2, \dots, N \\ \alpha_i \geq 0 & i = 1, 2, \dots, N \end{cases}$$

تابع لاگرانژ هم به صورت زیر نوشته شده است:

$$L(\underline{w}, w_0, \underline{\alpha}, \underline{\lambda}, \underline{\mu}) = \frac{1}{\gamma} \underline{w}^T \underline{w} + c \sum_{i=1}^N \alpha_i - \sum_{i=1}^N \lambda_i (y_i (\underline{w}^T \underline{x}_i + w_0) - 1 + \alpha_i) - \sum_{i=1}^N \mu_i \alpha_i$$

اگر برای $C = 5$ مسئله حل شده باشد و برای داده \underline{x}_5 داشته باشیم $\lambda_5 = 2$ ، آنگاه کدام گزاره نادرست است؟

(۱) $\alpha_5 = 0$ و این داده درست طبقه‌بندی شده است.

(۲) $\mu_5 > 0$ و این داده درست طبقه‌بندی شده است.


(۳) $\alpha_5 > 0$ و این داده روی مارجین (حاشیه) قرار دارد.

(۴) $\mu_5 = 3$ و این داده روی مارجین (حاشیه) قرار دارد.

۷۲- در فضای دوبعدی، ۱۰ داده داریم که می‌خواهیم با روش K-means با معیار فاصله اقلیدسی یک خوشه‌بندی

دو کلاسی انجام دهیم. برای شروع کار، دو نقطه دلخواه را به عنوان مرکز دو خوشه قرار می‌دهیم و الگوریتم را اجرا می‌کنیم و داده‌ها به جز دو نقطه اولیه، به ترتیب شماره اندیس به الگوریتم وارد می‌شود. نتیجه نهایی خوشه‌بندی

با دو نقطه اولیه x_1 و x_{10} با نتیجه خوشه‌بندی با کدام دو نقطه اولیه در گزینه‌های زیر، یکسان نیست؟



(۱) x_6 و x_1

(۲) x_6 و x_5

(۳) x_7 و x_4

(۴) x_9 و x_2

۷۳- برای ارزیابی یک تخمین‌زننده، بایاس و واریانس آن را محاسبه می‌کنند. کدام تخمین‌زننده بهتر است؟

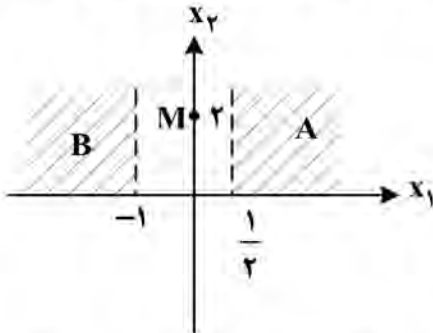
(۱) بایاس آن کم و واریانس آن زیاد باشد.

(۲) بایاس و واریانس آن کم باشد.

(۳) بایاس آن زیاد و واریانس آن کم باشد.

(۴) بایاس و واریانس آن زیاد باشد.

۷۴- در یک طبقه‌بندی دو کلاسی با دو ویژگی، از کلاس ۱ به تعداد ۱۰۰ داده آموزشی داریم که در ناحیه A در شکل زیر و از کلاس ۲ به تعداد ۱۰۰ داده آموزشی داریم که در ناحیه B در شکل زیر هر دو به صورت تصادفی قرار دارند. می‌خواهیم به داده‌ای که در شکل با نقطه M مشخص شده است، با طبقه KNN با $K=1$ و فاصله اقلیدسی یک برچسب بدهیم. کدام مورد درست است؟



- (۱) بدون دیدن داده‌های آموزش، نمی‌توان برچسب را تعیین کرد.
- (۲) همواره احتمال تعلق داده به هر دو کلاس، برابر است.
- (۳) برچسب این داده، کلاس ۱ است.
- (۴) برچسب این داده، کلاس ۲ است.

۷۵- اگر در یک مسئله طبقه‌بندی دو کلاسی در فضای ویژگی دوبعدی، ماتریس کوواریانس و میانگین کلاس‌ها مقادیر زیر باشند:

$$\Sigma = \begin{bmatrix} 4 & 0 \\ 0 & 9 \end{bmatrix} \quad \mu_1 = \begin{bmatrix} -10 \\ -10 \end{bmatrix} \quad \mu_2 = \begin{bmatrix} 10 \\ 10 \end{bmatrix}$$

آنگاه نقاطی که فاصله ماحالانویس ثابت ۱۰ را از میانگین کلاس خود دارند، حداکثر مقدار فاصله اقلیدسی آنها از همان میانگین، چقدر خواهد بود؟

- (۱) ۳۰ (۲) ۴۰ (۳) ۵۰ (۴) ۶۰

۷۶- برای طبقه‌بندی داده‌های XOR در فضای دوبعدی، کدام یک از طبقه‌بندهای زیر مناسب هستند؟

- (a) طبقه‌بند درخت تصمیم
(b) طبقه‌بند Hard SVM
(c) یک نرون عصبی مصنوعی پرسپترون
(d) طبقه‌بند شبکه عصبی MLP
- (۱) a و b (۲) b و c (۳) a و d (۴) c و d

۷۷- اگر برای متغیر تصادفی x تابع چگالی احتمال داده نشده باشد، ولی میانگین μ و واریانس σ^2 آن معلوم باشد، با روش حداکثر آنتروپی، کدام یک از توابع چگالی احتمال زیر به دست می‌آید؟

$$f(x) = \begin{cases} \frac{1}{x_2 - x_1} & x_1 \leq x \leq x_2 \\ 0 & \text{در غیر این صورت} \end{cases} \quad \text{تابع (۱)}$$

$$f(x) = \begin{cases} \frac{x - \mu + \sigma}{2\sigma^2} & \mu - \sigma \leq x \leq \mu + \sigma \\ 0 & \text{در غیر این صورت} \end{cases} \quad \text{تابع (۲) اگر}$$

$$f(x) = \frac{\mu}{2\sigma} e^x \quad \text{تابع (۳)}$$

$$f(x) = \frac{1}{\sqrt{2\pi}\sigma^2} e^{-\frac{(x-\mu)^2}{2\sigma^2}} \quad \text{(۴)}$$

۷۸- کدام مورد، در خصوص ماشین‌های بردار پشتیبان SVM درست است؟

- (۱) در یک مسئله جدایی‌ناپذیر خطی با افزایش C در روش C -SVM، حاشیه (margin) بین دو کلاس و تعداد نقاط خطا افزایش می‌یابد.
- (۲) روش C -SVM و روش ν -SVM، با انتخاب مناسب پارامترها ممکن است به جواب یکسانی برسند.
- (۳) ضرایب لاگرانژ پاسخ سیستم برای یک پایگاه داده خاص D ، همواره متحصر به فرد است.
- (۴) با افزودن داده آموزشی جدید به سیستم، همواره پاسخ سیستم تغییر می‌کند.

۷۹- یک ماتریس کوواریانس کدام ویژگی یا ویژگی‌ها از ۵ ویژگی زیر را همیشه دارا است؟

- (a) وارون‌پذیری
- (b) قطری بودن
- (c) همه درایه‌ها مثبت هستند.
- (d) متقارن بودن
- (e) داشتن حداقل یک مقدار ویژه منفی

(۲) d

(۱) a و d

(۴) e و c, b, a

(۳) e و d, b

۸۰- با افزایش پیچیدگی مدل، کدام مورد به ترتیب در خصوص بایاس و واریانس درست است؟

- (۱) کاهش می‌یابد - افزایش می‌یابد
- (۲) افزایش می‌یابد - کاهش می‌یابد
- (۳) کاهش می‌یابد - ثابت می‌ماند
- (۴) افزایش می‌یابد - ثابت می‌ماند

۸۱- کدام طبقه‌بند زیر نسبت به ترتیب ورود داده‌های آموزش حساس می‌باشد؟

(۲) Hard SVM

(۱) درخت تصمیم

(۳) طبقه‌بند K نزدیک‌ترین همسایه با $K=15$

(۴) شبکه عصبی پرسپترون

۸۲- فرض کنید یک مجموعه داده‌گان متشکل از چندین کلاس مختلف، داده شده باشد و هر کلاس دارای توزیع احتمال متفاوتی باشد، اما برچسب کلاس هر داده موجود نباشد. اگر از روش خوشه‌بندی K -means برای تخمین برچسب

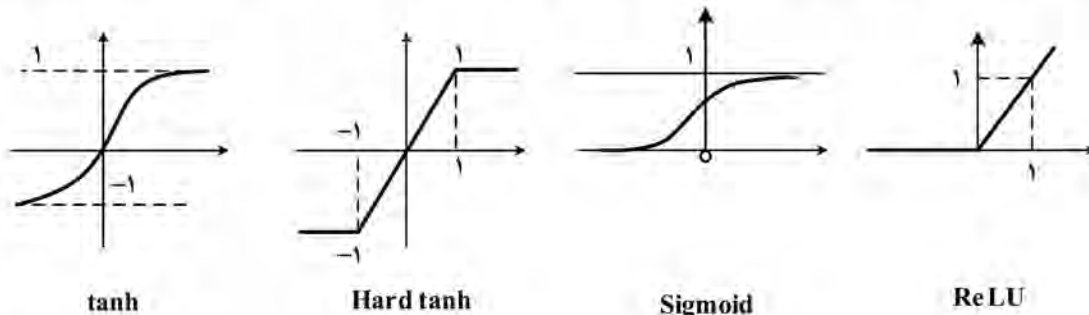
کلاس هر داده استفاده شود، در کدام شرایط، کارایی خوشه‌بندی افزایش می‌یابد؟

- (۱) با میانگین‌های متفاوت، واریانس توزیع هر کلاس در همه راستاها کوچک باشد.
- (۲) عدد K یعنی تعداد خوشه‌ها برابر با n یعنی تعداد داده‌ها انتخاب شود.
- (۳) همه کلاس‌ها میانگین یکسانی داشته باشند.
- (۴) پراکندگی بین کلاسی کوچک باشد.

۸۳- کدام یک از راهبردهای زیر، به کاهش مشکل بیش‌برازش (overfitting) در طبقه‌بند درخت تصمیم کمکی نمی‌کند؟

- (۱) اطمینان از اینکه هر گره برگ، یک کلاس خالص (Pure class) است.
- (۲) محدود کردن حداقل تعداد نمونه‌ها در هر گره برگ
- (۳) محدود کردن حداکثر عمق درخت
- (۴) هرس کردن

۸۴- کدام یک از توابع فعالیت Sigmoid, tanh, hard tanh, Relu ممکن است دچار انفجار گرادیان شود؟



Hard tanh (۴) Relu (۳) Tanh (۲) Sigmoid (۱)

۸۵- در یک طبقه‌بندی کننده دو کلاسی بیز با ویژگی x در بازه $0 < x < 1$ ، توزیع ویژگی در کلاس اول به صورت

$p(x | c_1) = x^2$ و در کلاس دوم به صورت $p(x | c_2) = 1 - x$ داده شده است. اگر مرز تصمیم‌گیری نقطه $x = \frac{1}{4}$

باشد، نسبت احتمال پیشین دو کلاس $\frac{p(c_2)}{p(c_1)}$ کدام است؟

$\frac{1}{4}$ (۲)

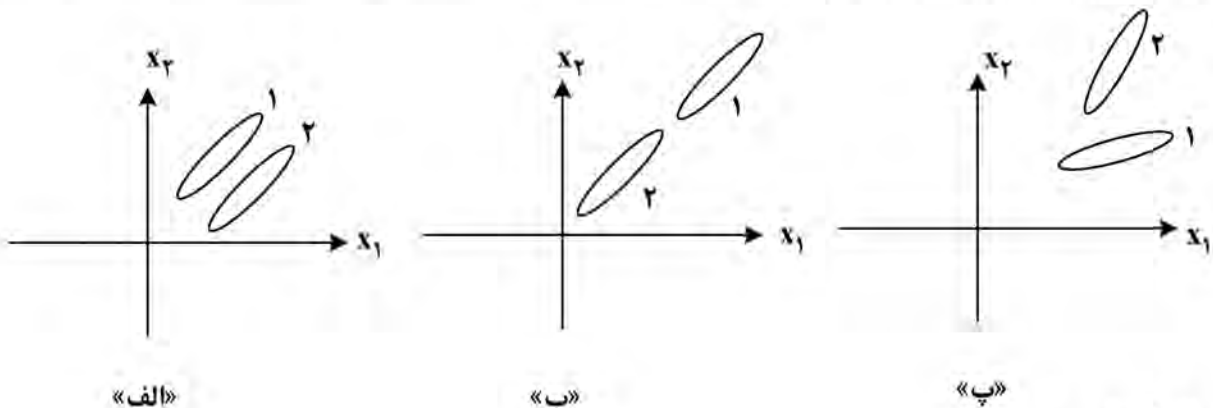
$\frac{1}{5}$ (۱)

$\frac{1}{2}$ (۴)

$\frac{1}{3}$ (۳)

۸۶- در یک مسئله طبقه‌بندی دو کلاسی با دو ویژگی x_1 و x_2 ، توزیع داده‌های آموزشی دو کلاس به صورت بیضی در

شکل‌های زیر، رسم شده است. با روش بدون سرپرست PCA می‌خواهیم بعد فضا را به یک کاهش دهیم. تصویر داده‌ها روی بردار ویژه متناظر با بزرگ‌ترین مقدار ویژه ماتریس کوواریانس کل داده‌ها، در کدام شکل بهتر جداپذیری دو کلاس را حفظ می‌کند؟



(۱) «الف»

(۲) «ب»

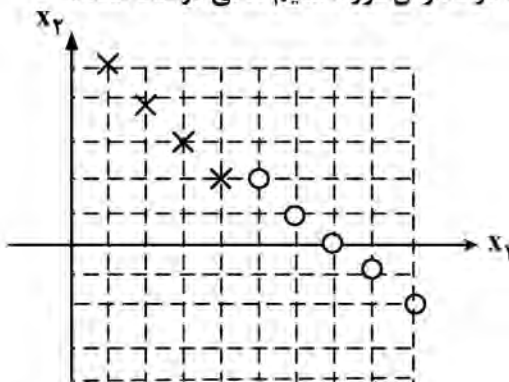
(۳) «پ»

(۴) در هر سه شکل، به یک اندازه جداپذیری دو کلاس حفظ می‌شود

۸۷- در یک مسئله طبقه‌بندی دوکلاسی در فضای ۳ بعدی از هر کلاس ۴ داده داریم و کل داده‌ها را در یک ماتریس $X_{3 \times 8}$ قرار داده‌ایم. فرض می‌کنیم میانگین هر ویژگی روی ۸ داده صفر است. فرض می‌کنیم بردارهای ویژه و مقادیر ویژه دو ماتریس، XX^T و X^TX به دست آمده‌اند. برای کاهش بعد فضا به یک با روش PCA، از کدام یک از بردارهای زیر استفاده می‌کنیم؟

- (۱) بردار ویژه متناظر با کوچک‌ترین مقدار ویژه ماتریس X^TX
- (۲) بردار ویژه متناظر با کوچک‌ترین مقدار ویژه ماتریس XX^T
- (۳) بردار ویژه متناظر با بزرگ‌ترین مقدار ویژه ماتریس XX^T
- (۴) بردار ویژه متناظر با بزرگ‌ترین مقدار ویژه ماتریس X^TX

۸۸- در فضای دوبعدی ویژگی، داده‌های دو کلاس با علامت O و X در شکل مشخص شده‌اند. اگر الگوریتم Hard SVM را روی این داده‌ها اجرا کنیم، کدام گزاره در مورد طبقه‌بندی طراحی شده در خصوص مرز تصمیم خطی درست است؟



- (۱) موازی با محور قائم است.
- (۲) موازی با $x_2 = -x_1$ است.
- (۳) موازی با $x_2 = x_1$ است.
- (۴) موازی محور افقی است.

۸۹- در یک طبقه‌بندی کننده ۳ کلاسی، از هر کلاس ۱۰۰ داده تست داریم و بعد از آموزش طبقه‌بند، ماتریس Confusion داده‌های تست، به صورت زیر به دست آمده است. اگر دو کلاس ۲ و ۳ را با هم یک کلاس در نظر بگیریم و از روی ماتریس داده شده در زیر، یک ماتریس Confusion برای طبقه‌بندی دوکلاسی بسازیم، درصد صحت Accuracy طبقه‌بندی دوکلاسی کدام است؟

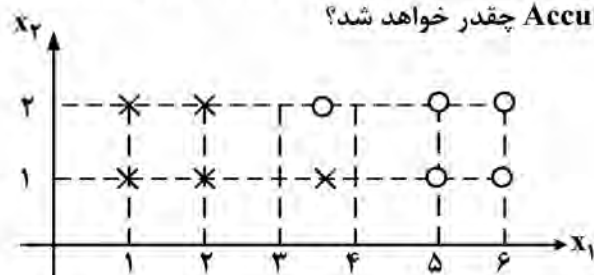
برچسب واقعی →

| | | | |
|--------|--------|--------|--------|
| | کلاس ۱ | کلاس ۲ | کلاس ۳ |
| کلاس ۱ | ۹۰ | ۴ | ۶ |
| کلاس ۲ | ۳ | ۹۱ | ۲ |
| کلاس ۳ | ۷ | ۵ | ۹۲ |

← برچسب تعیین شده توسط طبقه‌بند

- (۱) $\frac{273}{300}$
- (۲) $\frac{275}{300}$
- (۳) $\frac{278}{300}$
- (۴) $\frac{280}{300}$

۹۰- در فضای دوبعدی ویژگی، ۵ داده از هر یک از دو کلاس در یک مسئله طبقه‌بندی دوکلاسی در شکل داده شده است. اگر به روش Leave-one-out هر یک از داده‌ها را به عنوان داده تست در نظر بگیریم و به روش K-NN با $k=1$ برای آن برچسبی تخمین بزنیم، درصد صحت Accuracy چقدر خواهد شد؟

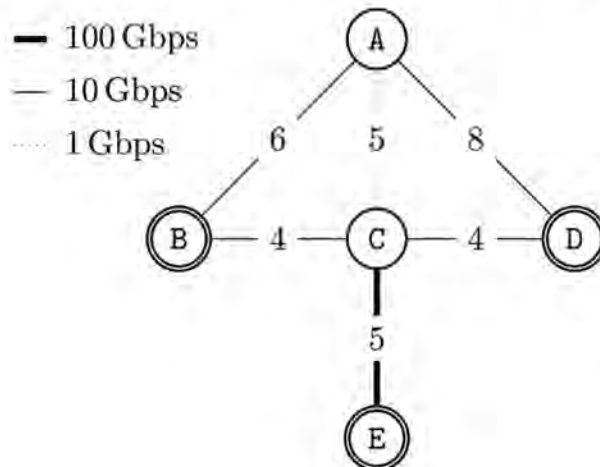


- (۱) ۱۰۰
- (۲) ۹۰
- (۳) ۸۰
- (۴) ۷۰

شبکه‌های پیشرفته:

- ۹۱- الگوریتم ARQ را که روی یک پیوند فیبر نقطه به نقطه 20 km اجرا می‌شود و همچنین سرعت انتشار نور در فیبر را نیز 2×10^8 متر بر ثانیه در نظر بگیرید. کدام مورد درست است؟
- (۱) تأخیر انتشار روی پیوند، 200 میکروثانیه است.
 - (۲) زمان رفت و برگشت روی پیوند، 0.4 میلی ثانیه است.
 - (۳) مقدار timeout مناسب ARQ برای این پیوند، 0.4 میلی ثانیه است.
 - (۴) مقدار timeout مناسب ARQ برای این پیوند، 200 میکروثانیه است.
- ۹۲- یک کنترل کننده نرخ مبتنی بر سطل توکن (token bucket) را با ظرفیت ۱ توکن و نرخ پر شدن 100 توکن در ثانیه در نظر بگیرید. هر بسته ۱ توکن مصرف می‌کند. اگر به ازای یک بسته ورودی، هیچ توکنی موجود نباشد، این بسته برای دورریزی احتمالی نشان گذاری می‌شود. فرض کنید که در زمان صفر، سطل توکن خالی باشد و اینکه توکن بعدی در زمان 10 ms وارد شود. در صورت ورود بسته‌ها در زمان‌های ۱۱، ۱۳، ۱۷، ۱۹، ۲۳ و ۲۹، کدام مورد درست است؟
- (۱) کلیه بسته‌ها نشان گذاری می‌شوند.
 - (۲) تنها بسته‌های ۱۳، ۱۷ و ۲۹ نشان گذاری می‌شوند.
 - (۳) به تعداد ۴ توکن در زمان 55 ms در سطل وجود دارد.
 - (۴) به تعداد ۳ توکن در زمان 55 ms در سطل وجود دارد.
- ۹۳- در مکانیسم تشخیص زودهنگام ازدحام (RED)، اگر حد آستانه پایین در خصوص طول صف انتظار مسیریاب برابر ۵ بسته، حد آستانه بالا برابر ۱۵ بسته و احتمال دور انداختن بسته در آستانه بالا برابر 0.5 باشد، احتمال دور انداختن بسته در صورتی که اندازه متوسط صف مسیریاب ۱۲ بسته باشد، کدام است؟
- (۱) ۱
 - (۲) 0.5
 - (۳) 0.35
 - (۴) صفر
- ۹۴- کدام یک از موارد زیر در ارتباط با SDN و پروتکل OpenFlow درست است؟
- (۱) در SDN، پروتکل OpenFlow جهت ارتباط بین کنترل کننده SDN و سایر مؤلفه‌ها اعم از سوئیچ‌های شبکه و برنامه‌های کاربردی کنترل شبکه (network-control applications) مورد استفاده قرار می‌گیرد.
 - (۲) در OpenFlow، سوئیچ‌ها با استفاده از پیام‌های read-state مقدار پارامترهای درخواست شده توسط کنترل کننده SDN را به کنترل کننده اعلام می‌کنند.
 - (۳) در SDN، پروتکل OpenFlow جهت ارتباط بین کنترل کننده SDN و مؤلفه‌های موجود در لایه داده مورد استفاده قرار می‌گیرد.
 - (۴) در OpenFlow، از پیام‌های packet-in جهت ارتباط از سمت کنترل کننده SDN به سوئیچ‌های شبکه استفاده می‌شود.

۹۵- شبکه نشان داده شده در تصویر را در نظر بگیرید که از ۵ مسیر یاب که یک پروتکل وضعیت پیوند (link state) را اجرا می کنند، تشکیل شده است. هزینه پیوندها دوطرفه است (یعنی در هر دو جهت یکسان است). مطابق شکل، پیوندها دارای پهنای باند متفاوت هستند (از ۱ Gbps تا ۱۰۰ Gbps). مسیر یاب A قصد دارد ۵۰ Gbps ترافیک را به مقصد مسیر یاب E بفرستد. فرض کنید اگر یک مسیر یاب چندین مسیر با هزینه برابر را به سوی یک مقصد بداند، ترافیک خود را به قصد توزان روی همه این مسیرها به طور برابر توزیع می نماید. کدام مورد درست است؟

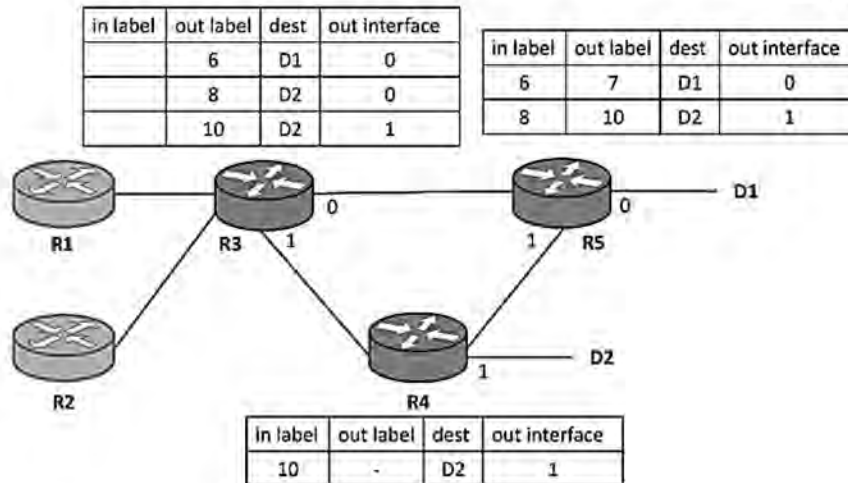


- (۱) براساس هزینه های فعلی، مسیر پیموده شده عبارتست از A, C, E (از چپ به راست) و این مسیر به لحاظ گذردهی بهینه است.
- (۲) براساس هزینه های فعلی، مسیر پیموده شده عبارتست از A, C, E (از چپ به راست) و این مسیر به لحاظ گذردهی غیربهینه است.
- (۳) چنانچه هزینه پیوند مابین مسیر یاب های A و C برابر با ۱۰ باشد، گذردهی میان مسیر یاب های A و E برابر با ۱ Gbps خواهد بود.
- (۴) چنانچه هزینه پیوند مابین مسیر یاب های A و C به مقداری بزرگتر - مساوی ۳ و کمتر از ۱۰ تغییر یابد، گذردهی میان مسیر یاب های A و E برابر با ۱۰ Gbps خواهد بود.

۹۶- فرض کنید پیغام ICMP درخواست برچسب زمانی (Timestamp Request) در زمان $t = 9$ نسبت به ساعت گره A از این گره ارسال و در زمان $t = 51$ نسبت به ساعت B در گره B دریافت شده و پیغام پاسخ (Timestamp Reply) آن در زمان $t = 53$ از گره B ارسال و در زمان $t = 31$ این پاسخ در گره A دریافت می شود. با فرض اینکه زمان رفت ۱/۵ برابر زمان برگشت باشد، زمان رفت و برگشت و تفاوت زمانی دو گره A و B به ترتیب در کدام مورد بیان شده است؟

- (۱) ۳۰ و ۲۰
- (۲) ۱۴ و ۲۰
- (۳) ۲۲ و ۳۰
- (۴) ۲۲ و ۱۴

۹۷- در شبکه زیر، R1 و R2 مسیریاب‌های استاندارد IP و مابقی مسیریاب‌ها دارای قابلیت جلورانی (forwarding) بسته‌ها مبتنی بر MPLS هستند. فرض کنید در صورت وجود داشتن چند ردیف در جدول یک مسیریاب MPLS به سمت مقصد یکسان یکی از ردیف‌ها به صورت تصادفی انتخاب می‌شوند. براساس شکل زیر، اگر مسیریاب R3 یک بسته به مقصد گره D2 دریافت کند، کدام مورد، در خصوص مسیر طی شده توسط این بسته می‌تواند درست باشد؟



- (۱) یا توجه به جدول فعلی، بسته نمی‌تواند به مقصد D2 برسد.
- (۲) بسته در R3 برچسب (label) 8 دریافت کرده و سپس از طریق مسیریاب R4 به سمت مقصد D2 حرکت می‌کند.
- (۳) بسته در R3 برچسب (label) 10 دریافت کرده و سپس از طریق مسیریاب R4 به سمت مقصد D2 حرکت می‌کند.
- (۴) بسته در R3 برچسب (label) 10 دریافت کرده و سپس از طریق مسیریاب R5 و بعد از آن R4 به سمت مقصد D2 حرکت می‌کند.

۹۸- در خصوص مکانیزم WFQ (صف‌بندی منصفانه وزن‌دار)، کدام مورد درست است؟

- (۱) چنانچه بسته‌ای برای پردازش وجود داشته باشد (فارغ از اولویت)، سرویس‌دهنده بیکار نمی‌ماند.
- (۲) همواره قادر است که یک تأخیر انتهایی-انتهای خاص را برای بسته‌ها ضمانت کند.
- (۳) خدمت‌رسانی به بسته‌ها را به ترتیب طول کوچک تا بزرگ بسته‌ها انجام می‌دهد.
- (۴) بسته‌هایی را که زمان خاتمه آنها طولانی‌تر است، زودتر پردازش می‌کند.

۹۹- چهار میزبان اینترنتی را در نظر بگیرید که هر کدام، یک نشست TCP دارند. این چهار نشست TCP یک لینک

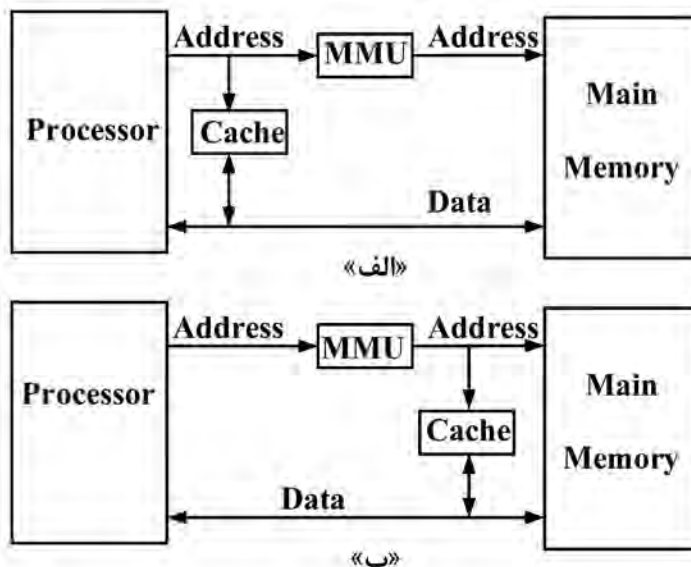
گلوگاهی مشترک را به اشتراک می‌گذارند. تمام افت بسته‌های مسیرهای انتها به انتها به این چهار نشست فقط در این یک لینک رخ می‌دهد. نرخ انتقال لینک گلوگاهی R است. زمان‌های رفت و برگشت (RTT) برای همه چهار میزبان تا مقصدهایشان تقریباً یکسان است. هیچ نشست دیگری در حال حاضر از این لینک استفاده نمی‌کند. این چهار نشست برای مدت طولانی در حال اجرا بوده‌اند. کدام مورد درست است؟

- (۱) اگر یکی از میزبان‌ها، نشست دومی را شروع کند، مجموع گذردهی تجربه‌شده توسط میزبان دارای دو نشست، بیشتر از میزبان‌های دیگر نخواهد بود.
- (۲) مجموع گذردهی تجربه‌شده هر دو نشست از این چهار نشست، برابر با $RTT/2$ است.
- (۳) گذردهی تقریبی هریک از این چهار نشست TCP، با هم متفاوت است.
- (۴) گذردهی تقریبی یکی از نشست‌ها، برابر با $R * RTT/4$ است.

- ۱۰۰- امروزه با افزایش مقیاس و ترافیک شبکه‌های کامپیوتری، مدیریت کارای شبکه بیش از پیش از اهمیت برخوردار است. با توجه به این نکته، کدام مورد در خصوص رویکردهای مدیریت شبکه درست نیست؟
- (۱) در پروتکل SNMPv3، پیام‌های GetBulkRequest به منظور درخواست بلوک‌های بزرگ داده به صورت یکجا و کاهش سربار استفاده از چند پیام GetRequest و GetNextRequest مورد استفاده قرار می‌گیرد.
- (۲) پروتکل SNMP جهت تعامل بین مدیر (manager) و عامل (agent) مورد استفاده قرار می‌گیرد و از پروتکل UDP در لایه حمل استفاده می‌کند.
- (۳) در پروتکل SNMP، پیام‌های Trap جهت اعلام وقوع شرایط خاص و استثنایی تأثیرگذار از سمت مدیر به سمت عامل ارسال می‌شود.
- (۴) از پروتکل Netconf می‌توان به منظور پیکربندی شبکه سازگار با زبان مدل‌سازی داده YANG استفاده کرد.

معماری کامپیوتر پیشرفته - VLSI پیشرفته:

- ۱۰۱- کدام یک از موارد زیر، از مزایای روش (Interleaved Memory) به نسبت راه کارهایی که از این روش استفاده نمی‌کنند نیست؟
- (۱) کاهش CPI پردازنده‌ها
- (۲) کاهش سربار پیاده‌سازی حافظه‌ها
- (۳) افزایش Concurrency (همروندی) در اجرای برنامه‌ها
- (۴) افزایش سرعت دسترسی به Chip تراشه‌های حافظه اصلی به دلیل حجم کوچک‌تر Chip‌ها
- ۱۰۲- دو معماری کامپیوتر زیر را در نظر بگیرید. کدام مورد در خصوص نحوه آدرس‌دهی حافظه نهان معماری «الف» و «ب» به ترتیب درست است؟ (راهنمایی: هر دو معماری از آدرس‌دهی Virtual استفاده می‌کنند.)



(۲) physical و physical
(۴) physical و logical

(۱) logical و logical
(۳) logical و physical

۱۰۳- با در نظر گرفتن سربار پیاده‌سازی سیاست‌های نوشتن **Write through** و **Write Back**، کدام سیاست برای پیاده‌سازی **L1 Instruction Cache** پیشنهاد می‌شود؟

- (۱) **Write Back** با حذف فیلد **Dirty** یا **Use** (۲) تفاوتی بین آنها از نظر سربار پیاده‌سازی نیست.
(۳) **Write Back** (۴) **Write through**

۱۰۴- تحت چه شرایطی **CPI (Clock Cycle Per Instruction)** می‌تواند کوچک‌تر از ۱ باشد؟

(۱) با تغییر ساختار حافظه پنهان

(۲) زمانی که در خط لوله هیچ‌گونه هزاردی نداشته باشیم.

(۳) زمانی که تعدادی از دستورات بتوانند به صورت موازی اجرا شوند.

(۴) در حالت ایده‌آل، مقدار **CPI** می‌تواند ۱ باشد و کمتر از ۱ امکان‌پذیر نیست.

۱۰۵- یکی از راه‌های کاهش نرخ شکست (**Miss Rate**) در طراحی حافظه پنهان، افزایش ظرفیت حافظه پنهان می‌باشد. کدام یک از موارد زیر، از معایب این روش است؟

- (۱) افزایش زمان **Hit Time** (۲) افزایش **Miss Penalty**
(۳) افزایش **Miss Time** (۴) افزایش **CPI**

۱۰۶- در یک پردازنده **issue superscalar** ۲ از تکنیک **loop unrolling** برای حذف / کاهش تأخیر ناشی از وابستگی‌های داده‌ای استفاده می‌شود. پردازنده امکان اجرای موازی یک دستور ممیز شناور را به همراه هر دستور از نوع دیگری (غیر از ممیز شناور) مثل مراجعه به حافظه و یا محاسبات اعداد صحیح دارد. جدول زیر، میزان تأخیر آماده‌سازی نتایج در اجرای متوالی دستورات را در واحد پالس ساعت نشان می‌دهد. اگر فرض کنیم که برای اجرای دستورات حلقه زیر از دوبار باز کردن حلقه (۲ = **unrolling**) استفاده شود، تعداد پالس‌های ساعت مورد نیاز برای اجرای تکه‌کد زیر چقدر است؟ (دستورات بررسی شرط و پرش شرطی، هر کدام یک پالس ساعت تأخیر نیاز دارند).

| تأخیر | نوع دستور بعدی | نوع دستور در حال اجرا |
|-------|----------------|-----------------------|
| ۳ | ممیز شناور | ممیز شناور |
| ۲ | نوشتن در حافظه | ممیز شناور |
| ۱ | ممیز شناور | خواندن از حافظه |
| ۵ | نوشتن در حافظه | خواندن از حافظه |
| ۵ | محاسبات صحیح | محاسبات صحیح |

Loop : L.D F0, 0(R1) ; F0 = array element

ADD.D F4, F0, F2 ; floating point add

S.D 0(R1), F4 ; store result

SUBI R1, R1, # 8 ; decrement pointer

BNEZ R1, Loop ; branch

(۴) ۸

(۳) ۹

(۲) ۱۵

(۱) ۱۱

۱۰۷- در حافظه پنهان با ثابت نگه داشتن ظرفیت کل آن (**total cache size**)، اندازه بلاک‌ها را افزایش داده‌ایم. کدام مورد در خصوص انواع نرخ نبود داده (**cache miss**) اعم از **Compulsory Conflict** و **Capacity** درست است؟

(۱) موجب کاهش نرخ نبود داده از نوع **conflict** می‌شود.

(۲) موجب افزایش نرخ نبود داده از نوع **conflict** می‌شود.

(۳) موجب ثابت ماندن نرخ نبود داده از نوع **conflict** می‌شود.

(۴) به‌طور موقت، باعث کاهش نرخ نبود داده از نوع **Compulsory** می‌شود.

۱۰۸- در رویکرد پویای پیش‌بینی انشعاب (Dynamic branch prediction)، روش پیش‌بینی انشعاب دوبیتی (۲-bit predictor) در حلقه تودرتوی زیر، چند بار پیش‌بینی نادرست دارد؟ (فرض کنید اولین پیش‌بینی درست باشد).

```
for (i = 0; i < 200; i++) {
    for (j = 0; j < 100; j++) {
        ...
    }
}
```

(۱) ۲۰۰
(۲) ۲۰۱
(۳) ۲۰۲
(۴) ۲۰۰۰۰

۱۰۹- در یک پردازنده با خط لوله ۵ مرحله‌ای و قابلیت پیش‌بینی انشعاب، برنامه‌ای در حال اجرا است که ۲۰ درصد دستورات آن، انشعاب هستند. فرض کنید Clock Per Instruction (CPI) در حالت ایده‌آل برابر ۱/۲ باشد. اگر دقت پیش‌بینی انشعاب ۸۰ درصد باشد و هر پیش‌بینی اشتباه ۴ چرخه ساعت هزینه زمانی داشته باشد، میزان CPI چه مقدار خواهد بود؟

(۱) ۱/۳۶
(۲) ۲
(۳) ۲/۲۴
(۴) ۴/۴

۱۱۰- در پردازنده‌ای با معماری ۳۲ بیتی، میزان حافظه نهان ۸kB است و با تکنیک Direct map پیاده‌سازی شده. اندازه هر بلاک حافظه نهان ۴ کلمه و هر کلمه ۴ بایت است. برای جستجوی داده در این حافظه، پهنای مقایسه‌گری که داده موردنظر CPU را با داده موجود در حافظه بررسی می‌کند، چند بیت است؟

(۱) ۳۲
(۲) ۲۰
(۳) ۱۹
(۴) ۹

۱۱۱- کاربرد الگوریتم توماسلو (Tomasulo) چیست؟

(۱) کاهش هزاردهای ساختاری
(۲) کاهش هزاردهای وابستگی داده‌ها
(۳) کاهش هزاردهای کنترلی
(۴) موارد ۲ و ۳

۱۱۲- پردازنده‌ای دارای ساختار خط لوله است. ۴ ایستگاه اول باید طی شود تا آدرس دستورات پرش محاسبه شود. بعد از آن ۲ ایستگاه دیگر باید طی شود تا صحت شرط مشخص شود. اگر استراتژی برخورد با دستورات پرش، فرض بر taken بودن باشد ولی دستوری که وارد شده not taken باشد، آنگاه تعداد تأخیر (stall) برای این شرایط، چند پالس ساعت می‌شود؟

(۱) ۶
(۲) ۵
(۳) ۳
(۴) ۱

۱۱۳- وقتی از cache استفاده می‌شود، برای کاهش زمان دسترسی به حافظه می‌توان از روش critical word first استفاده کرد یعنی وقتی که miss رخ می‌دهد ابتدا کلمه موردنظر CPU و سپس بقیه کلمات بلوک را بخواند. این استراتژی باعث بهبود چه موردی می‌شود؟

(۱) کاهش miss rate
(۲) کاهش hit time
(۳) کاهش miss penalty
(۴) کاهش hit time و افزایش miss penalty

۱۱۴- در یک پردازنده با ۴ هسته پردازشی و فرکانس کاری 2GHz، ۱۰ درصد دستورات در هسته‌ها نیاز به ارتباط با سایر هسته‌ها دارند و به ازای آن دستورات، عملیات هسته مربوط تا اجابت درخواست به مدت ۲ نانوثانیه متوقف می‌شود. اگر CPI در پردازنده در حالتی که به ارتباط بین هسته‌ها نیاز نباشد، برابر ۵/۳ باشد، میزان تسریع این پردازنده با در نظر گرفتن ارتباط بین هسته‌ها نسبت به پردازنده مشابهی که ۳۰ درصد دستورات آن نیاز به ارتباط دارند و زمان انتظار پردازنده در هر ارتباط ۳ نانوثانیه است، به چه میزان است؟

- (۱) ۳
(۲) ۲/۴
(۳) ۲
(۴) ۱/۵

۱۱۵- در سیستم‌های چندپردازنده (Multiprocessors) برای همگن بودن حافظه‌های نهان همه پردازنده‌ها (cache coherence) از روش بشنود (Snooping) استفاده می‌شود. اگر یک بلوک از حافظه در حافظه نهان چند پردازنده مختلف باشد و یکی از آن پردازنده‌ها بخواهد که محتویات بلوک مذکور را تغییر دهد، چه وقایعی رخ می‌دهد؟

- (۱) پردازنده نویسنده، بلوک را exclusive می‌برد و بقیه پردازنده‌ها بلوک را shared می‌کنند.
(۲) پردازنده نویسنده، بلوک را به حالت invalid می‌برد و بقیه پردازنده‌ها بلوک را exclusive می‌کنند.
(۳) پردازنده نویسنده، بلوک را به حالت shared می‌برد و بقیه پردازنده‌ها بلوک را invalid می‌کنند.
(۴) پردازنده نویسنده، بلوک را به حالت exclusive می‌برد و بقیه پردازنده‌ها بلوک را invalid می‌کنند.

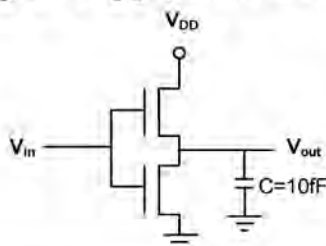
۱۱۶- کدام مورد، در خصوص عواقب ناشی از عدم رعایت قواعد طراحی درست نیست؟

- (۱) افزایش تعداد متوسط تراشه‌های خراب در مرحله ساخت
(۲) معمولاً، کاهش طول عمر تراشه
(۳) خراب شدن تابع منطقی طرح
(۴) افزایش احتمالی تأخیر طرح

۱۱۷- کدام مورد در خصوص قفل‌شدگی (Latchup) و اثر بدنه (Body effect) درست است؟

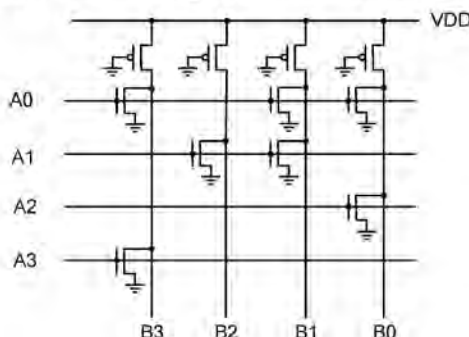
- (۱) اثر بدنه وابسته به مقدار ولتاژ آستانه است و با تغییر ضخامت عایق زیر گیت می‌توان آن را از بین برد.
(۲) اثر بدنه با تغییر لی‌اوت یک گیت قابل رفع نیست ولی قفل‌شدگی را با تغییر رسم لی‌اوت می‌توان از بین برد.
(۳) هم اثر بدنه و هم قفل‌شدگی را با تغییر نوع فناوری ساخت می‌توان از بین برد.
(۴) هم اثر بدنه و هم قفل‌شدگی را با تغییر رسم لی‌اوت می‌توان از بین برد.

۱۱۸- به ورودی وارونگر زیر، سیگنالی با پریود ۱۰ نانوثانیه و با ولتاژ ۳/۳ ولت متصل شده است. مقدار توان دینامیکی مصرف‌شده در این دروازه، به طور تقریبی کدام است؟



- (۱) 5mW
(۲) 12mW
(۳) 5μW
(۴) 10μW

۱۱۹- در حافظه فقط خواندنی زیر، بیت‌های A[3:0] آدرس و بیت‌های B[3:0] داده خروجی هستند. محتوای دو آدرس 0001 و 1010 به ترتیب کدام است؟

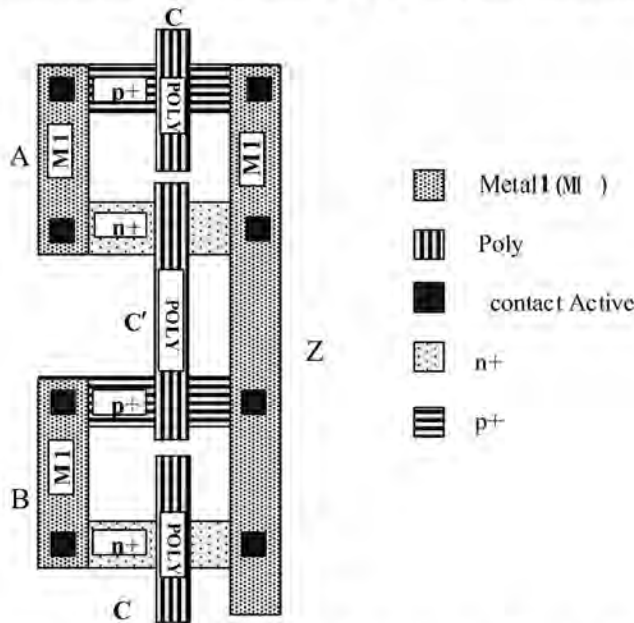


- (۱) 0011 و 0001
(۲) 0100 و 1000
(۳) 0100 و 0001
(۴) 0010 و 1000

۱۲۰- اگر تعداد ماسک‌های موردنیاز برای ساخت یک ترانزیستور NMOS با یک لایه فلز در یک فناوری ساخت، برابر با ۴ ماسک باشد، تعداد ماسک‌های لازم برای ساخت یک PMOS با ۶ لایه فلز کدام است؟

- (۱) ۱۵
(۲) ۱۰
(۳) ۹
(۴) ۸

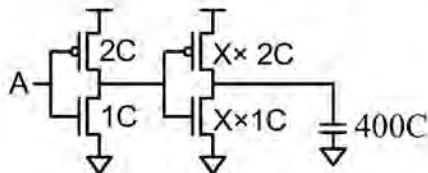
۱۲۱- در لی‌اوت زیر، پورت‌های A، B، C و $C' = \text{NOT}(C)$ ورودی‌های مدار و Z خروجی آن است. این لی‌اوت (lay out)



چه تابع منطقی را پیاده می‌کند؟

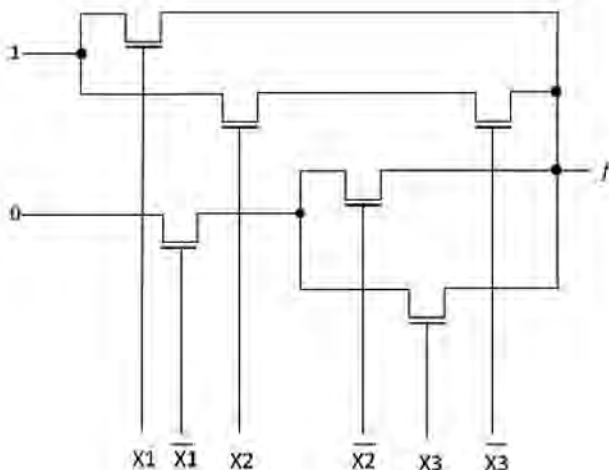
- (۱) AND سه ورودی
(۲) MUX دو به یک
(۳) NOR سه ورودی
(۴) NAND سه ورودی

۱۲۲- بافر دوطبقه زیر را در نظر بگیرید. بهترین اندازه برای طبقه دوم (X) برای اینکه تأخیر شارژ خازن خروجی حداقل شود، کدام است؟



- (۱) ۲۰
(۲) ۱۴/۱
(۳) ۱۱/۵
(۴) ۱۰

۱۲۳- شکل زیر، چه تابعی را پیاده‌سازی می‌کند؟



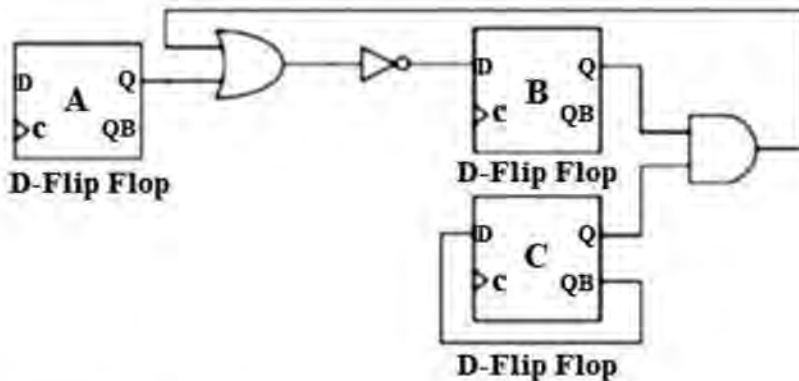
$$f = X_1 + X_2 + \overline{X_1} \cdot \overline{X_2} + X_1 \cdot \overline{X_3} \quad (۱)$$

$$f = \overline{X_1} \cdot (\overline{X_2} + X_3) \quad (۲)$$

$$f = X_1 + X_2 \cdot \overline{X_3} \quad (۳)$$

$$f = X_1 \cdot X_2 \cdot \overline{X_3} \quad (۴)$$

۱۲۴- برای مدار زیر که تمام فلیپ‌فلاپ‌ها به پالس ساعت یکسان وصل هستند، اطلاعات زیر داده شده است. کوچک‌ترین پریود پالس ساعت که این مدار می‌تواند به درستی کار کند، بر حسب نانوثانیه چقدر است؟



Setup time = 5 nsec, 2 nsec < Clock – to – Q delay < 4 nsec, 1 nsec < NOT gate delay < 4 nsec
2 nsec < AND gate delay < 6 nsec, 2 nsec < OR gate delay < 6 nsec

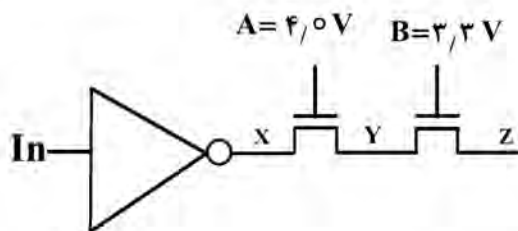
(۲) ۲۴

(۱) ۱۲

(۴) ۵۰

(۳) ۲۵

۱۲۵- مدار شکل زیر، از یک معکوس‌کننده CMOS و دو ترانزیستور تشکیل شده و پارامترهای مدار به صورت $V_{dd} = 3\text{ V}$, $V_t = 0.6\text{ V}$ است.



اگر ورودی مدار صفر ولت باشد، ولتاژ نقاط Y و Z به ترتیب چند ولت است؟

(۱) ۳ و ۲/۷

(۲) ۳/۴ و ۲/۷

(۳) ۳ و ۳

(۴) ۲/۴ و ۱/۸



| مجموعه امتحانی | | عنوان دفترچه | | | | کد دفترچه | |
|------------------------|------------|--------------|------------|------------|------------|------------|------------|
| ۲۳۵۴ - مهندسی کامپیوتر | | دروس اختصاصی | | | | ۹۰۶A | |
| گزینه صحیح | شماره سوال | گزینه صحیح | شماره سوال | گزینه صحیح | شماره سوال | گزینه صحیح | شماره سوال |
| ۲ | ۱۲۱ | ۳ | ۹۱ | ۱ | ۶۱ | ۳ | ۳۱ |
| ۲ | ۱۲۲ | ۴ | ۹۲ | ۳ | ۶۲ | ۱ | ۳۲ |
| ۱ | ۱۲۳ | ۳ | ۹۳ | ۲ | ۶۳ | ۲ | ۳۳ |
| ۳ | ۱۲۴ | ۳ | ۹۴ | ۴ | ۶۴ | ۴ | ۳۴ |
| ۴ | ۱۲۵ | ۲ | ۹۵ | ۲ | ۶۵ | ۱ | ۳۵ |
| | | ۱ | ۹۶ | ۲ | ۶۶ | ۳ | ۳۶ |
| | | ۳ | ۹۷ | ۴ | ۶۷ | ۲ | ۳۷ |
| | | ۱ | ۹۸ | ۱ | ۶۸ | ۲ | ۳۸ |
| | | ۴ | ۹۹ | ۲ | ۶۹ | ۱ | ۳۹ |
| | | ۳ | ۱۰۰ | ۴ | ۷۰ | ۴ | ۴۰ |
| | | ۲ | ۱۰۱ | ۳ | ۷۱ | ۱ | ۴۱ |
| | | ۴ | ۱۰۲ | ۱ | ۷۲ | ۲ | ۴۲ |
| | | ۴ | ۱۰۳ | ۲ | ۷۳ | ۲ | ۴۳ |
| | | ۳ | ۱۰۴ | ۱ | ۷۴ | ۴ | ۴۴ |
| | | ۱ | ۱۰۵ | ۴ | ۷۵ | ۱ | ۴۵ |
| | | ۲ | ۱۰۶ | ۳ | ۷۶ | ۳ | ۴۶ |
| | | ۴ | ۱۰۷ | ۴ | ۷۷ | ۴ | ۴۷ |
| | | ۲ | ۱۰۸ | ۲ | ۷۸ | ۲ | ۴۸ |
| | | ۱ | ۱۰۹ | ۲ | ۷۹ | ۳ | ۴۹ |
| | | ۳ | ۱۱۰ | ۱ | ۸۰ | ۱ | ۵۰ |
| | | ۱ | ۱۱۱ | ۴ | ۸۱ | ۱ | ۵۱ |
| | | ۲ | ۱۱۲ | ۱ | ۸۲ | ۴ | ۵۲ |
| | | ۳ | ۱۱۳ | ۱ | ۸۳ | ۳ | ۵۳ |
| | | ۱ | ۱۱۴ | ۳ | ۸۴ | ۴ | ۵۴ |
| | | ۴ | ۱۱۵ | ۴ | ۸۵ | ۲ | ۵۵ |
| | | ۳ | ۱۱۶ | ۲ | ۸۶ | ۱ | ۵۶ |
| | | ۲ | ۱۱۷ | ۳ | ۸۷ | ۴ | ۵۷ |
| | | ۴ | ۱۱۸ | ۱ | ۸۸ | ۳ | ۵۸ |
| | | ۳ | ۱۱۹ | ۴ | ۸۹ | ۴ | ۵۹ |
| | | ۱ | ۱۲۰ | ۳ | ۹۰ | ۲ | ۶۰ |